

## TÜRKÇE TEST

- 1- "Karşıdan karşıya ....." cümlesini olumlu bir cümle yapmak istersek nasıl tamamlamalıyız?  
a- geçmedim b- geçtim c- geçmediniz
- 2- "Yeni kazağımı niye ....." Cümlesini nasıl tamamlarsak anlamlı bir cümle elde etmiş oluruz?  
a- kaçırdın b- bakmak lazım c- giymedin
- 3- "Öyle mutluydu ki, sevincinden neredeyse ....." cümlesindeki noktalı yere aşağıdaki hangi sözcük getirilemez?  
a- şaşıracaktı b- uçacaktı c- bayılacaktı
- 4- "Şoför.....oldukça ..... sürüyordu." ifadesinde noktalı yerlere sırasıyla hangi kelimeler yazılmalıdır?  
a- taksiyi-dertli b- otobüsü-dikkatli c- arabayı-kesin
- 5- Hangisinin ilk harfi daima büyük yazılmalıdır?  
a- köpek b-karabaş c- kedi
- 6-" Belki daha sonra size ....." cümlesini nasıl tamamlamalıyız?  
a-uğrarım b- yok c- aldık
- 7- Aşağıdakilerin hangisi yazılırken yanlışlık yapılmıştır?  
a- Enes bugün hava çok güzel. b- ders Çalışmayı çok seviyorum. c- Kırmızı kalem aldım.
- 8- "Utku, Barış, Tarkan ve Tolga pikniğe gittiler."  
1 2 3 4  
Yukarıdaki cümlede, numaralanmış kelimelerden hangisi yanlış yazılmıştır?  
a- 4. Kelime b- 3. Kelime c- 2. Kelime
- 9- Aşağıdaki özel isimlerden hangisinin yazılışı yanlıştır?  
a- Mustafa Kemal Atatürk b- Kirazlık köyü c- Gümüşhane
- 10- "İstanbul"a hiç gittin mi ( )" cümlesinden sonra, hangi noktalama işareti konmalıdır?  
a- (.) b- (") c- (?)
- 12- "Cevdet bey, yarın akşam Muğla'ya gidiyor." cümlesinde yanlış yazılan kelime hangisidir?  
a- bey b- yarın c- Muğla'ya
- 13- "Ali() nin teyzesi ( )halası bize gelecekmiş." Bu cümledeki parantezli yerlere hangi noktalama işaretleri konulmalıdır?  
a- (')(:) b- (')(. ) c- (') (, )
- 14- "Akşam yemekte çorba ( ) pilav ( ) fasulye yedik ( )" Bu cümlede ( ) içlerine sırayla neler yazılmalıdır?  
a- (.) (,) (.) b- (,) (,) (.) c- (,) (,) (?)
- 15- "Yarışmada İrem 3. oldu." Bu cümlede altı çizili ifadenin yerine hangisi yazılabilir?  
a- üçüncü b- 3üncü c- 3
- 16- Aşağıdaki cümlelerde, altı çizili kelimelerin hangisinde kesme işareti kullanılması yanlıştır?  
a- Otobüs 10.30'da gelecek. b- Turan seni kapı'da bekliyor. . c- Bu yaz Çanakkale'ye gideceğiz.
- 17- 'al-kırmızı' kelimelerinin arasındaki ilişkiye benzer ilişki aşağıdaki hangi ikilide vardır?  
a- gece-gündüz b- ilk- son c- yetenek- kabiliyet
- 18- 'baş- başlık' kelimelerinin arasındaki ilişkiye benzer ilişki aşağıdaki hangi ikilide yoktur?  
a- küpe- kulak b- göz-gözlük c- masa – sandalye
- 19- Aşağıdaki kelimelerden hangisi anlam yönünden diğerlerinde farklıdır?  
a- yağmur b- toprak c- kar

## FEN BİLİMLERİ

1. \*\*\*Zarar görürüm fazla kalırsam güneşin altında.

\*\*\*En büyük duyu organımızdır.

Yukarıda özellikleri belirtilen duyu organımız hangisidir ?

A) burun B) göz C) deri

- 1.Çekmeceyi açmak.
2. Telefonun tuşlarına basmak.
3. Kalemtraş ile kalemlerin ucunu açmak.

2. Yukarıdaki davranışlardan hangisinde itme kuvveti uygulanır ?

A) 1 B)2 C) 3

3. Maddenin katı hali için aşağıdakilerden hangisi doğrudur?

A) Akışkandır. B) Bulunduğu ortama yayılır. C) Belirli bir şekli vardır.

4. Aşağıdakilerden hangisi canlıların yaşaması için gerekli bir madde değildir ?

A) Hava B) Tahta C) Su

5. Aşağıdakilerden hangisi yapay ışık kaynağıdır?

A) Meşale B) Şimşek C) Yıldız

6. Hangisi doğal ses kaynağıdır ?

A) araba B) gitar C) yağmur

5. Duyu organlarımızla ilgili verilen ifadelerden hangisi yanlıştır?

- A) Beş tane duyu organımız vardır.  
B) Duyu organlarımızdan biri çalışırken diğeri çalışmaz.  
C) Duyu organlarımızın sağlıklı olması çok önemlidir.

## HAYAT BİLGİSİ TEST

1- I. Kutup yıldızı II.Güneş III.Ay Yandakilerden hangileri yön bulmada kullanılabilir?

a) II ve III b) I ve II c) I ve III

2- Depremde evi yıkılan bir aileye evimizi kullanabileceklerini ve bizimle kalabileceklerini söyledik. Bu ailenin hangi temel ihtiyacı geçici olarak karşılanmış olur?

A) Barınma B) Beslenme C) Giyinme

3-Kutup yıldızı hangi yönü gösterir?

a)Bati b)Doğu c)Kuzey

6-Aşağıdakilerden hangisi Gizem'in fiziksel özelliklerinden biridir?

A) Müzik dinlemeyi sevmesi B) 3.sınıf öğrencisi olması C) Kıvrıkcık, siyah saçlı olması

7- "Pusulayı" aşağıdaki alanlardan hangisinde kullanırız?

A) Zamanı öğrenmede B) Yön bulmada C) Hava durumunu öğrenmede

8- Okuldaki bir acil durumda ilk önce kime haber verilir?

A )Nöbetçi öğretmene B )Sınıf başkanına C )Okul müdürüne

10- Dedelerimiz aşağıdaki oyunlardan hangisini oynamış olabilir?

A) saklambaç B) lego C) bilgisayar oyunu

12- "Okul bahçesinde gezerken yerde bir çöp gördünüz." Bu durumda hangisini yapmanız doğru olur?

- a) Görmemezlikten gelmelisiniz.  
b) Çöpü alıp çöpe atmalısınız.  
c) Nasıl olsa yer çöp dolu deyip bir çöpte siz atmalısınız.

13- Aşağıdakilerden hangisi insanların dış görünüşleriyle ilgili özellikleridir ?

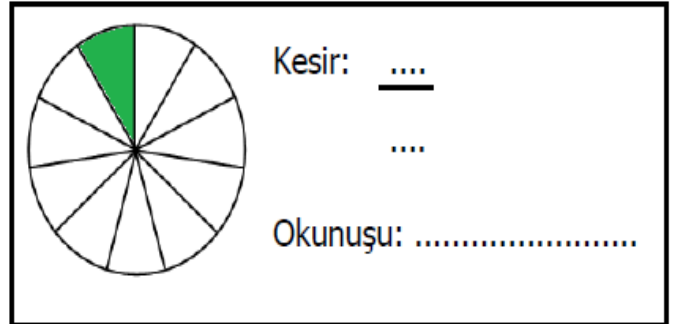
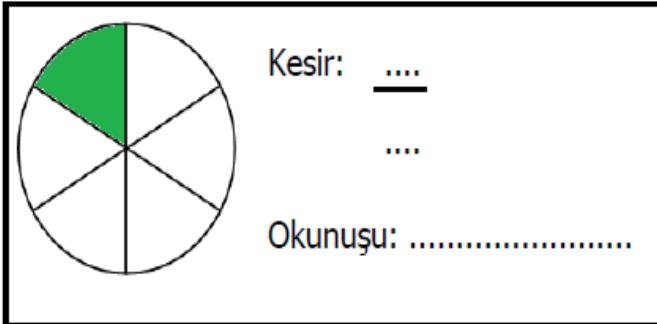
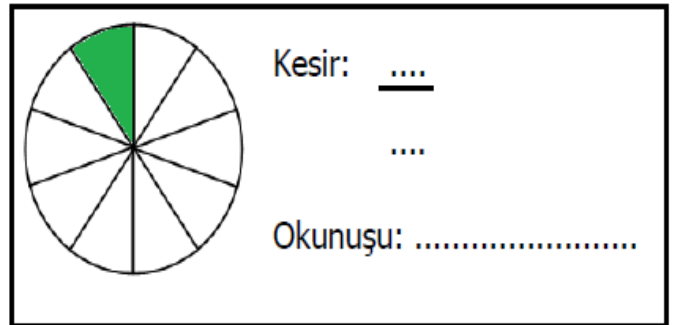
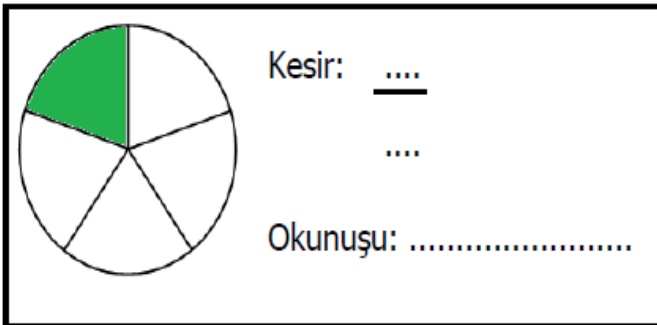
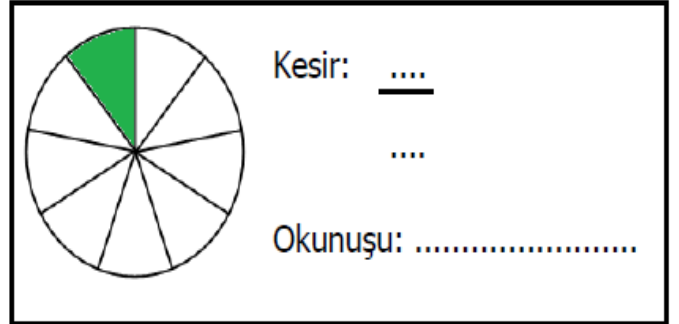
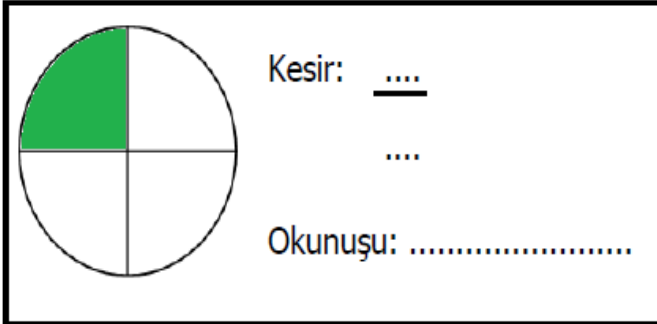
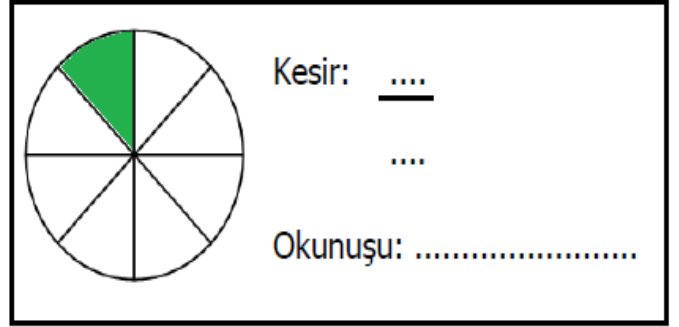
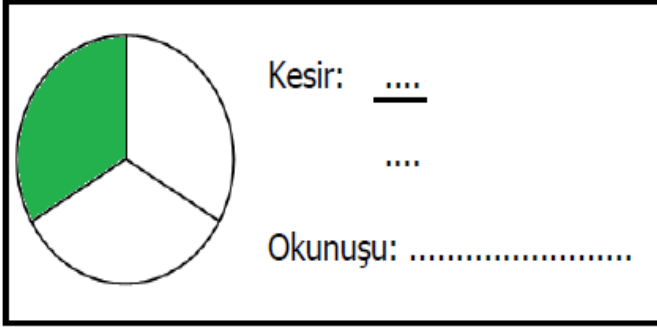
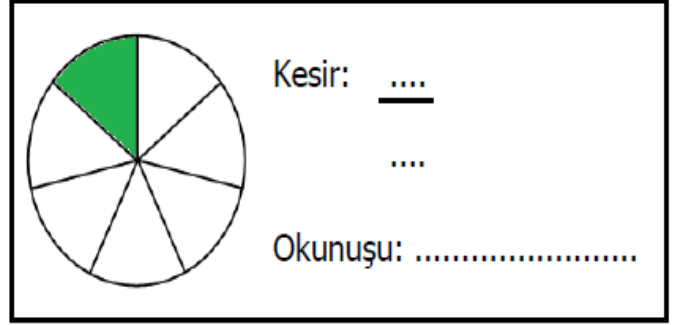
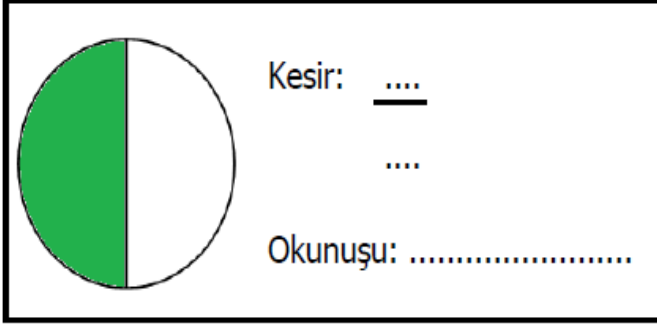
a ) Arkadaş ilişkileri b ) Fiziksel özellikleri c ) Okuma - yazma becerisi

15-Sağ kolumuzu güneşin doğduğu yöne doğru açarsak yüzümüz hangi yönü gösterir?

a)Kuzey b)Güney c)Doğu

## PARA BÜTÜN İLİŐKİSİ VE BİRİM KESİR

AŐađıdaki Őekiller ka paraya bÖlünmüŐ ve ne kadarı boyanmıŐtır. Őeklin ifade ettiđi kesri ve okunuŐunu yazınız.



Aşağıdaki kesir modellerinin birim kesir kadarını boyayınız. Kesir modellerini yazınız.

