

FEN BİLİMLERİ

1-Aşağıdakilerden hangisi duyu organlarımızdan biri değildir?

- A)kulak B) deri C) diş

2-Aşağıdakilerden hangisi işitme organımızdır?

- A) kulak B) göz C) burun

3-Saatin akrep ve yelkovanı hangi hareketi yapar?

- A) sallanma B) dönme C) hızlanma

4-Aşağıdaki varlıklarla yaptıkları hareket çeşidi eşleştirilmiştir.Buna göre hangisi yanlıştır?

- A) Beşik – Sallanma hareketi B)Topaç – Dönme hareketi C) Salıncak – Dönme hareketi

5-Aşağıdaki eşleştirmelerden hangisi yanlıştır?

- A) Burun – koku alma organı B) Dil – Hissetme organı C)Göz – görme organı

6-Aşağıdakilerden hangisi duyu organlarımızdan biridir?

- A) deri B) kaş C) kalp

7-Aşağıdakilerden hangisi dönme hareketi yapmaz?

- A)Yel değirmeni B)Fren yapan araba C)Pervane

8-Aşağıdakilerden hangisi hem sallanma hem yön değiştirme hareketi yapar?

- A)Salıncak B)Rüzgâr gülü C)Rakete çarpan top

9-Hareketsiz varlıkların hızı dır.

Yukarıdaki cümlede boş bırakılan yere hangisi yazılmalıdır.

- A) sıfır B) yavaş C) hızlı

10-Çekmeceyi kapatmak için nasıl bir kuvvet uygularız?

- A) çekme B) itme C) kaldırma

11- “Buzdolabının kapağını açmak için kuvveti uygularız.”

Yukarıdaki cümlede boş bırakılan yere hangisi yazılmalıdır?

- A)sallama B) çekme C) itme

12- “..... eden bir varlık yer değiştirir.” Yukarıdaki cümlede boş bırakılan yere hangisi yazılmalıdır?

- A) Kuvvet B) Hareket C) Hızlı

13- Aşağıdakilerden hangisi gaz madde değildir?

- A) su buharı B) aldığımız nefes C) buz

14- Aşağıdakilerden hangisi yanlıştır?

- A) çaydanlık-sert madde B) yastık-kırılğan madde C) sünger-esnek madde

15- Aşağıdakilerden hangisi katı madde değildir?

- A) duman B) kalem C) kaşık

16- Cisimlerin şeklini, yönünü değiştirebilen, hızını artıran veya azaltan etkiye ne denir?

- A) itme B) çekme C) kuvvet

17- Duyu organlarımızın sağlığı ile ilgili aşağıdakilerden hangisi yanlıştır?

- A)Yüksek sesle müzik dinlemeliyiz.
B)Uçakların çıkardığı ses kulaklarımıza zarar verebilir.
C)Kulağımıza herhangi bir cisim sokmamalıyız.

18- Aşağıdakilerden hangisi yanlıştır?

- A)Dil sağlığı için çok sıcak ve çok soğuk yiyecekler yememeliyiz.
B)Ne olduğunu bilmediğimiz yiyecek ve içeceklerin tadına bakmamalıyız.
C)Gördüğümüz her maddeyi koklamalıyız.

19- “Odasında ders çalışan Oğuzhan canı sıkılınca pencereyi açıp dışardaki oyun oynayan arkadaşlarına baktı ve onların konuşmalarını dinledi.” Buna göre Oğuzhan hangi duyu organını kullanmamıştır?

- A) göz B) burun C) kulak

20 Ayna ile ilgili aşağıdakilerden hangisi yanlıştır?

- A) kırılıgandır B) katı maddedir C) pürüzlüdür

21- Kar, yağmur, sis gibi doğa olayları Dünya'nın hangi katmanında gerçekleşir?

- A) hava katmanı B) su katmanı C) kara tabakası

22- Aşağıdaki duyu organı ve görev eşleştirmelerinden hangisi yanlıştır?

- A) kulak-ışıtme B) dil-tat alma C) deri-koklama

23- Aşağıdakilerden hangisi Dünya'nın gözlenebilir katmanlarından biri değildir?

- A) manto tabakası B) su katmanı C) kara tabakası

24- Dünya'nın şekli aşağıdakilerden hangisine benzemez?

- A) top B) portakal C) armut

25- Aşağıdakilerden hangisi Dünya'nın merkezinde yer alan, en sıcak bölümüdür?

- A) dış çekirdek B) iç çekirdek C) manto

HAYAT BİLGİSİ

1. Aşağıdakilerden hangisi okula gelmeden önce yapmamız gereken hazırlıklardan biri değildir?

- A) Ödevlerimizi yapmak B) Çantamızı hazırlamak C) Oyun oynamak

2. Aşağıdakilerden hangisi demokratik bir davranış değildir?

- A) Sınıf başkanını seçim yaparak seçmek B) Sınıf temsilcisini öğretmenin belirlemesi
C) Çoğunluğun istediğini yapmak

3. Aşağıdakilerden hangisi arkadaşımızda olmasını istediğimiz özelliklerden biri olamaz?

- A) Cimri olması B) Sevecen olması C) Nazik olması

4. Aşağıdakilerden hangisi fiziksel özelliklerimizden değildir?

- A) Saç şeklimiz B) Kısa boylu olmamız C) Futbol izlemeyi sevmek

5. Okulumuzun tarihi hakkında kimlerden bilgi alamayız?

- A) Mahalledeki market sahibinden B) Okulumuzun müdüründen C) Okulumuzun ilk öğrencilerinden

6. Emel'in matematik kitabını evde unutmasının nedeni ne olabilir?

- A. Çantasını akşamdan hazırlaması B. Planlı çalışması C. Ders programına uyması

7. I. Güler yüzlü II. Sevecen III. Huysuz IV. Saygılı

Yukarıda geçen hangi özellikler bir arkadaşta olması gereken özelliklerdir?

- A. I, II ve III B. I, II ve IV C. II ve III

8. Defteri karalanan Selim hangi sözleri ile öfkesine hakim olduğunu göstermiştir?

- A. Sakin davranırım B. Bende onun defterini karalarım. C. Çirkin sözler söylerim.

9. Kaynakları tutumlu kullanan bir kişi için ne söylenemez?

- A. Tasarrufu bilen biridir. B. İsrافی seven biridir. C. Yarını düşünen biridir.

10. Aşağıdakilerden hangisi sinirlendiğimizde yapmamız gerekenlerden değildir?

- A) Güzel şeyler düşünmek B) İçimizden ona kadar saymak C) Biz kızdıran kişilere kızmak

18. Eren teneffüste sınıfta top oynarken pencerenin camını kırmıştır. Öğretmeninden korkmasına rağmen camı kendisinin kırdığını söylemiştir. Eren nasıl bir kişiliğe sahiptir?

- A. tarafsızdır B. dürüştür C. Çalışkandır

19. 23 Nisan 1920'de ne olmuştur?

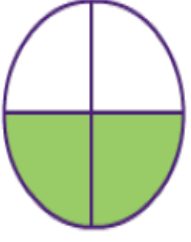
- A. Cumhuriyet ilan edilmiştir. B. Kurtuluş Savaşı başlamıştır. C. TBMM açılmıştır.

24. Aşağıdakilerden hangisi kişisel bakım değildir?

- A. Tırnakları kesmek B. Evi temizlemek C. Banyo yapmak

BİRİM KESİR

Şekillerin boyalı kısımlarını ifade eden kesirleri ve bu kesirlerin okunuşunu ve birim kesirini yazınız.



Kesir

.....

.....

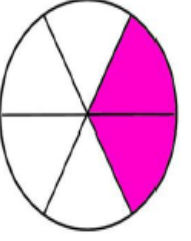
Kesrin okunuşu

.....

Birim Kesir

.....

.....



Kesir

.....

.....

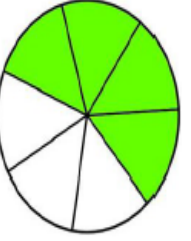
Kesrin okunuşu

.....

Birim Kesir

.....

.....



Kesir

.....

.....

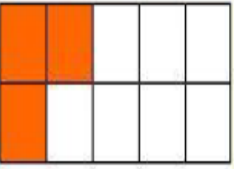
Kesrin okunuşu

.....

Birim Kesir

.....

.....



Kesir

.....

.....

Kesrin okunuşu

.....

Birim Kesir

.....

.....



Kesir

.....

.....

Kesrin okunuşu

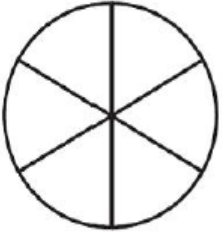
.....

Birim Kesir

.....

.....

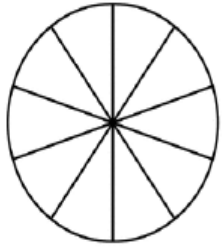
Aşağıda verilen bilgilerden yararlanarak noktalı yerleri doldurunuz. Kesirlere göre şekilleri boyayınız.



Kesir
 $\frac{2}{6}$

Kesrin Okunuşu
.....

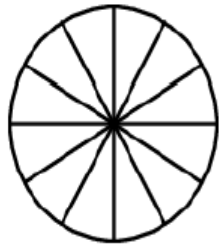
Birim Kesir
 $\frac{....}{....}$



Kesir
 $\frac{8}{10}$

Kesrin Okunuşu
.....

Birim Kesir
 $\frac{....}{....}$



Kesir
 $\frac{7}{12}$

Kesrin Okunuşu
.....

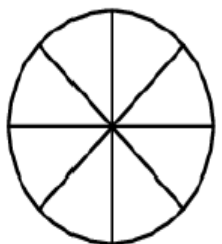
Birim Kesir
 $\frac{....}{....}$



Kesir
 $\frac{2}{5}$

Kesrin Okunuşu
.....

Birim Kesir
 $\frac{....}{....}$



Kesir
 $\frac{4}{8}$

Kesrin Okunuşu
.....

Birim Kesir
 $\frac{....}{....}$