

DUYGU VE ABARTI BİLDİREN İFADELER

Aşağıdaki ifadeleri duygu veya abartı olarak ayırıp cümlelerin başlarına “D veya A” koyunuz.

- (...) Kaplumbağa yarışta tavşanı geçer.
- (...) Onu destekleyen dağ gibi babası var.
- (...) Kazandım, sonunda başardım!
- (...) Harika bir hediye almışsın!
- (...) Benim canım yavrum!
- (...) Dünya kadar ödevim var.
- (...) Çocuk ateşler içinde yanıyor.
- (...) Sana yüz defa söyledim, ellerini yıkamadan sofraya oturma diye.
- (...) Ah, keşke şimdi yanımda olsaydı!
- (...) Seninle gurur duyuyorum!
- (...) Doğum gününde dağ kadar pasta yaptırmış.
- (...) Canım anneciğim, doğum günümde bana çok güzel bir sürpriz yaptı.
- (...) Aykut, öyle bir fıkra anlattı ki tüm sınıf gülmekten yerlere yıkıldı.
- (...) Piknikte, arkadaşlarımla çok mutlu bir gün geçirdik
- (...) Kurt gibi acıktım.
- (...) Bir fırın ekmek yiyebilirim.
- (...) Kurban bayramı geldiği için çok sevinçliyim.
- (...) Yemeğe bir ton tuz atmışsın.
- (...) Bana aldığın hediye çok güzel.
- (...) Nerede kaldın? Kırk saattir seni bekliyorum.
- (...) Bir oturmada kırk tabak yemek yedi.
- (...) Köpeğime araba çarptığı için çok üzgünüm.
- (...) Yeni okuluma başlayacağım için çok heyecanlıyım.
- (...) Ben hemen jet gibi gider, gelirim.
- (...) Sofrada her şey, sadece kuş sütü eksik.
- (...) Kaza yaptığını duyunca çok üzüldüm.
- (...) Elini yıkarken yüz ton su akıttın.

Duygusal, Abartılı, Gerçek ve Hayal Ürünü İfadeler

Duygusal İfadeler: D

Gerçek İfadeler : G

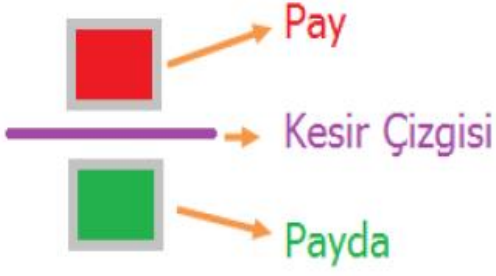
Abartılı İfadeler: A

Hayal ürünü İfadeler : H

Bir seferde bir kazan yemek yedi.	Utancımdayan yerin dibine girdim.
Akşam dedemle 3 sayfa masal okuduk.	Beni aramadığı için üzıldüm.
Bir tabak meyveyi yeyip bitirdi.	Teneffüste yere düştüm
Yeraltında yaşayan arkadaşlarım var.	Leylek kardeş güzel yemek yapar.
Beni aramayan arkadaşım küstüm.	Bir parmağıyla beni kaldırdı.
Uçakları görünce heyecanlanıyorum.	Annem keki pişirirken yaktı.
Bu filmi beş yüz kere izledik.	Evde dağ gibi iş beni bekliyor.
Akşam elli bardak çay içtim.	Bir fırın ekmek yedim.
Yemekleri öyle güzeldi ki, parmaklarımı yedim.	Ödevimi yapmadığım için utandım.
İki ayağım bir pabuca girdi.	Bir martının kanadında uçuyorum.
Bir aydır yemek yemiyor.	Hayvanlarla konuşabiliyorum.
Zavallı köpeğe çok acıdım.	Onu görünce gözleri yerinden fırladı.
Ben bir oturuşta bir kuzuyu yerim.	Dünya kadar işim var.
Sinirimden yerimde oturamıyorum.	Bizim araba jet gibi gidiyor.
Dayım askerden gelince mutlu oldum.	Soğuk su bizi hasta eder.
Köpeklerin sohbetini dinledim.	Bir deri bir kemik kalmış
Sana bir kere gitme dedim.	Arkadaşını sırtında taşıdı.
Hapşırmasını bütün mahalle duyardı.	Denize düşünce çok korktum.
Otobüs takla atarak ırmağa düştü.	Heyecandan uyuyamadım.
Kardeşimi çok özledim.	Onun ağlamasını tüm şehir duydu.
Ödevlerimi yarım saatte yaptım.	Evin temizliği beş saat sürdü.
Arkadaşım on kollu canavar gibi.	Korkudan ödüm patladı.
Okullar iki gün sonra açılacak.	En pahalı oyuncacı ben aldım.
Utancımdayan yerin dibine girdim.	Sevinçten etekleri zil çaldı.

KESİRLER TEST SORULARI

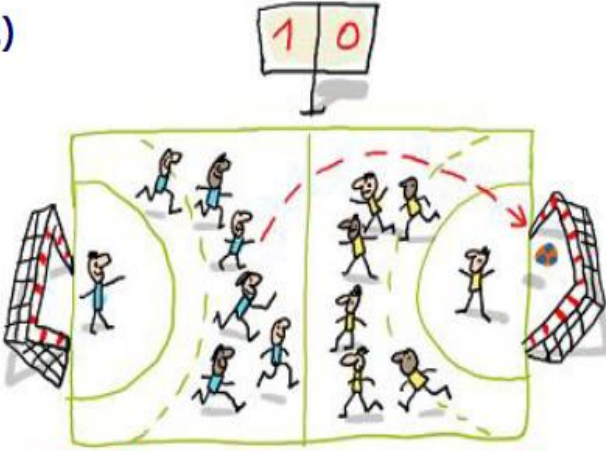
1)



Yukarıdaki **görseldeki** kavramlar ile ilgili aşağıdaki bilgilerden hangisi yanlıştır?

- A) Pay bölünen parçalardan kaç tanesinin alındığını gösterir.
- B) Kesir çizgisi payda ve payı birbirinden ayırır.
- C) Payda, pay alındıktan sonra geriye kalandır.

2)



Hentbol oyununda her takım maça 12 oyuncuyla çıkar. Bunlardan 7'si as, 5'i yedek oyunculardır. Yani oyun süresince her takımdan 7 oyuncu sahada bulunabilir.

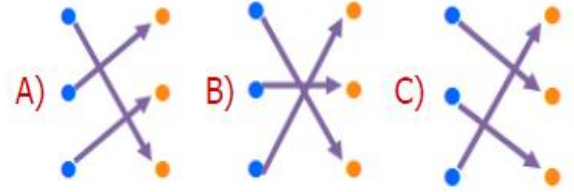
Buna göre bir takımın oyun sırasında sahada bulunan oyuncu sayısı kesir ile **nasıl** ifade edilir?

- A) on ikide yedi
- B) yedide beş
- C) beşte on iki


3)



Yukarıdaki **kavramlar** ile **ipuçları** eşleştirilirse ortaya nasıl bir görüntü çıkar?



4)




Yukarıda eş parçaya bölünmüş pizzadan, iki kişinin yedikleri parçalar gösterilmiştir. Buna göre Veli'nin yediklerinin kesir olarak ifade edilişi aşağıdakilerden hangisidir?

- A) $\frac{2}{5}$
- B) $\frac{3}{2}$
- C) $\frac{2}{8}$

5) Aşağıdakilerden hangisi "yedide dört" kesrinin **pay** kısmındaki sayıdır?

- A) 4
- B) 3
- C) 7

6)



Gülsüm 4 eşit parçaya böldüğü elmanın yarısını yemiştir. Buna göre aşağıdaki ifadelerden hangisi yanlış değildir?

- A) Geriye elmanın dörtte ikisi kalmıştır.
 B) Gülsüm elmanın dörtte birini yemiştir.
 C) Yediği elmanın kesirsel ifadesinde pay kısmında 1 bulunmaktadır.

7)



Fatih aldığı çikolatayı 5 eşit parçaya bölüp, 2 parçasını yemiştir. Buna göre geriye kalan çikolatanın **parça, bütün** ilişkisi aşağıdakilerden hangisidir?

- A) $\frac{2}{3}$ B) $\frac{5}{2}$ C) $\frac{3}{5}$

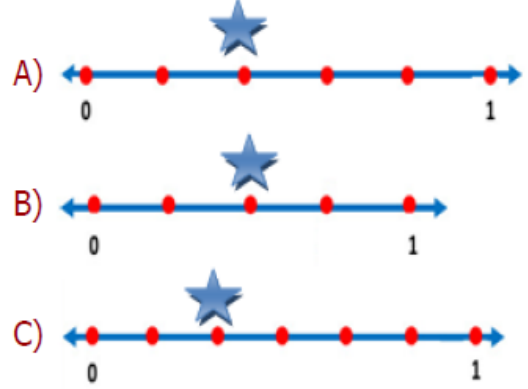
8)

Payda : 7 Pay : 2	➤	$\frac{2}{7}$
sekizde beş	➤	$\frac{8}{5}$
Bütün : 9 Parça : 4	➤	$\frac{9}{4}$


Yukarıdaki eşleştirmelerden kaç tanesinde **hata** vardır?

- A) 3 B) 2 C) 1

9) $\frac{2}{5}$ kesrinin sayı doğrusu üzerindeki **doğru** gösterilişi aşağıdakilerden hangisidir?



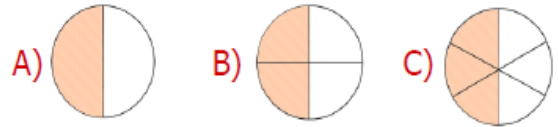
10)



Aşağıdaki kesir ifadelerinden hangisi yukarıdaki şekillerin herhangi birinin **boyalı** alanlarıyla alakalı değildir?

- A) onda altı B) yedide beş C) dokuzda üç

11) Aşağıdaki şekillerden hangisinin boyalı alanı **birim kesri** ifade eder?



12) Yandaki pastanın okla gösterilen **kısımın** kesirsel ifadesi nedir?

- A) $\frac{1}{5}$ B) $\frac{5}{6}$ C) $\frac{5}{1}$