

Hayat Bilgisi Soruları

1. Düzenli ve başarılı bir öğrenci hangi davranışı sergilemez?

A. Erken yatar erken kalkar. B. Çantasını önceden hazırlar. C. Kahvaltı yapmadan okula gider.

2. Aşağıdakilerden hangisi iyi bir arkadaşta olması gereken özelliklerden değildir?

A. Sabır B. Kabalık C. Nezaket

3. Aşağıdakilerden hangisi iyi bir dinleyiciye ait özelliklerdendir?

A. Konuşanın sözünü kesmez. B. Konuşana doğru bakmadan dinler. C. Dinlerken başka işlerle uğraşır.

4. Sinirlendiğimizde hangisini yapmamız yanlış olur?

A. Güzel şeyler düşünmeye çalışmak. B. İçimizden 10'a kadar saymak. C. Bağırarak.

5. Demokratik bir sınıfta sınıf başkanı kim olmalı?

A. En çok oyu alan kişi. B. En çalışkan kişi. C. En güçlü kişi.

6. Bir yerin kuşbakışı görünümünü çizmeye ne denir?

A. Harita B. Kroki C. Proje

7. Bir oyunun sonunda aşağıdakilerden hangisini yapmamız yanlış olur?

A. Kazananı tebrik etmek. B. Kaybedeni teselli etmek. C. Kaybedenle alay etmek.

8. Aşağıdakilerden hangisi okul kurallarından biri olamaz?

A. Koridorda koşmak. B. Okula zamanında gelmek. C. Okula hazırlıklı gelmek.

9. Atatürk ile ilgili yapılan eşleştirmelerden hangisi yanlıştır?

A. Annesi → Zübeyde Hanım B. Babası → Ali Rıza Bey C. Kardeşi → Sabiha

10. Yolda bulduğumuz bir cüzdanı ne yapmamız en doğru davranış olur?

A. İçindeki paraları almak. B. Cüzdanı almamak. C. Cüzdanı polise teslim etmek.

11. Aşağıdakilerden hangisi barınma ihtiyacı ile ilgilidir?

A. Ev B. Araba C. Yemek

12. Aşağıdakilerden hangisi yön bulmak için kullanılır?

A. Pusula B. Stetoskop C. Dürbün

13. Aşağıdakilerden hangisi Atatürk'ün ilk gittiği okuldur?

A. Şemsi Efendi İlkokulu B. Anaokulu C. Mahalle Mektebi

Türkçe Soruları

1. Aşağıdaki kelimelerden hangisinin eş anlamlısı yoktur?

A. Siyah B. Beyaz C. Sarı

2. Aşağıdaki eşleştirmelerden hangisi diğerlerinden farklıdır?

A. Şişman-Tombul B. Şişman-Zayıf C. Zayıf-Cılız

3. Aşağıdaki cümlelerin hangisinde özel ismin yazılışı yanlıştır?

A. Ali ankara'ya gitti. B. İzmir'den teyzem geldi. C. Aslı ile Ceylin parkta oynuyor.

5. "Anne pazardan elma() armut() muz aldın mı()" Cümlesinde parantezli yerlere sırayla hangi noktalama işaretleri gelmeli?

A. Virgül-Virgül-Nokta B. Virgül-Nokta-Ünlem C. Virgül-Virgül-Soru İşareti

6. Aşağıdaki cümlelerden hangisinin hece sayısı daha fazladır?

A. Haylaz tavşan evden ayrıldı. B. Ormanda kayboldu. C. Karanlıktan çok korktu.

7. "çay" Kelimesi aşağıdaki cümlelerin hangisinde diğerlerinden farklı bir anlamda kullanılmıştır?

A. Kahvaltıda çay içtim. B. Annem çay demlemiştir. C. Okulun yanındaki çay akıyor.

8. Aşağıdaki cümlelerden hangisinin sonuna **farklı** bir noktalama işareti gelmeli?

A. Eyvah, yine geç kaldım() B. Yine mi geç kaldı() C. Hep geç mi kalır()

9. Aşağıdaki kelimelerden hangisi sözlükte diğerlerinden **daha sonra** gelir?

A. Soru B. Cevap C. Yanlış

10. Aşağıdaki kelimelerden hangisi hecelerine **doğru** ayrılmıştır?

A. Kel-e-bek B. Ke-leb-ek C. Ke-le-bek

11. Aşağıdaki kelimelerin hangisinde daha fazla **ünlü(sesli) harf** vardır?

A. Papatya B. Kalabalık C. Performans

12. Aşağıdaki kelimelerin sonuna “-ler” eki **gelemez**.

A. Çocuk B. Anne C. Kardeş

13. Aşağıdaki cümlelerin hangisinde yazım yanlışlığı yoktur?

A. Yarın tirenle Konya’ya gideceğiz. B. Sonra eker buydayı. C. Babam gazete okuyor.

14. “Pazar günü pikniğe gidemedik hava yağmurluydu.” Cümlesinde boş bırakılan yere aşağıdakilerden hangisini gelmesi **daha uygun olur**?

A. Fakat B. Çünkü C. Ama

15. “Damlaya damlaya olur.” Atasözünde boş bırakılan yere hangi kelime gelmelidir?

A. Sel B. Su C. Göl

Fen Bilimleri Soruları

1. Aşağıdakilerden hangisi duyu organlarımızdan biridir?

A. Kulak B. Boğaz C. Böbrek

2. “Araba köşeyi dönerken hareketi yapar.” Yukarıda boş bırakılan yere aşağıdakilerden hangisi gelmelidir?

A. Sallanma B. Hızlanma C. Yön değiştirme

3. Aşağıdaki eşleştirmelerden hangisi **yanlıştır**?

A. Yukarıdan aşağı düşen top-hızlanma hareketi
B. Durağa yaklaşan otobüs-yavaşlama hareketi
C. Avını yakalamak için koşan çita-yavaşlama hareketi

4. “Şemsiyeyi açmak için kuvveti uygularız.” Cümlesine aşağıdakilerden hangisi gelmelidir?

A. İtme B. Çekme C. Döndürme

6. Aşağıdakilerden hangisi **itme kuvveti** uygulamıştır?

A. Çiçek koparan çocuk. B. Oltayı saran kişi. C. Topa vuran kişi.

7. Aşağıdakilerden hangisi **kırılgan** bir maddedir?

A. Balon B. Cam C. Sünger

9. Aşağıdakilerden hangisi **pürüzsüz** bir yüzeye sahiptir?

A. Ayna B. Ağaç C. Halı

10. Aşağıdaki maddelerden hangilerini **renklerinden ayırt edebiliriz**?

A. Şeker-Tuz B. Su-Gazoz C. Süt-Zeytin yağı

11. Aşağıdakilerden sıvı madde **değildir**?

A. Kum B. Su C. Ayran

12. Çaydanlıktan çıkan buhar aşağıdakilerden hangisine örnektir?

A. Sıvı B. Gaz C. Katı

BÜTÜN, YARIM VE ÇEYREK

Aşağıdaki görsellerin yanlarına "bütün, yarım ve çeyrek" sözcüklerinden uygun olanları yazalım.



(.....)



(.....)



(.....)



(.....)

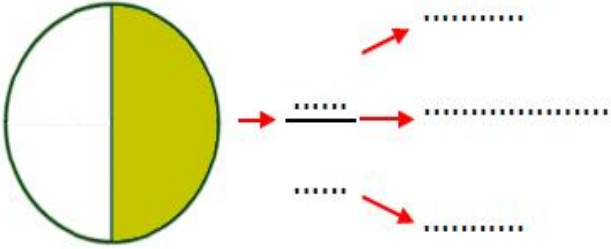


(.....)

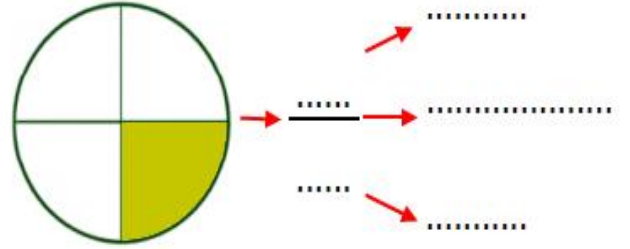


(.....)

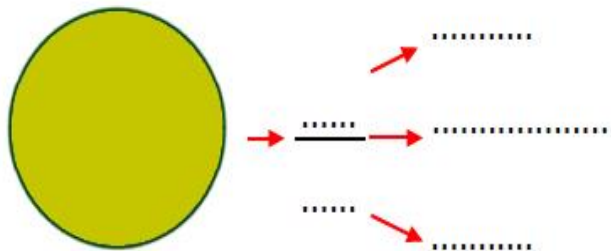
Aşağıdaki şeklin boyalı kısımlarının ifade ettiği kesri yazarak, okla gösterilen kısımların belirttiği terimleri yazalım.



(.....)




(.....)





(.....)


Aşağıdaki geometrik şekillerin altlarına "bütün, yarım ve çeyrek" sözcüklerinden uygun olanları yazalım. Boyalı alanları kesir olarak ifade edelim ve okuyalım.




(.....)




(.....)




(.....)



(.....)



(.....)




(.....)

Aşağıdaki verilen ifadeler göre şekilleri parçalara ayırıp boyayalım.

çeyrek →



çeyrek →



yarım →



yarım →

