

2021 - 2022 EĞİTİM ÖĞRETİM YILI ..... İLKOKULU 4/..... SINIFI  
SOSYAL BİLGİLER DERSİ 1. DÖNEM 2.YAZILI SINAVI

Adı soyadı:

Puan:

A. Aşağıdaki tümcelerden doğru olanların başına "D", yanlış olanların başına "Y" yazınız. (10 P)

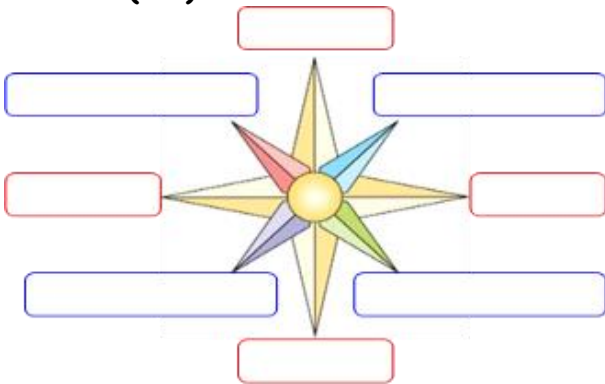
- ( ) Herhangi bir yerin ölçü kullanılmadan kâğıt üzerine kuş bakışı çizilmesine harita denir.
- ( ) Yunanlılara karşı ilk direnişi başlatan gazeteci Hasan Tahsin'dir.
- ( ) Yüzümüzü güneşin doğduğu yöne çevirdiğimizde arkamız kuzeyi gösterir.
- ( ) Bireylerde doğuştan var olan bir işi yapabilme becerisine yetenek denir.
- ( ) Köprü, tünel, otoyol, cami, stadyum doğal unsurlardır.
- ( ) Hava olaylarını bilmek çiftçilerin, balıkçıların, pilotların işlerini kolaylaştırır.
- ( ) Haritalardaki farklı renkler yer şekillerini ve yüksekliklerini gösterir.
- ( ) Ağaçların ve taşların yosun tutmuş tarafları kuzey yönünü gösterir.
- ( ) Hava olaylarını inceleyen bilim dalına paleontoloji denir.
- ( ) Cumhuriyet 23 Nisan 1920'de ilan edilmiştir.

B. Aşağıdaki boşlukları aşağıdaki tabloda yer alan uygun sözcüklerle tamamlayınız. (10 P )


kuzeyi - İsmet İnönü - meteorolog - Yunanlılar'a - Nüfus Müdürlüğünden - milli kültür -  
doğal - Milli Mücadele- hava olayları - Fransızlar - beşeri - güneyi - kültürel

- Hava olaylarını inceleyen ve araştıran kişiye .....denir.
- Yağmur, kar, dolu, sis gibi olaylara .....denir.
- Resmi kimlik belgemiz kaybolduğunda yeniden ..... alabilirsiniz.
- Ağaçlar, çiçekler, dereler ve dağlar .....unsurlardır.
- Adana, Antep ,Urfa ve çevresini ..... işgal etmiştir
- Kurtuluş Savaşı 'nda halkımız, ..... komutasında Batı Cephesi'nde ..... karşı savaştı.
- Bayramlarımız, oyunlarımız, türkülerimiz , el sanatlarımız ..... öğelerden bazılarıdır.
- Öğle vaktinde gölgemizin yönü ..... gösterir.
- Mustafa Kemal 19 Mayıs 1919'da Samsun'a giderek .....yi başlatmıştır.
- Bir milletin kendine has kültürüne ..... denir.

C) Aşağıdaki şeklin üzerine ana ve ara yönleri yazınız. (8 P)



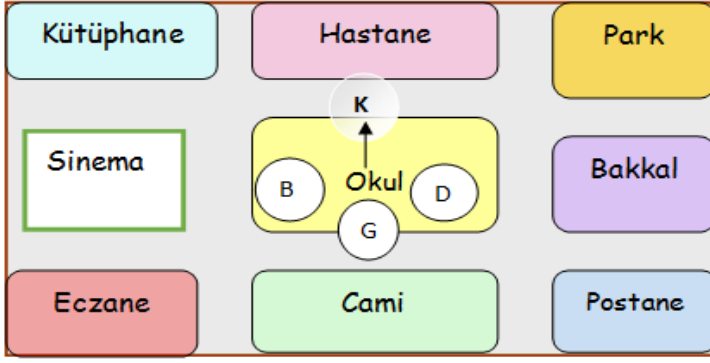
D)Aşağıdaki tabloda hava durumu sembollerinin anlamlarını yazınız. (8 P)



E) Mondros Ateşkes Antlaşması'na göre,düşman devletler ülkemizde nereleri işgal etmişlerdir? Eşleştiriniz.( 4 P)

1	İtalyanlar	İzmir ve çevresini,
2	Fransızlar	Kars, Ardahan
3	Yunanlılar	Antalya, Konya ve çevresi
4	Ermeniler	Adana, Antep, Urfa ve Maraş'ı

F) Aşağıdaki krokiye göre boşlukları doldurunuz.. (10 P)



- \*Caminin kuzeyinde .....vardır.
- \*Hastanenin doğusunda.....vardır.
- \*Bakkalın güneyinde .....vardır.
- \*Okulun kuzeydoğusunda .....vardır
- \*Bakkalın güneybatısında .....vardır.

G) Doğru cevabı işaretleyiniz. ( 50 P )

1. Mondros Ateşkes Antlaşması'ndan sonra yurdumuz düşmanların işgaline uğramıştı. Böyle bir durumda Türk milleti kendi bölgelerini korumak için silahlı direniş grupları oluşturmaya başlamışlardır. Aşağıdakilerden hangisi **bu silahlı gruplara verilen isimdir?**

- A) Kuvayı inzibatiye                      B) Milli askerler  
C) Kuvayı milliye                          D) Türk ordusu

2. Mustafa Kemal Atatürk, Milli Mücadele için sırayla hangi il ve ilçeleri gezmiştir?

- A) Samsun, Havza, Amasya, Sivas, Erzurum, Ankara  
B) Samsun, Sivas, Sakarya, Erzurum, Ankara  
C) Sivas, Erzurum, Ankara, Samsun, Havza  
D) Samsun, Sivas, Erzurum, Havza, Amasya, Ankara

3.

- ◆ I. İnönü Savaşı
- ★ II. İnönü Savaşı
- ▲ Sakarya Meydan Savaşı
- Başkumandan Meydan Savaşı

Yukarıdaki savaşların hangisinden sonra Mustafa Kemal'e "gazi" unvanı ve "mareşal" rütbesi verilmiştir?

- A) ◆                      B) ★                      C) ▲                      D) ■

4. Uydular sayesinde yerimizi tam olarak bulmaya yarayan, Küresel Yer Belirleme Sistemi aşağıdakilerden hangisidir?

- A) GPS                      B) Pusula                      C) Kroki                      D) Harita



5.Yeni kimlik kartlarımıza akıllı kart özelliği kazandıran yenilik aşağıdakilerden hangisidir?

- A) çip(yonga)                                      B) parmak izi  
C) fotoğraf    D) imza

6.Milli Mücadele'den sonra bazı şehirlerimize göstermiş olduğu başarılarından dolayı unvanlar verilmiştir. Bunlardan hangisi aşağıda **yanlış** belirtilmiştir?

- A) Maraş - Kahramanmaraş  
B) Kale - Kırıkkale  
C) Urfa - Şanlıurfa  
D) Antep - Gaziantep

- 1- yağlı güreş                      2- cadılar bayramı  
3- gelin çeyizleri                      4- Nasrettin Hoca

7. Yukarıdakilerden hangisi yada hangileri milli kültür öğelerimiz **yansıtmaz?**

- A) 1 ve 2                                      B) Yalnız 2  
C) 3 ve 4                                      D) 2 ve 3

8. " Kurtuluş savaşında halkımız kadınıyla erkeğiyle fedakarca mücadele etti. Kastamonu'da.....I..... Maraş'ta ...II....bunlardandı.."

Yukarıdaki paragrafta I ve II numaralı yere aşağıdakilerden hangisi gelmelidir?

- | I                | II              |
|------------------|-----------------|
| A) Mustafa Kemal | İsmet İnönü     |
| B) Şerife Bacı   | Sütçü imam      |
| C) Nene Hatun    | Kazım Karabekir |
| D) Şahin Bey     | Kara Fatma      |

9.Aşağıdakilerden hangisi Konya ilimizin komşu illeri arasında **yer almaz ?**

- A)Ankara B)Antalya C)Kayseri D)Karaman

10. Aşağıdakilerden hangisi yön bulma yöntemlerin-den biri **değildir?**

- A) Bulutların hareketleri  
B) Pusula  
C) Karınca yuvaları  
D) Ağaç gövdelerinin yosunlu tarafları