

1. Ağam, sen gideli yedi yıl oldu,
Diktiğin ağaçlar meyveyle doldu,
Seninle gidenler sılaya döndü;
Tez gel ağam, tez gel, eğlenmeyesin...

Dörtlükte, şairin hangi duygusu ağır basmaktadır?

- A) Endişe B) Kırgınlık
C) Özlem D) Öfke

2. Hangi cümlede ayrı yazılması gereken “ki” bitişik yazılmıştır?

- A) Sendeki şans bende olsa çekilişe katılırdım.
B) Aynı haberi önceki akşam televizyon vermişti.
C) Elindeki kitabı arkadaşına uzattı.
D) Bir de uyandımki güneş doğmuş.

3. Bulutun üstünde yüzen uçaklar,
Yücelerde yanan alev bayraklar,
Kızıl batılarla pembe şafaklar,
“Vatan, vatan” diye seslenir bana.

Dörtlükte aşağıdakilerden hangisi kişileştirilmemiştir?

- A) Bayrak B) Şafak C) Vatan D) Uçak

4. Okumayı alışkanlık haline getirmek bugünkü okulun ve eğitimin başlıca amacıdır. Bütün öğretim ve eğitim kurumları, çeşitli araçlarla bu amacın gerçekleşmesine çalışmaktadırlar. Çünkü sadece bireylerin gelişmesi için değil, milletlerin kalkınma ve yükselme davasında da bu nokta, ihmal edilemeyecek bir gerçektir.

Paragrafın konusu aşağıdakilerden hangisidir?

- A) Okul ve eğitim
B) Çalışmanın faydaları
C) Okuma alışkanlığı
D) Kalkınmanın gerekliliği

5. Hangi cümlede mecaz anlamda kullanılmış sözcük yoktur?

- A) Paketleri taşımaktan kolum koptu.
B) Çocuklar da ne çok mücadele ettiler.
C) Sinirlenen Nuri sonunda patladı.
D) Manzarayı görünce içim parçalandı.

6. “Gelebilir” fiilinin olumsuz şekli aşağıdakilerden hangisidir?

- A) Gelemedi B) Gelemez
C) Gelmez D) Gelmeyebilirler

7. Aşağıdaki cümlelerin hangisinde zaman zarfı (belirteci) yoktur?

- A) Ali saçlarını kısacık kestirmiş.
B) Sokak lâmbaları hâlâ yanıyor.
C) Köylüler yazın yaylaya çıkıyorlar.
D) İşe erken gelip geç gidiyor.

8. Aşağıdaki kelimelerden hangisi yapısı bakımından basittir?

- A) Söyleşi B) Koşucu
C) Çalışkan D) Toprakları

9. Aşağıdaki eylemlerden hangisinin kişisi diğerlerinden farklıdır?

- A) Bilirlermiş B) Biliyorlarmış
C) Başlamazlarmış D) Başlarmış

10. Milletleri yönetenler doğal olarak öncelikle kendi milletinin varlık ve mutluluğunu isterler. Ancak bütün milletler için aynı şeyi istemek gerekir. Dünyadaki bütün olaylar bunun gereğini açıktan açığa kanıtlar. En uzakta zannettiğimiz bir olayın bile bir gün bizi etkilemeyeceğini söyleyemeyiz.

Paragrafın ana düşüncesi nedir?

- A) Milletlerin mutluluğu yöneticilerine bağlıdır.
B) Barış ve mutluluk için güçlü olmak gerekir.
C) Küçülen dünyada tek başımıza yaşayamayız.
D) Yöneticiler yetenekli ve barışçı olmalıdır.

11. “Kazanmak” kelimesi hangi cümlede “kendinden yana çekmek” anlamında kullanılmıştır?

- A) Son maçı kazanırsa şampiyon olacak.
B) Tatlı diliyle bütün öğrencileri kazandı.
C) Azimle çalıştı ve istediği okulu kazandı.
D) Büyük ikramiyeyi kazanınca zengin oldu.

12. Bahçelerde saz olur
Gül açılır yaz olur
Ben yârime gül demem
Gülün ömrü az olur.
(Anonim)

Dörtlükte kullanılan kafiye çeşidi nedir?

- A) Yarım kafiye B) Tam kafiye
C) Zengin kafiye D) Cinaslı kafiye

13. Aşağıdaki cümlelerin hangisinde virgülün (,) kullanışı yanlıştır?

- A) Üzerinde eski, püskü bir palto vardı.
B) Fakirlik ayıp değil, tembellik ayıptır.
C) Bu, benim en güzel oyuncağımdı.
D) Sokaktaki satıcı, babamı sordu.

14. Aşağıdaki mısraların hangisinde sıfat tamlaması yoktur?
- A) Kandilleri yanardı küçük minaremizin,
B) Yeni bir hayat başlar içinde evimizin,
C) Tatlıları yapılır bayram günlerimizin,
D) Annemin beyaz eli taze yufka kokardı.
15. Hangi cümlede, büyük sesli uyumu kuralına uymayan bir sözcük vardır?
- A) Bütün perdeleri ütüleyip katladı.
B) Kardeşleriyle oturup eski günlerden söz etti.
C) Bağırarak konuşmanız hiç de güzel olmuyor.
D) Dolapların gözlerini güzelce temizledi.
16.

Tan yeri atanda, şafak sökende Düşmanın üstüne hörelenmeli Düşman kalkan alıp kılıç çekende Yiğit on beş yerden yaralanmalı
--

Konusu bakımından şiirin türü nedir?
- A) Pastoral B) Didaktik
C) Epik D) Lirik
17. Aşağıdaki tamlamaların hangisinde ikileme yoktur?
- A) Işıl ışıl sokaklar
B) Uçsuz bucaksız ovalar
C) Güçlü kuvvetli pehlivanlar
D) İri yeşil elmalar
18.

Bir milletin yaşayıp gördüğü tarihsel olayların, ekonomik dönemlerin, dinsel ve töresel gelişmelerin en doğal ve içtenlikli aynası, o milletin gönlünden süzülerek gelen kısa ve etkili bir biçimde söylenmiş olan atasözleridir. Bir millette kişilerin yaratıcılık yeteneğinin sınırları ne denli geniş olursa, o toplumun düşünce ve duyguları da atasözlerinde o kadar güzel ve sağlam görünür.

Parçaya göre atasözleri ile ilgili aşağıdakilerden hangisi söylenemez?
- A) Toplumun duygu ve düşüncelerini yansıttığı
B) Milletin öz malı olduğu
C) Söyleyeninin belli olduğu
D) Kısa ve özlü sözler olduğu
19. Aşağıdaki hangi cümlede “uyarma” söz konusudur?
- A) Biraz daha hızlı yürüyebilirdik.
B) Köprüden geçerken çok dikkatli olunuz.
C) Çarşı pazar, aramadık yer bırakmadım.
D) Niçin öyle dargın bakıyormuş?
20. Aşağıdaki sözcüklerin hangisinde kaynaştırma sesi yoktur?
- A) Ütüyü B) Bacası C) Kapının D) Kardeşi
21. “mutluluğundan - pay - başkalarının - en - kendine - insandır - bahtiyar - çıkarar” kelimelerinden kurallı ve anlamlı bir cümle oluşturulduğunda sondan üçüncü kelime aşağıdakilerden hangisidir?
- A) pay B) en
C) kendine D) çıkarar
22. Aşağıdaki atasözlerinden hangisinin anlamı diğerlerinden farklıdır?
- A) Aş taşınca, kepçeye paha olmaz.
B) Abanın kadri yağmurda bilinir.
C) Buğday başak verince, orak pahaya çıkar.
D) Sakla samanı, gelir zamanı.
23. Aşağıdaki cümlelerden hangisi anlamca olumlu değildir?
- A) Bana rüyasını anlatmadan çekip gitti.
B) Ya bu deveyi güdersin, ya bu diyardan gidersin.
C) Çocuğun eli yüzü ne kadar kirliydi.
D) Ne bize geldi, ne de telefon etti.
24. Hangi cümledeki “bu” sözcüğünün çeşidi diğerlerinden farklıdır?
- A) Giderken bu çiçeği de götürün.
B) İçlerinden bir bu ressam oldu.
C) Bu sene işimiz zor.
D) Koyunları bu dereden geçiremeyiz.
25. 1- Bu hayallerle oyalanırken parka geldiğimi fark ettim.
2- Sisli bir gün sabahı evden çıktım.
3- Yol boyunca yaz günlerinin sere serpeliği geçti aklımdan.
4- Parktaki güvercinler sanki yazın özlem şarkısı söylüyordu.
Yukarıdaki cümlelerle bir paragraf oluşturulduğunda sıralama nasıl olur?
- A) 2-3-1-4 B) 3-1-4-2
C) 4-3-2-1 D) 1-2-4-3
26. Aşağıdaki sözcüklerden hangisi ad türeten bir yapım eki almamıştır?
- A) Günlüğü B) Bağcı
C) Kırıldı D) Yaşayanlar

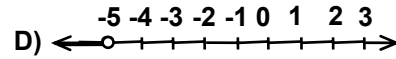
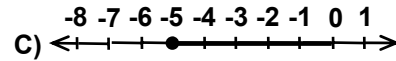
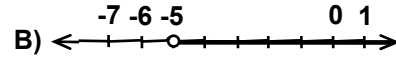
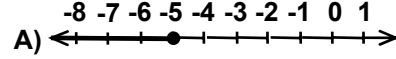
27. Hangi cümlede niteleme sıfatı yoktur?
- A) Bu kıyılar içerilere kadar tuz kokar.
B) Görülen düzlükler boz topraktır.
C) Düz, killi topraklardan sonra bükler başlar.
D) Buralardan Toros'un karlı dorukları görünür.
28. "Burası güzel bir yer ama" cümlesinde boş bırakılan yere aşağıdakilerden hangisi getirilebilir?
- A) çok şirin
B) pek sevdim
C) havası iyi
D) çok sıkıcı
29. Koyunu, kurdun elinden kurtaran çoban, koyuna göre kurtarıcı; kurda göre de özgürlüğüne engel olan kimsedir. Bu durum, aşağıdaki yargılardan hangisini destekler?
- A) Bir kısım görüş ayrılıkları kişisel nedenlerden kaynaklanmaktadır.
B) En büyük özgürlük, yaşama özgürlüğüdür.
C) Yalnız güçlü olanlar hayatta kalmayı başarabilirler.
D) Doğa, dilsiz canlılara bile özgürlük vermiştir.
30. "İle" kelimesi aşağıdaki cümlelerin hangisinde bağlaç görevindedir?
- A) Ayşe, güzel sesi ile tanınmıştır.
B) Ankara'ya teyzesi ile birlikte gidecek.
C) Komşuları ile çok iyi geçiniyor.
D) Ahmet ile Hasan tatile gidiyor.

TÜRKÇE TESTİ BİTTİ.
MATEMATİK TESTİNE GEÇİNİZ.

- $c < 0 < b < a$ ise aşağıdakilerden hangisi daima doğrudur?
A) $c - b < a$ B) $c < b - 3a$ C) $b > a - 2c$ D) $b < c + a$
- $(-3) \cdot (-5) \cdot (\Delta) \cdot (-7) = -210$ işleminde Δ yerine yazılabilecek tam sayı kaçtır?
A) -3 B) -2 C) +2 D) +3
- $a = [(-3) + 12] : [(3 - 2) + 8]$ ve $b = [-3 - (-3 + 2)] : (1 - 2)$ ise, $\frac{b}{a}$ kaçtır?
A) 1 B) 2 C) 3 D) 4
- Aşağıdakilerden hangisi doğrudur?
A) $(-3)^2 < (2)^2$ B) $(-3)^3 < (-2)^3$
C) $2^4 < (-3)^2$ D) $(-3)^4 < (2)^5$
- 5 sayısı $(a - 1)$ ile bölündüğünde sonuç bir tam sayı olduğuna göre, a tam sayısının alacağı değerler toplamı kaçtır?
A) 8 B) 4 C) 2 D) -4
- $\frac{2}{3}$; $-\frac{3}{5}$; 0; 3,14; $\sqrt{3}$; 7; $\sqrt{5}$; π sayılarından kaç tanesi irrasyoneldir?
A) 2 B) 3 C) 4 D) 5
- $\frac{-3\frac{1}{4} + 2\frac{1}{6} - \frac{1}{3}}{-\frac{3}{4} + \frac{1}{3} - \frac{1}{2}}$ işleminin sonucu kaçtır?
A) $1\frac{6}{11}$ B) $2\frac{7}{12}$ C) $-1\frac{6}{11}$ D) $-2\frac{7}{12}$
- $\frac{\left(3 + \frac{3}{4}\right) \cdot \left(\frac{2}{3} - \frac{3}{5}\right)}{1\frac{1}{4}}$ işleminin sonucu aşağıdakilerden hangisidir?
A) $\frac{1}{5}$ B) $\frac{1}{4}$ C) 4 D) 5
- $\frac{10^7 \cdot 10^{12}}{10^8}$ işleminin sonucu kaç basamaklı bir sayıdır?
A) 10 B) 11 C) 12 D) 13

- Bir sayının $\frac{2}{3}$ sinin $\frac{3}{4}$ ü 15 ise, bu sayının yarısı kaçtır?
A) 10 B) 15 C) 20 D) 30

- $\frac{x - 3}{4} < -2$ eşitsizliğinin reel sayılardaki çözüm kümesinin sayı doğrusundaki gösterimi, aşağıdakilerden hangisidir?



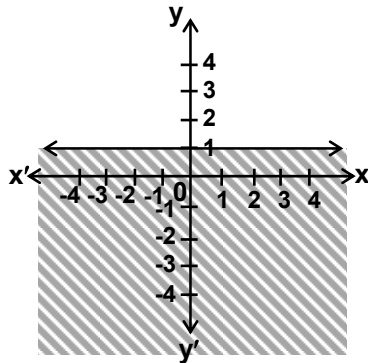
- $\frac{x - 2}{3} + \frac{2x - 1}{4} = x - 5$ denkleminde, x in değeri kaçtır?

- A) 13 B) $\frac{27}{2}$ C) $\frac{49}{2}$ D) 29

- $4x + 3 < 3x + 7$ eşitsizliğinin doğal sayılardaki çözüm kümesi aşağıdakilerden hangisidir?

- A) {4,5,6,...} B) {0,1,2,3,4,...}
C) {0,1,2,3,4} D) {0,1,2,3}

-



Şekildeki taralı bölge aşağıdaki eşitsizliklerden hangisine aittir?

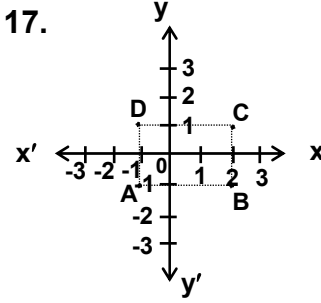
- A) $y \leq -1$ B) $y \leq 1$ C) $y \geq 1$ D) $y \geq -1$

- $\frac{3}{5}$ kesrinin pay ve paydasına hangi sayıyı ekleyelim ki, elde edilen kesrin değeri, $\frac{1}{2}$ ye denk olsun?

- A) -2 B) -1 C) 1 D) 2

- $(-3,4)$ noktasının y eksenine göre simetriği A ise, A noktasının x eksenine göre simetriği, hangi noktadır?

- A) (-3,4) B) (-4,3) C) (-4,-3) D) (3,-4)



Verilen koordinat düzleminde A, B, C, D noktalarının meydana getirdiği dikdörtgenin çevresinin uzunluğu kaç birimdir?

- A) 6 B) 8 C) 10 D) 12

18. % 60 ı su olan 60 kg tuzlu su karışımına, kaç kilogram tuz ilâve edelim ki karışımındaki su oranı % 30 olsun?

- A) 60 B) 48 C) 36 D) 20

19. Etiket fiyatı %20 kâr ile tespit edilen bir mal, 14000 lira eksiğine satılınca %15 zarar ediliyor. Bu malın maloluş fiyatı kaç liradır?

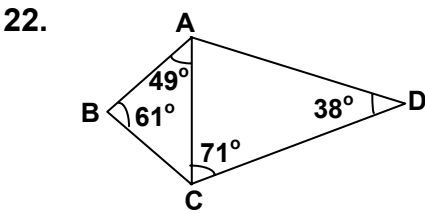
- A) 30000 B) 35000 C) 40000 D) 45000

20. Bir kapital %70 den 1 yıl faizde kalmıştır. Eğer %85 den faize verilseydi, yıl sonunda 7500000 lira fazla faiz getirecekti. Buna göre, kapital kaç liradır?

- A) 25000000 B) 15000000
C) 75000000 D) 50000000

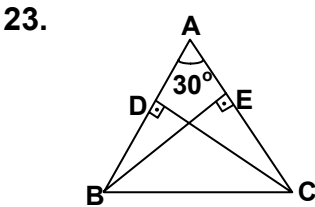
21. Oranları $\frac{2}{3}$, toplamları 45 olan iki sayının farkı aşağıdakilerden hangisidir?

- A) 7 B) 9 C) 15 D) 18



Şekilde verilenlere göre, uzunluğu en kısa olan doğru parçası hangisidir?

- A) [AC] B) [BC] C) [DC] D) [AB]

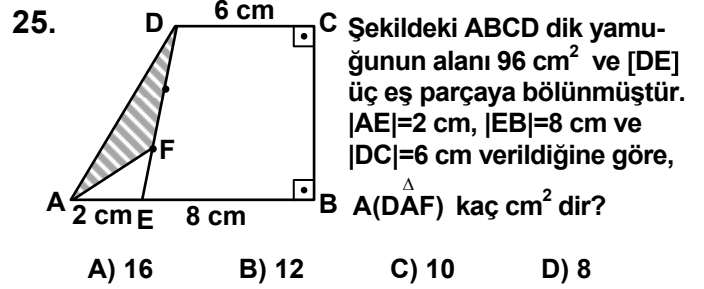


Şekilde, $[CD] \perp [AB]$, $[BE] \perp [AC]$ ve $s(\hat{BAC}) = 30^\circ$ ise, $s(\hat{EBC}) + s(\hat{DCB})$ kaç derecedir?

- A) 20 B) 25 C) 30 D) 35

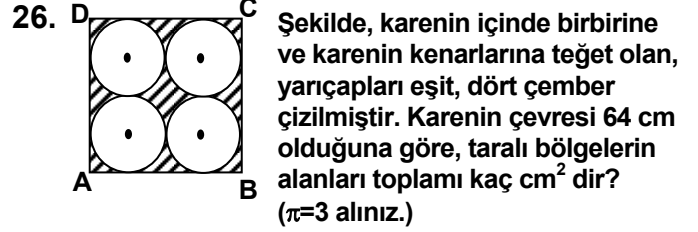
24. Bütün alanı 288 cm^2 , yarıçapı 4 cm olan silindirin hacmi kaç cm^3 tür? ($\pi=3$ alınınız.)

- A) 192 B) 288 C) 384 D) 432



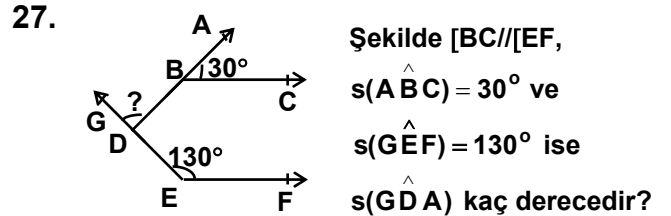
25. Şekildeki ABCD dik yamuğunun alanı 96 cm^2 ve $[DE]$ üç eş parçaya bölünmüştür. $|AE|=2 \text{ cm}$, $|EB|=8 \text{ cm}$ ve $|DC|=6 \text{ cm}$ verildiğine göre, $s(\hat{DAF})$ kaç cm^2 dir?

- A) 16 B) 12 C) 10 D) 8



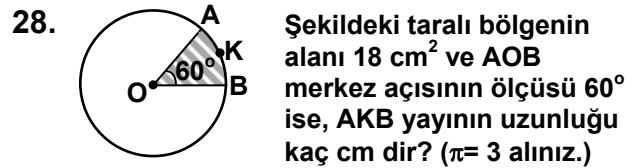
26. Şekilde, karenin içinde birbirine ve karenin kenarlarına teğet olan, yarıçapları eşit, dört çember çizilmiştir. Karenin çevresi 64 cm olduğuna göre, taralı bölgelerin alanları toplamı kaç cm^2 dir? ($\pi=3$ alınınız.)

- A) 42 B) 48 C) 56 D) 64



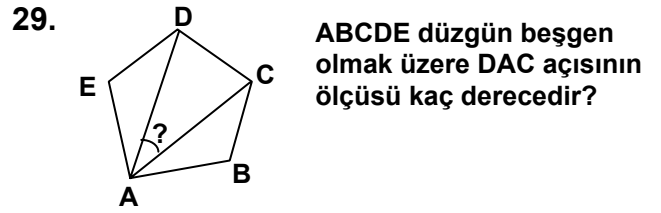
27. Şekilde $[BC] \parallel [EF]$, $s(\hat{ABC}) = 30^\circ$ ve $s(\hat{GEF}) = 130^\circ$ ise $s(\hat{GDA})$ kaç derecedir?

- A) 80 B) 90 C) 100 D) 110



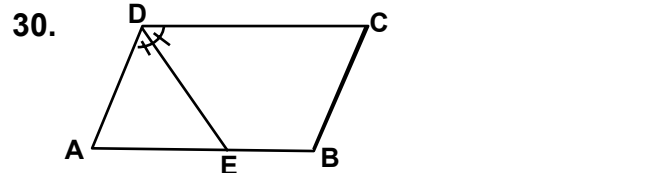
28. Şekildeki taralı bölgenin alanı 18 cm^2 ve AOB merkez açısının ölçüsü 60° ise, AKB yayının uzunluğu kaç cm dir? ($\pi=3$ alınınız.)

- A) 4 B) 5 C) 6 D) 8



29. ABCDE düzgün beşgen olmak üzere DAC açısının ölçüsü kaç derecedir?

- A) 36 B) 48 C) 72 D) 108



30. Şekildeki ABCD paralelkenarında $|EB|=3 \text{ cm}$, $|AD|=6 \text{ cm}$ ve $[DE] \perp [AB]$, ADC açısının açıortayı ise, $|DC|$ kaç cm dir?

- A) 6 B) 8 C) 9 D) 10

MATEMATİK TESTİ BİTTİ.
FEN GRUBU TESTİNE GEÇİNİZ.

1. Açık hava basıncı ile ilgili verilen bilgilerden hangisi yanlıştır?

- A) Yükseklikle ters orantılıdır.
B) Barometre ile ölçülür.
C) Sıcaklıkla daima doğru orantılıdır.
D) Deniz seviyesinde 0 °C de 760 mm civadır.

2. Aşağıdakilerden hangisi basınç birimi değildir?

- A) Bar
B) Toriçelli
C) Atmosfer
D) Pascal

3. Aşağıdakilerden hangisi Pascal prensibine göre çalışır?

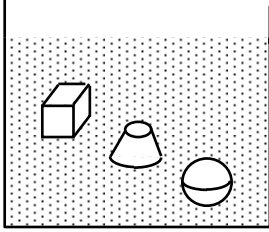
- A) Su cenderesi
B) Dinamometre
C) Buzdolabı
D) Metal barometre

4. Aşağıdaki bilgiler için ne söylenebilir?

- I- Sabit hacimli kaba sıkıştırılarak doldurulan gazdan, yüksek basınçlı gaz elde edilir.
II- Gazlar basınç etkisiyle sıvı hâle getirilip çelik tüplere doldurulabilir.

- A) Yalnız I doğru
B) Yalnız II doğru
C) Her ikisi de doğru
D) Her ikisi de yanlış

5.



Hacimleri eşit olan küp, kesik koni ve küre biçimindeki cisimler sıvıya bırakıldıklarında şekildeki gibi durmaktadır. Buna göre sıvının cisimlere uyguladığı kaldırma kuvvetleri arasındaki bağıntı hangisindeki gibi olur?

- A) $F_{küp} > F_{koni} > F_{küre}$
B) $F_{küp} > F_{koni} > F_{küre}$
C) $F_{küp} = F_{küre} = F_{koni}$
D) $F_{koni} > F_{küre} > F_{küp}$

6. Kütlesi 112 g ve bir kenarı 4 cm olan küp şeklindeki cismin yoğunluğu kaç g/cm³ tür?

- A) 1,75
B) 7
C) 9,33
D) 28

7. Aşağıdaki bilgilerden hangileri doğrudur?

- I- Sıcaklık, maddenin ortalama hızla hareket eden bir atom veya molekülünün hareket enerjisi ile orantılı bir büyüklüktür.
II- Isı, bir maddenin bütün atom veya molekül-lerinin hareket enerjilerinin toplamıdır.
III- Isı birimi °C dir.

- A) Yalnız I
B) I-II
C) II-III
D) I-II-III

8. I- Kütle
II- Sıcaklık değişimi
III- Öz ısı

Hâl değişimi olmaksızın bir maddenin ısı miktarındaki değişimin bulunabilmesi için yukarıdakilerden hangilerinin bilinmesi gerekir?

- A) Yalnız I
B) I-III
C) II-III
D) I-II-III

9. Çaydanlıkta kaynayan saf suyun kaynama süresince hangi özelliği değişmez?

- A) Sıcaklığı
B) Isısı
C) Kütlesi
D) Hacmi

10. Yakacaktaki yanabilen esas madde aşağıdakilerden hangisidir?

- A) Oksijen
B) Karbon
C) Azot
D) Kükürt

11. Yanma olayının meydana gelebilmesi için hangileri gereklidir?

- I- Yanıcı madde
II- Oksijen
III- Yanıcı maddenin tutuşma sıcaklığına ulaşması

- A) Yalnız I
B) I-II
C) II-III
D) I-II-III

12. Aşağıdakilerden hangisi yapıldığında saf bir sıvının kaynama sıcaklığı değişmez?

- A) Dış basınç azaltıldığında
B) Dış basınç artırıldığında
C) Çözünen katı madde eklendiğinde
D) Çözünmeyen katı madde eklendiğinde

13. Şiddetli nezle olan bir kimsenin aşağıdaki duyularından hangileri görevini yeterince yapamaz?

- I- Koku alma
II- Tat alma
III- Görme

- A) Yalnız I
B) I-II
C) II-III
D) I-II-III

14. Sağlıklı bir insanın davranış ve hareketlerinin düzenli ve uyumlu olmasında, en önemli rolü hangi sistem oynar?

- A) Kas
B) İskelet
C) Sinir
D) Dolaşım

15. Serum yapımında genellikle aşağıdakilerden hangisinin kanı kullanılır?

- A) Aşılınmış insan
B) Aşılınmış hayvan
C) Hastalık geçirmiş insan
D) Hastalık geçirmiş hayvan

16. Aşağıdaki bezlerden hangisi insülin hormonu salgılar?
- A) Pankreas B) Tiroid
C) Epifiz D) Hipofiz
17. Aşağıdakilerden hangisi omurgasız hayvandır?
- A) Salyangoz B) Kertenkele
C) Kurbağa D) Balık
18. I- Et oburlar
II- Ot oburlar
III- Yeşil bitkiler
Yukarıdakilerden hangileri tüketicidir?
- A) Yalnız I B) Yalnız II
C) I-II D) II-III
19. Soluduğumuz havanın yüzde kaç azottur?
- A) 78 B) 50 C) 21 D) 10
20. Aşağıdakilerden hangisi toprakların korunması amacına yönelik değildir?
- A) Çiftçilerin eğitilmesi
B) Toprak haritalarının çıkarılması
C) Topraktaki bitki artıklarının yakılması
D) Toprağın, bilim ve tekniğe uygun olarak kullanılması

FEN GRUBU TESTİ BİTTİ.
SOSYAL GRUBU TESTİNE GEÇİNİZ.

1. Aşağıdakilerden hangisinde, Cumhurbaşkanı ve milletvekili seçilebilme yaşı birlikte verilmiştir?

- A) 30 - 25 B) 25 - 40 C) 40 - 30 D) 35 - 40

2. Bütün hakların temelinde olduğu için, savaş, sıkıyönetim ve olağanüstü hallerde yok edilemeyen hak aşağıdakilerden hangisidir?

- A) Eğitim hakkı B) Haberleşme hakkı
C) Yaşama hakkı D) Siyasi hak

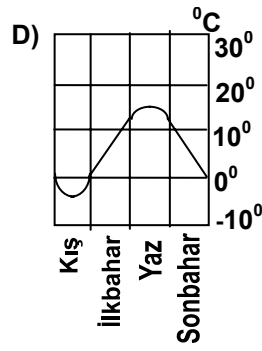
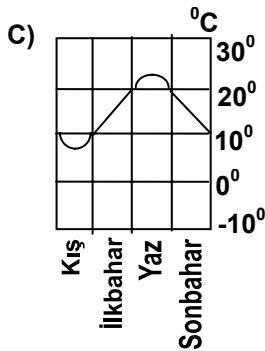
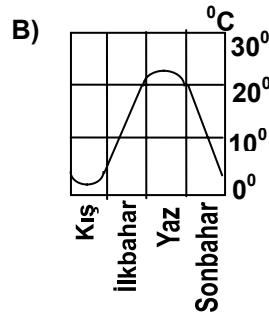
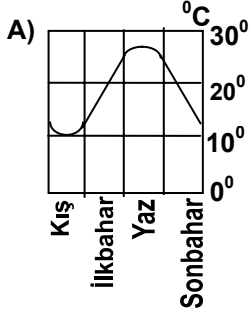
3. Kişilerin bazı haklarını, hukuk kuralları çerçevesinde başkaları aracılığıyla kullanmaları, aşağıdakilerden hangisiyle ifade edilir?

- A) Dava açma B) Vekil tayin etme
C) Tanıklık etme D) Vatandaşlık görevi

4. Dinsel düşüncelerin akılla kontrol edilerek, insan yaşamına uygun duruma getirilmesi, aşağıdakilerden hangisiyle ifade edilir?

- A) Reform B) Felsefe
C) Rönesans D) Sanat

5. Sıcaklığın, mevsimlere göre dağılışı verilen grafiklerden hangisi, yazların kısa ve ılık kışların uzun ve soğuk geçtiği bir bölgeye ait olabilir?



6. Ege Bölümü'nde aşağıdaki yerlerin hangisinden linyit çıkarılır?

- A) Yatağan B) Edremit
C) Ödemiş D) Karaburun

7. Sadece yağış rejimi dikkate alındığında, Doğu Karadeniz Bölümü'nün kıyı kesimlerinde sel baskınlarının en fazla hangi mevsimde olması beklenir?

- A) Yaz B) İlkbahar
C) Sonbahar D) Kış

8. Aşağıdakilerden hangisi, İstanbul'un fethini gerektiren sebeplerden biri değildir?

- A) Osmanlı Devleti'nin Anadolu'dan Rumeli'ye, asker geçirmekte zorlanması
B) Surların, top gülleri ile yıkılabileceğinin anlaşılması
C) Bizans'ın Osmanlı şehzadelerini ayaklanmaları için teşvik etmesi
D) Bizans'ın Avrupa devletlerini ve Anadolu beyliklerini kışkırtması

9. Aşağıdakilerden hangisi, Kanunî Sultan Süleyman döneminde gerçekleştirilen fetihlerden değildir?

- A) Tunus'un fethi
B) Cezayir'in fethi
C) Sakız Adası'nın fethi
D) Rodos Adası'nın fethi

10. Mısır'ın Osmanlı ülkesine katılması hangi hükümdar döneminde gerçekleşmiştir?

- A) Kanunî Sultan Süleyman
B) Fatih Sultan Mehmet
C) Yıldırım Bayezit
D) Yavuz Sultan Selim

11. Coğrafi keşifler döneminde, Amerika'nın orta ve güney kıyılarını bulan fakat yeni bir kıta keşfettiğini anlayamayan denizci aşağıdaki hangisidir?

- A) Macellan B) Kristof Kolomb
C) Del Kano D) Ameriko Vespuçi

12. Osmanlı Devleti'nin ilk kez toprak kaybına uğradığı antlaşma hangisidir?

- A) Karlofça B) Bucaş
C) Vasvar D) Yaş

13. Aşağıdaki yeniliklerden hangisi, III.Selim döneminde yapılmamıştır?

- A) Nizam-ı Cedit Ocağı'nın kurulması
B) Ordunun ihtiyaçları için özel bir hazine kurulması
C) Çiçek aşısının ilk defa uygulanması
D) Avrupa başkentlerinde sürekli elçiliklerin kurulması

DİN KÜLTÜRÜ ve AHLAK BİLGİSİ DERSİ OKUMAYANLAR, AŞAĞIDAKİ SOSYAL BİLGİLER SORULARINA CEVAP VERECEKLER. OKUYANLAR CEVAP VERMEYECEK.

14. Aşağıdakilerden hangisi, Balkan savaşları sonunda imzalanan antlaşmalardan biri değildir?

- A) Atina B) İstanbul C) Uşi D) Londra

15. Osmanlı padişahları, aşağıdaki ünvanlardan hangisini kullanmamışlardır?

- A) Hüdâvendigâr B) Kağan
C) Hünkâr D) Sultan

DİN KÜLTÜRÜ ve AHLAK BİLGİSİ DERSİ OKUYANLAR AŞAĞIDAKİ SORULARI CEVAPLAYACAKLAR. OKUMAYANLAR BUNUN YERİNE, AYNI NUMARALI SOSYAL BİLGİLER SORULARINI CEVAPLAYACAKLAR.

16. Yüce Allah'ın tabiat olaylarını düzenlemekle görevlendirdiği melek aşağıdakilerden hangisidir?

- A) Azrail B) İsrail C) Cebrail D) Mikâil

17. Kur'an-ı Kerim'in gönderiliş amacı hangisidir?

- A) İnsanlara yol göstermek
B) Merasimlerde okunmak
C) Arapça öğretmek
D) Tarih hakkında bilgi vermek

18. Hangisi, peygamberlerde aranan niteliklerden değildir?

- A) Güvenilir olmak
B) Allah'tan aldıkları vahyi insanlara açıklamak
C) Akıllı ve zeki olmak
D) Peygamber olmak için özveri ile çalışmak

19. İslâm inancına göre aşağıdakilerden hangisi yanlıştır?

- A) Dünya ve ahiret birbirini bütünler.
B) Dünya ahiretin tarlasıdır.
C) Allah'ın emrine uyan mutlu olur.
D) Ölüm yok oluşturmaz.

20. Yüce Allah'ın önceden belirlediği şeyleri zamanı gelince yaratmasına ne denir?

- A) Kaza B) Kader
C) Tevekkül D) Mucize

16. 17. ve 18. yy'da insanın herşeyden üstün ve değerli bir varlık olduğunu açıklamaya çalışan düşünce akımı, aşağıdakilerden hangisidir?

- A) Rönesans B) Reform
C) Akılcılık D) Hümanizm

17. Türkiye'nin çevresindeki ülkelere göre jeopolitik öneminin artmasında, aşağıdaki özelliklerinden hangisi daha az etkili olmuştur?

- A) Kıyılarında ormanların yer alması
B) Önemli yollar üzerinde bulunması
C) Tarım ürünlerinin kendi kendine yeterli olması
D) Üç tarafının denizlerle çevrili olması

18. Aşağıdakilerden hangisi, Reform hareketlerinin sonuçlarından biri değildir?

- A) Eğitim kurumlarının kilisenin kontrolünden çıkması
B) Katolik kilisesinin kendini yenilemesi
C) Avrupa'da mezhep birliğinin bozulması
D) Avrupa'da sanat ve edebiyattan zevk alan bir sınıfın ortaya çıkması

19. Aşağıdakilerden hangisinin, Osmanlılarda XVII.yüzyılda görülen idarî, askerî ve malî bozukluklarla doğrudan bir ilgisi yoktur?

- A) Ülkede iç isyanların çıkmasının
B) Gelir kaynaklarının giderek azalmasının
C) Yeniçerilerin yönetimde etkili hale gelmesinin
D) Eyaletlerin idarî bölümlere ayrılmasının

20. Osmanlı Devleti'nde davalara aşağıdakilerden hangisi bakardı?

- A) Kadı B) Beylerbeyi
C) Nişancı D) Şeyhülislâm

TEST BİTTİ.

CEVAPLARINIZI KONTROL EDİNİZ