

HAYAT BİLGİSİ

DOĞADA HAYAT

GÜNEŞİN HAREKETLERİ



Sınıf Öğretmeni
PELİN TOPUZ

You Tube

oyundili



oyundili



ÖĞLE



AKŞAM



SABAH

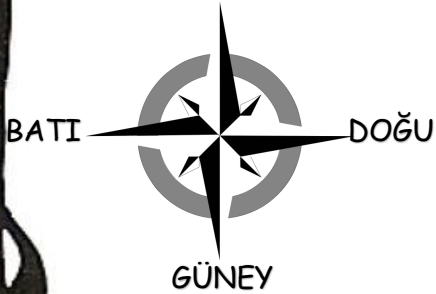
Yukarıda bulunan sabah, öğle ve akşam resimlerini pusula ile inceleyerek aşağıdaki boşlukları doldurunuz.

1. Güneş..... doğar,..... batar.
2. Sabah güneşi ilk önce ablamın odasına doğar, o zaman ablamın odası..... yönündedir.
3. Akşam yemeğini balkonda yeriz çünkü güneş oradan batar. O zaman balkonumuz..... yönündedir.

SIRA SİZDE!

KUZEY

Evinizin Doğu ve Batı yönlerine bakan odalarınızı kutulara yazınız.



BATI

DOĞU


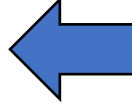




Sınıf Öğretmeni
PELİN TOPUZ

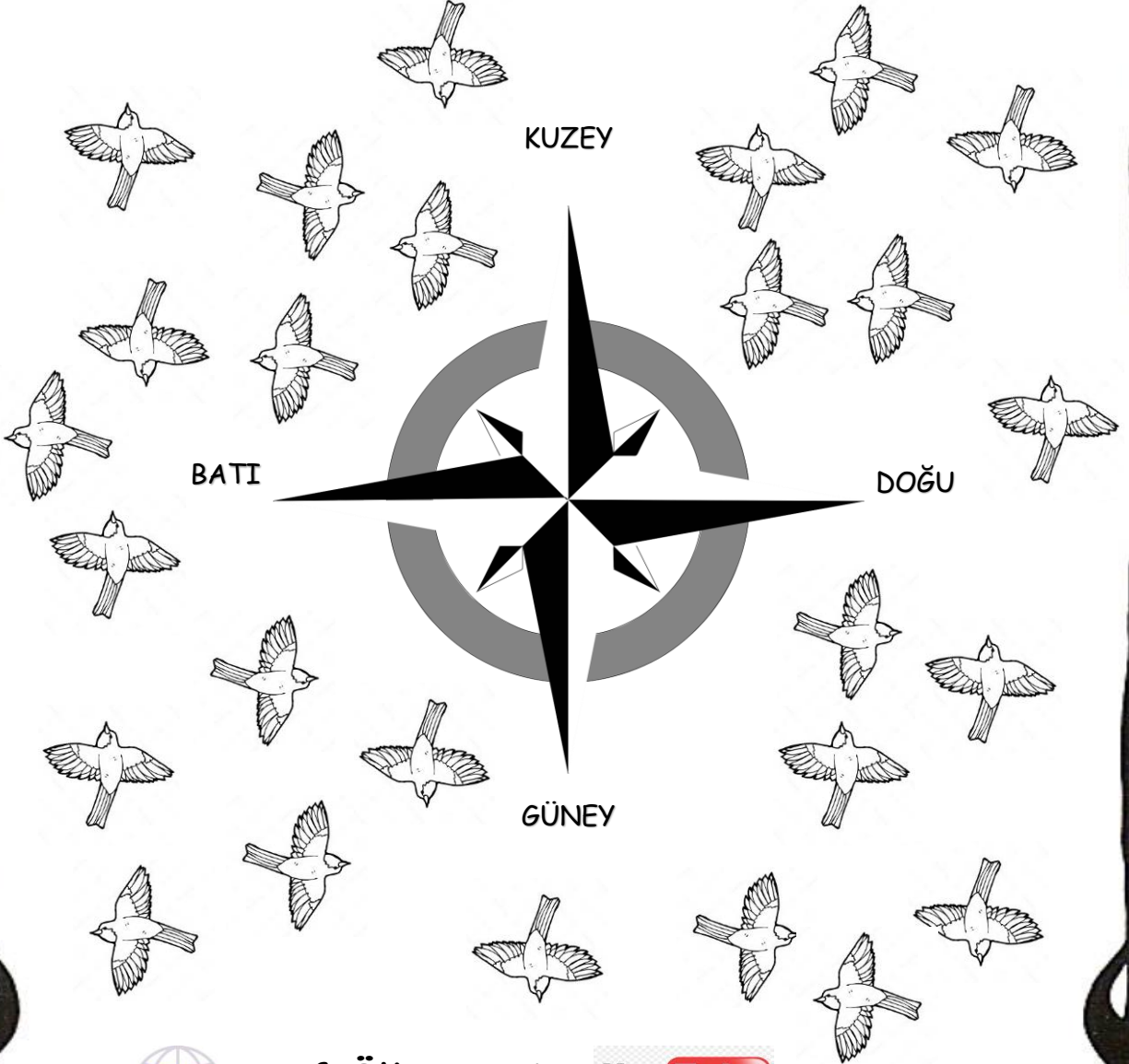
YouTube



oyundili
oyundili



Pusula nedir? Hangi yönleri gösterir, araştırıp öğreniniz. Pusulaya göre güneşin doğduğu yöne uçan kuşları kırmızıya, Kuzey'e uçanları sarıya, güneşin battığı yöne uçanları maviye, Güney'e uçanları turuncuya boyayınız. En çok hangi yöne uçan kuş var, söyleyiniz.



Sınıf Öğretmeni
PELİN TOPUZ

YouTube



oyundili
oyundili