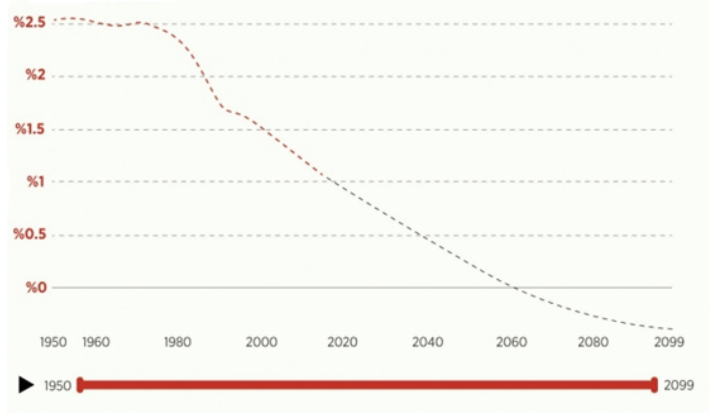




3. Tekrar Testi

1. Aşağıda Türkiye'nin 1950 ve 2020 yılları arasında gerçekleşen nüfus artış hızı ile gelecek 79 yılda beklenen nüfus artış hızı grafiği verilmiştir.



1950-1960 yılları arasında %2,52 ile zirveye ulaşan nüfus artış hızı düşmeye devam edecek ve 2060'lı yıllardan sonra %0'ın altına düşecek.

Buna göre gelecek 79 yıl içerisinde Türkiye nüfusunda;

- genç nüfus oranının azalacağı,
- toplam nüfusunun 2060'lı yıllara kadar sürekli artacağı,
- kadın nüfus oranının erkek nüfusa göre fazla olacağı

durumlardan hangilerinin gerçekleşmesi beklenir?

- A) Yalnız I. B) Yalnız II. C) I ve II. D) II ve III. E) I, II ve III.

2. Fonksiyonel özelliklerine göre şehirler; idari, dini, askeri şehirler ile tarım, sanayi, maden, liman, ticaret, turizm ve kültür şehirleri olarak sınıflandırılabilir.

Bu durumda aşağıdaki şehirlerden hangisinin fonksiyonları diğerlerine göre daha azdır?

- A) Paris B) Tokyo C) Roma D) İstanbul E) Musul

3. Tekrar Testi

3. Aşağıda A ve B ülkelerinin nüfus özellikleri hakkında bazı bilgiler verilmiştir.

	A	B
Nüfus artış hızı (binde)	23,2	-1,7
Nüfus miktarı	31.627.506	80.889.505
Nüfusun ikiye katlanma süresi (yıl)	43,4	-
Kişi başına düşen millî gelir (ABD doları)	2946	75.615

Ülkelerin nüfus miktarı, nüfus artış hızları gibi bazı özellikleri birbirinden farklıdır. Ülkelerin bu farklı özellikleri, nüfuslarıyla ilgili birbirinden farklı uygulamalar geliştirmelerine neden olmaktadır. Gelişmişlik düzeyi yüksek ve nüfus artış hızı düşük ülkeler nüfus artış hızını artırmaya, gelişmişlik düzeyi düşük ve nüfus artış hızı yüksek ülkeler ise nüfus artış hızını azaltmaya çalışmaktadır.

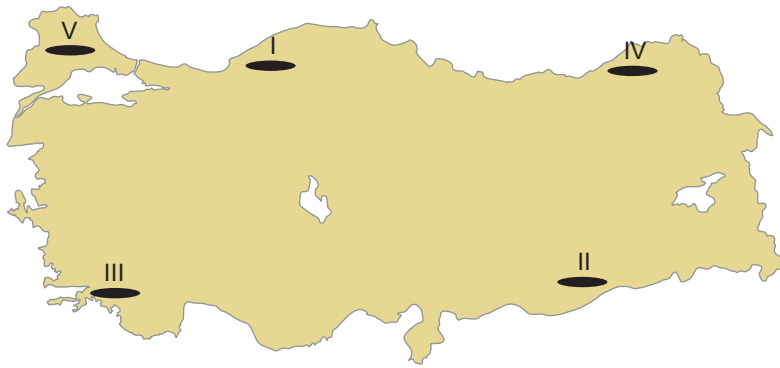
Buna göre A ve B ülkeleri ile ilgili;

- I. İki ülkenin gelişmişlik düzeyleri ve nüfus artış hızları farklı olduğundan uyguladıkları nüfus politikaları da farklıdır.
- II. A ülkesinin nüfus özellikleri dikkate alındığında nüfus artış hızını azaltmaya yönelik politika uygulaması beklenir.
- III. B ülkesinin nüfus miktarı fazla olduğundan nüfus artış hızını azaltmaya yönelik politika uygulaması beklenir.

ifadelerinden hangileri söylenebilir?

- A) Yalnız I. B) Yalnız III. C) I ve II. D) I ve III. E) II ve III.

4. Çiftlik, genellikle geniş bir tarım alanı içinde kurulmuş olan, bir ya da birkaç ev ile bunların eklentilerinden oluşan yerleşim birimidir. Çiftliklerdeki temel ekonomik etkinlik tarımdır.

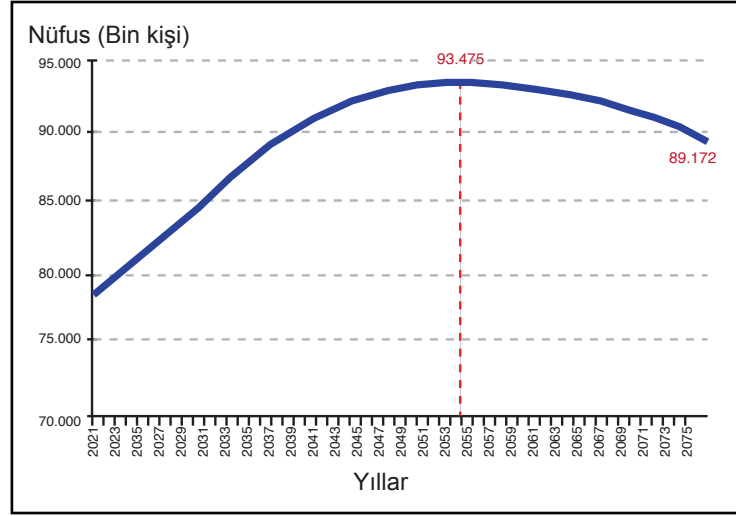


Buna göre, harita üzerinde numaralandırılmış yerlerden hangisinde bu yerleşim birimlerine daha az rastlanır?

- A) I B) II C) III D) IV E) V

3. Tekrar Testi

5. Aşağıdaki grafikte Türkiye nüfusunun 2021-2075 yılları arasındaki olası durumunu gösteren bir grafik verilmiştir.



Grafikteki bilgiler dikkate alındığında nüfusun geleceğiyle ilgili olarak,

- 2060'lı yıllardan sonra toplam nüfus miktarı azalacaktır.
- 2070'li yıllardan sonra nüfus artış hızı %0'ın altında olacaktır.
- 2050 yılına kadar kadın nüfus miktarı erkek nüfusa göre daha fazla artacaktır.

yargılarından hangileri söylenebilir?

- A) Yalnız I. B) Yalnız II. C) Yalnız III. D) I ve II. E) I ve III.

6. Birleşik Arap Emirlikleri'ne bağlı 7 emirlikten biri olan Dubai 1984 yılında bir çöl kasabasıyken günümüzde nüfusu 3 milyonu aşan bir metropole dönüşmüştür. Yaklaşık 30 sene önce neredeyse yapılaşmanın olmadığı Dubai, günümüzde Dünya çapında mimari projeleri ile ön plana çıkıyor. 2019 yılında 1,3 milyona yakın turist ziyaret ettiği şehir her geçen gün daha fazla tanınmaya devam ediyor.

Yalnızca bu bilgiler dikkate alındığında Dubai ile ilgili,

- Şehrin ön plana çıkan fonksiyonu turizmdir.
- Şehrin etki alanı 1984 yılına göre oldukça genişlemiştir.
- Turizm sayesinde Dünya'da tanınırlığı gittikçe artmaktadır.

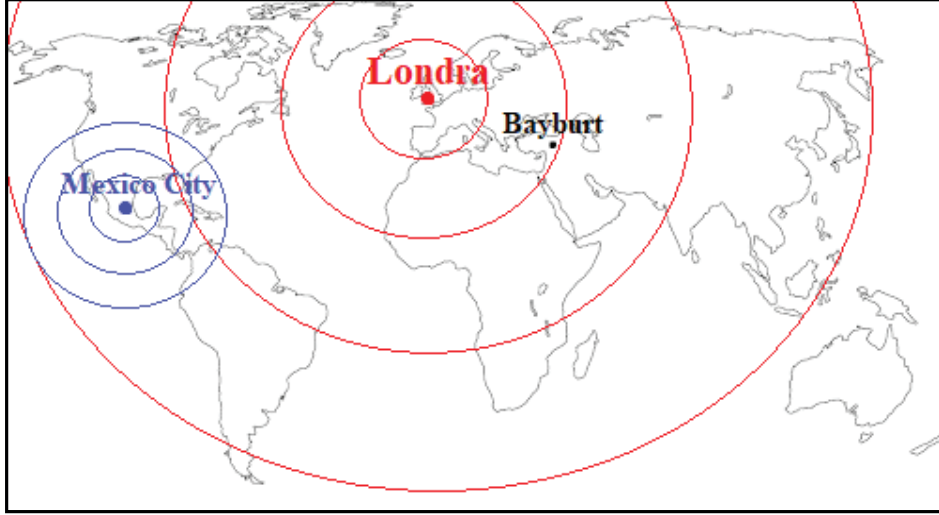
yargılarından hangileri söylenebilir?

- A) Yalnız I. B) Yalnız II. C) Yalnız III. D) I ve II. E) I, II ve III.

3. Tekrar Testi

7. Şehirlerin etki alanının sınırları, sahip olduğu fonksiyonel özellikleriyle yakından ilgilidir. Örneğin fonksiyonel özellikleri az olan bir şehir, daha çok yakın çevresindeki kırsal alanları etkilerken çeşitli ve önemli fonksiyonlara sahip şehirler ise dünya çapında bir etki alanı oluşturabilmektedir. Şehirler; etki alanları bakımından küresel, bölgesel ve yerel etkiye sahip şehirler olmak üzere üçe ayrılır.

Aşağıdaki harita Mexico City, Londra ve Bayburt şehirlerinin etki alanlarını, tablo ise ön plana çıkan fonksiyonlarını göstermektedir.



Şehir	Mexico City	Londra	Bayburt
Fonksiyon	İdari, Sanayi,	İdari, Finans, Ticaret, Sanayi	Tarım, Hayvancılık

Yalnızca bu örneklerden aşağıdakilerden hangisine ulaşılabilir?

- A) Tarım ve hayvancılıkta ön plana çıkan şehirlerin etki alanı geniştir.
B) İdari fonksiyonu ön plana çıkan şehirler küresel etkiye sahiptir.
C) Sanayi fonksiyona sahip şehirlerin etki alanı bölgeseldir.
D) Fonksiyonel çeşitliliği fazla olan şehirlerin etki alanı daha geniştir.
E) Bölgesel etki alanına sahip şehirlerin fonksiyonları kendi ülkesiyle sınırlıdır.

3. Tekrar Testi

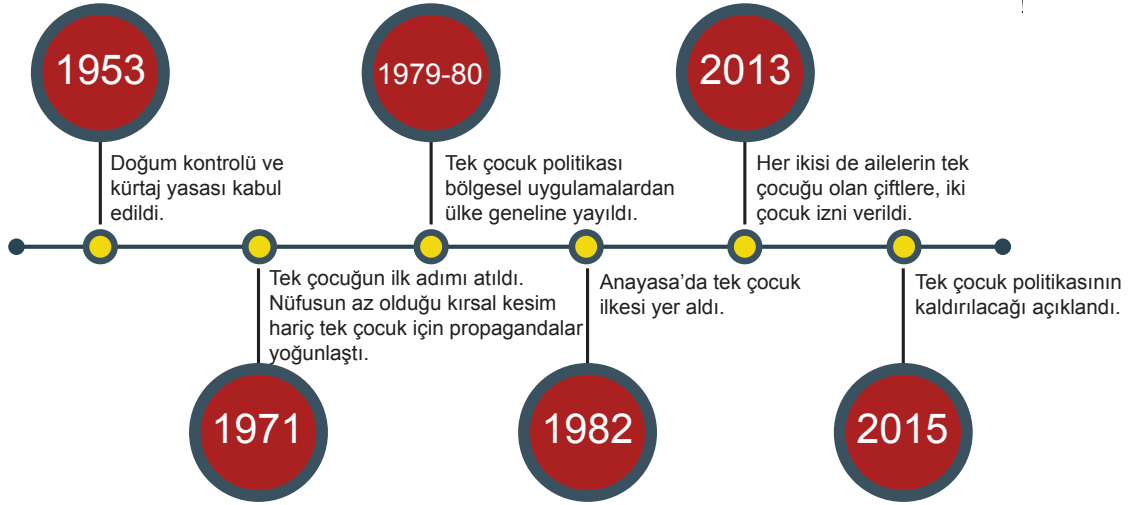
8. Yazın gür otlakların bulunduğu yüksek yerlere yayla denir. Yaylacılık daha çok ekonomik bir etkinliği ifade eder. İnsanlar, bunaltıcı yaz sıcaklıklarından serinlemek, ekonomik anlamda gelir elde etmek ve kışlık yiyeceklerini hazırlamak için belli bir süre yaylalarda kalır. Son zamanlarda bazı yerlerde turizm amaçlı da kullanılmaya başlanmıştır.

Türkiye'deki yaylaların büyük bir kısmı Toroslar' da, Kuzey Anadolu Dağları'nda ve Doğu Anadolu'dadır. Karadeniz'deki yayla evleri genellikle ahşaptır. Akdeniz' deki yayla evleri ise daha çok taştan yapılmıştır. Doğu Anadolu'daki yaylalarda kalıcı yapılar çok azdır. Barınmak için genellikle kıl çadırlar kullanılır.

Metinde yaylacılık faaliyeti ile ilgili aşağıdakilerden hangisinden söz edilmemiştir?

- A) Geçici yerleşmeler olması
- B) Hangi tür faaliyetlerin yapıldığı
- C) Yayla evlerinin hangi malzemeden yapıldığı
- D) Çevresine göre yükseltisi fazla olan yerler olması
- E) Ülke ekonomisi içerisindeki payının ne kadar olduğu

9. Aşağıda Çin'in 1953 – 2015 yılları arasında uyguladığı nüfus planlamasının kronolojisi verilmiştir.



Bu nüfus planlaması kronolojisine göre aşağıdakilerden hangisi söylenemez?

- A) Nüfus planlaması ile ilgili yasal düzenlemeler yapılmıştır.
- B) Uzun yıllar nüfus artış hızını düşürücü yönde politika izlemiştir.
- C) Kardeşleri olmayan evli çiftlere iki çocuk sahibi olma izni verilmiştir.
- D) Uzun süre uygulanan tek çocuk politikasından günümüzde vazgeçilmiştir.
- E) Tek çocuk planlamasının başarılı olması için ailelere teşvikler verilmiştir.

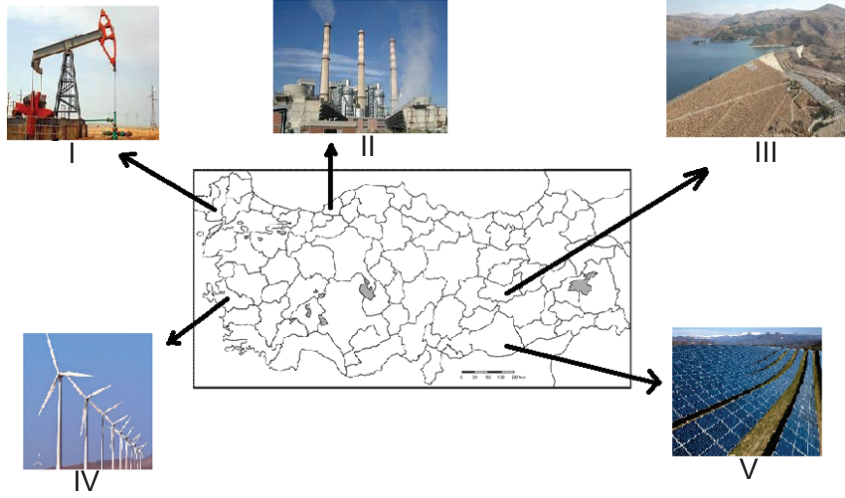
3. Tekrar Testi

10. Üretim, dağıtım ve tüketim birbirini doğrudan etkileyen faaliyetlerdir. Bu faaliyetlerin birinde gerçekleşen olumlu ya da olumsuz bir durum diğerlerini de etkilemektedir. Örneğin Türkiye’de domuz besiciliği çok azdır. Bunun nedeni İslamiyet’e göre domuz eti yemenin haram olmasıdır. Bu örnekte tüketimin üretim faaliyetleri üzerindeki etkisi anlatılmıştır.

Buna benzer bir durum aşağıdakilerden hangisinde görülmektedir?

- A) Avlanan balık miktarı artınca fiyatlar ucuzlamış, balık tüketimi artmıştır.
- B) Kuş gribinden dolayı beyaz et tüketiminin azalması kümes hayvancılığın azalmasına neden olmuştur.
- C) Hakkâri’de turunçgil tüketiminin az olmasının nedeni ulaşımın gelişmemiş olmasıdır.
- D) Tarım ürünlerini taşımak için Mersin’de sandık ve kasa üreten atölyeler kurulmuştur.
- E) Taşınırken bazı ürünlerin bozulmaması için soğutucu sistemleri olan ulaşım araçları üretilmiştir.

11. Aşağıdaki haritada bazı doğal kaynakların enerji üretim yerleri gösterilmiştir.



Bu doğal kaynaklardan hangilerinden üretilen enerjinin kullanımı hava kirliliğine neden olmaz?

- A) I ve II.
- B) II ve III.
- C) I, III ve IV.
- D) II, IV ve V.
- E) III, IV ve V.

3. Tekrar Testi

12. Doğal kaynakların yeryüzünde dağılışı dengeli olmadığı gibi bu kaynakların kullanım biçimi de ülkelerin ekonomik yapılarına göre değişmektedir. Örneğin Brezilya'da ormanlar büyük ölçüde tahrip edilirken Finlandiya'da kullanılan her ağacın yerine yenisi dikilmektedir.

Buna göre doğal kaynağın etkili ve sürdürülebilir bir şekilde kullanılması ülkelerin,

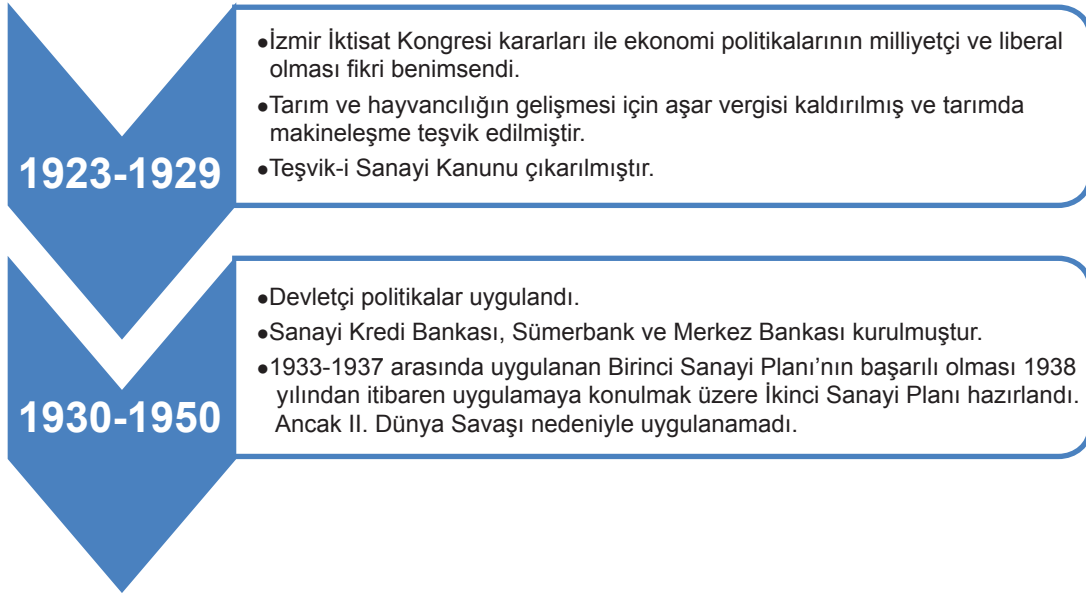
- I. nüfus miktarı,
- II. gelişmişlik düzeyi,
- III. doğal kaynak potansiyeli

özelliklerinden hangilerine göre değişmektedir?

- A) Yalnız I. B) Yalnız II. C) Yalnız III. D) I ve II. E) II ve III

13. Ekonomi politikası, devletlerin belli ekonomik hedeflere ulaşabilmek için kararlar alması ve bu doğrultuda uygulamalar yapmasıdır.

Aşağıdaki şema Türkiye'de Cumhuriyetin ilanından 1950'ye kadar olan dönemde uygulanan ekonomi politikalarıyla ilgili bilgiler vermektedir.

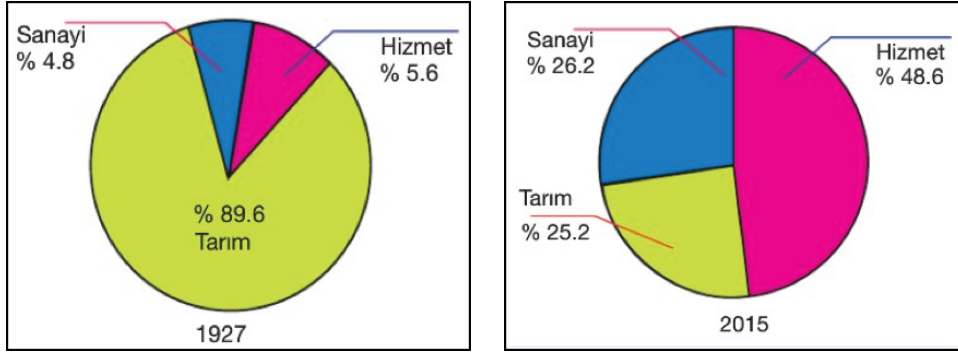


Bu politikalar doğrultusunda aşağıdakilerden hangisi söylenebilir?

- A) Devletçi politikalar 1950'den sonra devam ettirilmiştir.
- B) İzmir İktisat Kongresinde alınan kararlar uygulanamamıştır.
- C) 1923-1929 döneminde uygulanan ekonomik politikalar ile turizm gelişmiştir.
- D) Toplumsal, siyasi ve iktisadi değişimlere bağlı olarak farklı ekonomik politikalar uygulanmıştır.
- E) Özel sermaye yetersizliği nedeniyle daha çok tarımsal üretime dayalı politikalar benimsenmiştir.

3. Tekrar Testi

14. Aşağıdaki grafiklerde 1927 ve 2015 yıllarında Türkiye’de çalışan nüfusun sektörel dağılımı gösterilmiştir.



Yalnızca grafiklerdeki değişimler dikkate alındığında,

- I. Verilen yıllar arasında tarım sektörünün ekonomideki payı düşerken sanayi ve hizmet sektörlerinin payı artmıştır.
- II. 1927 yılında tarımsal üretim miktarı 2015 yılına göre daha fazladır.
- III. 2015 yılında sanayi sektörünün ekonomiye katkısı 1927 yılına göre artmıştır.

yargılarından hangilerine ulaşılabilir?

- A) Yalnız I. B) Yalnız II. C) Yalnız III. D) I ve III. E) II ve III.

15. Kıl keçisi eti, sütü, kılı ve derisi için beslenir. Kıl keçisi engebeli araziye uyumlu, kayalık arazilere tırmanabilen bir hayvandır. Çalılık alanlar kıl keçisi besiciliğine daha elverişlidir. Bu nedenle ülkemizde kıl keçisi daha çok maki alanlarında beslenmektedir.



Harita üzerinde numaralandırılmış alanların coğrafi koşulları dikkate alındığında, hangisi kıl keçisi besiciliğine daha elverişlidir?

- A) I B) II C) III D) IV E) V

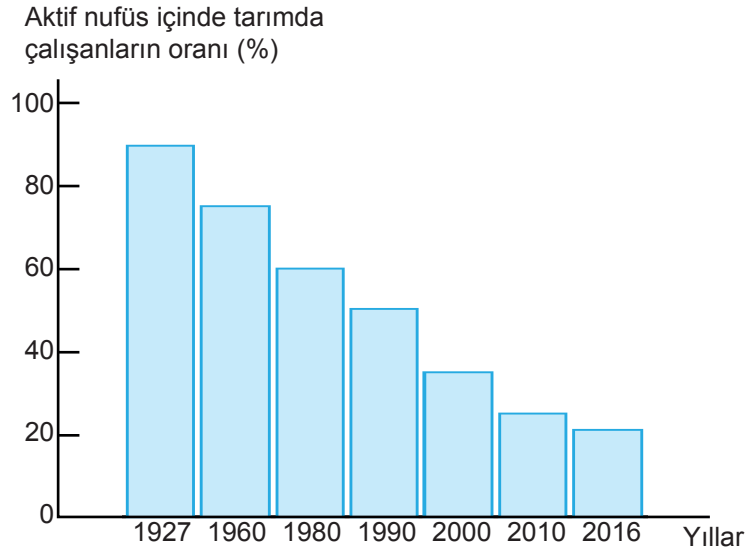
3. Tekrar Testi

16. Türkiye’de tarım alanlarında verimi arttırmak için aşağıdakilerden hangisinin yapılması yanlış olur?

- A) Yaz aylarının kurak geçtiği yerlerde sulama olanaklarının artırılması
- B) Otlak ve mera alanlarının tarım alanlarına dönüştürülmesi
- C) Tarımda makine kullanımının yaygınlaşması
- D) Tarım ürünlerine zarar veren böceklerle mücadele edilmesi
- E) Toprakta eksik olan minerallerin gübre kullanımı ile artırılması

17. Cumhuriyetin ilk yıllarında tarım, geleneksel yöntemlerle yapıldığı için aktif nüfusun büyük bir kısmı tarım sektöründe çalışmaktaydı. Günümüzde ise teknolojinin gelişmesi ve modern tarım yöntemlerinin uygulanması nedeniyle bu oran düşmüştür.

Aşağıdaki grafikte Türkiye’de 1927 ve 2016 yılları arasındaki aktif nüfus içindeki tarımda çalışanların oranı verilmiştir.



Bu değişimin nedenleri arasında;

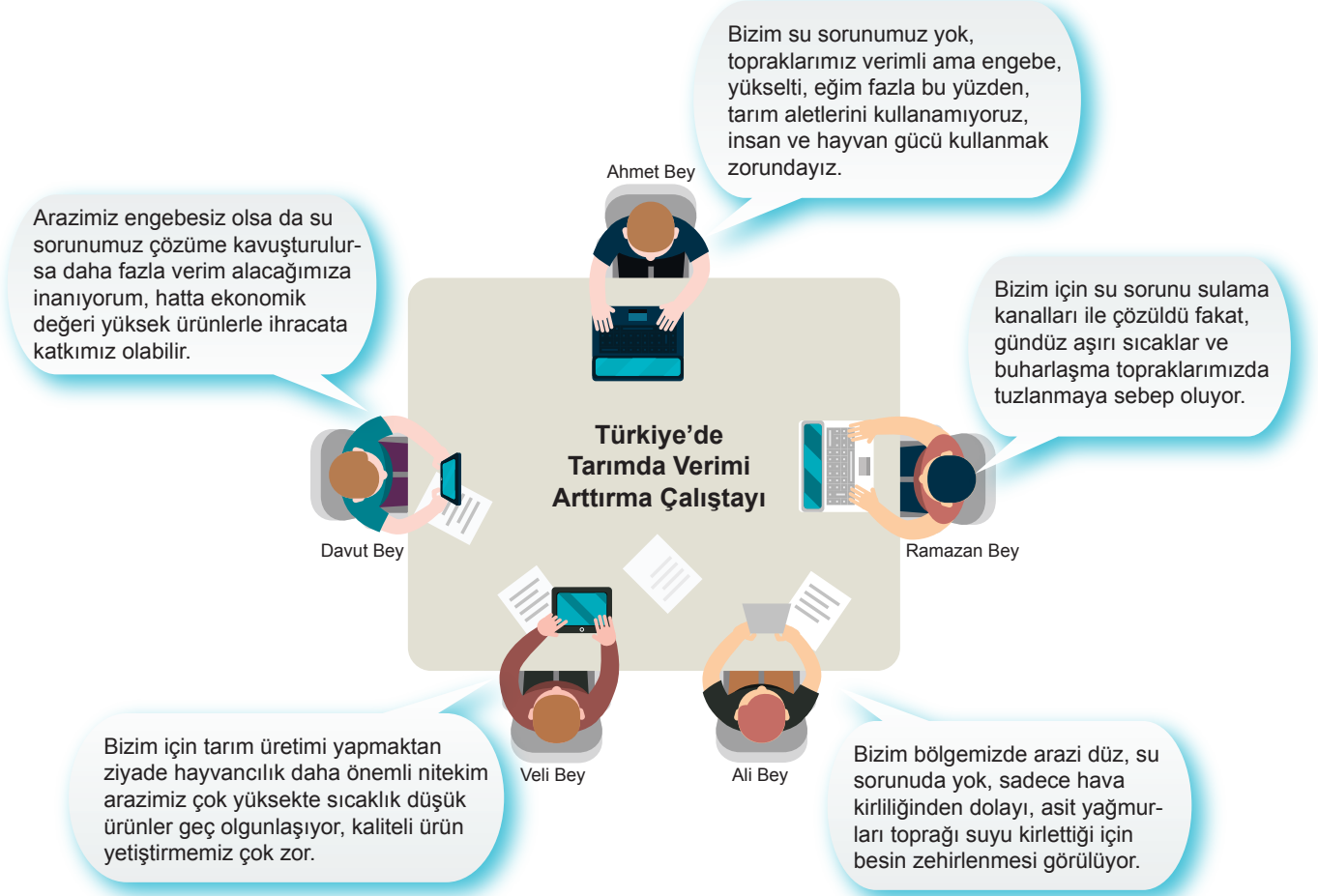
- I. insanların tarım dışı sektörlerde çalışmaya başlaması,
- II. tarımda makineleşmeye bağlı olarak insan gücüne duyulan ihtiyacın azalması,
- III. nüfusun yaşlanmasına bağlı olarak tarımda çalışacak dinamik nüfusun azalması

durumlarından hangileri gösterilebilir?

- A) Yalnız I.
- B) Yalnız II.
- C) Yalnız III.
- D) I ve II.
- E) I, II ve III.

3. Tekrar Testi

18. Ülkemizde tarımın sorunları ve çözüm önerileri amacıyla yapılan çalıştaydan bir bölüm gösterilmiştir.



Aşağıdakilerden hangisi çalıştayda belirtilen sorunlara bir çözüm olarak gösterilmez?

- A) Sulama sorunu yaşanan yerlerde toprağın nadasa bırakılması
- B) Sanayi tesislerinin tarım alanlarına uzak yerlere kurulması
- C) Bitki çeşitliliğinin fazla olduğu engebeli yerlerde arıcılık yapılması
- D) Tuzlanma sorunu için sulamayı sabah erkenden ya da akşam güneş batınca yapılması
- E) Yükseltiden dolayı sıcaklığın düşük olduğu yerlerde soğuğa dayanıklı arpa çavdar, yulaf gibi ürünler ekilmesi

3. Tekrar Testi

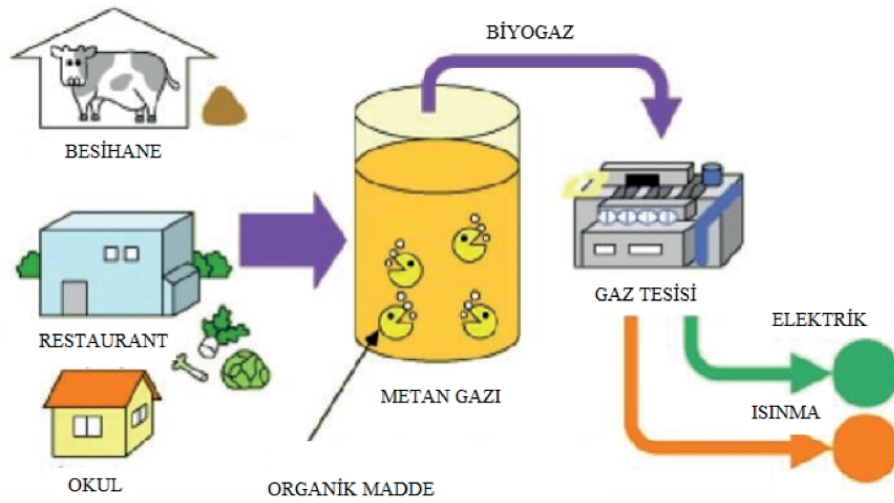
19. Seracılık etkinliği, üzeri ve etrafı cam, plastik veya naylonla örtülü tarım alanlarındaki üretimi ifade etmektedir. Bu alanlarda çoğunlukla sebze yetiştirilmektedir. Kışların ılık geçtiği ve güneşli gün sayısının fazla olduğu yerlerde seracılık daha ucuza mal olmaktadır.



Buna göre harita üzerinde numaralandırılmış yerlerin hangisinde seracılık etkinliği daha ekonomik olur?

- A) I B) II C) III D) IV E) V

20. Aşağıda Türkiye’de son zamanlarda gelişmeye başlayan biyogaz enerji üretiminin aşamaları verilmiştir.



Görsel incelendiğinde bu enerji kaynağı için,

- I. Üretiminde organik atıklar kullanıldığı için çöp sorununu da ortadan kaldırır.
- II. Canlı kalıntılardan metan gazı elde etmek için özel bekleme tesisleri yapılmalıdır.
- III. Elde edilen enerji elektrik üretimi ve konutların ısıtılmasında kullanılabilir.

yargularından hangileri söylenebilir?

- A) Yalnız I. B) I ve II. C) I ve III. D) II ve III. E) I, II ve III.



Cevap anahtarına ulaşmak için karekodu okutunuz.