

Türkiye'de Sanayi

1. Sanayi tesislerinin kurulacağı yerin belirlenmesinde etkili olan faktörlerden biri de hammadde kaynaklarına yakınlıktır.

**Bu durum**

- I. Demir - çelik sanayisi - Karabük  
II. Tekstil sanayisi - İstanbul  
III. Unlu gıda sanayisi - Konya  
IV. Kâğıt sanayisi - Kastamonu

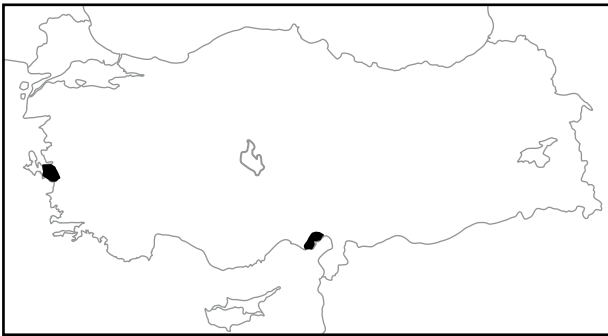
**verilen sanayi tesislerinden hangilerinin kuruluş yerinin belirlenmesinde etkili olmuştur?**

- A) I ve II.                      B) I ve III.                      C) II ve III.  
D) II ve IV.                      E) III ve IV.

2. Aşağıdakilerden hangisi kâğıt endüstrisinin geliştiği yerlerden biri değildir?

- A) Çaycuma                      B) Aksu                      C) Murgul  
D) Dalaman                      E) Taşköprü

3. Aşağıdaki haritada Türkiye'de sanayi faaliyetlerinin yoğun olduğu iki alan gösterilmiştir.



**Bu alanlarda sanayi faaliyetlerinin yoğun olmasında;**

- I. Limanların bulunması  
II. Ulaşım olanaklarının gelişmiş olması  
III. Verimli tarım arazilerine sahip olması

**verilenlerden hangilerinin etkisi vardır?**

- A) Yalnız I.                      B) Yalnız II.                      C) I ve II.  
D) I ve III.                      E) I, II ve III.

4. Türkiye'de bazı endüstri kuruluşlarının hammadde ihtiyacı büyük oranda ithalat yoluyla karşılanmaktadır.

**Aşağıdakilerden hangisi bu endüstri kuruluşları arasında gösterilir?**

- A) Zeytinyağı  
B) Pamuklu dokuma  
C) Unlu gıda  
D) Şeker  
E) Petro - kimya

5. Bazı sanayi tesislerinde kullanılan hammadde üretimi iklim koşullarına bağlı olarak yıldan yıla değişiklik gösterebilir.

**Aşağıdakilerden hangisi bu sanayi tesislerine örnek olarak gösterilmez?**

- A) Çimento sanayisi  
B) Fındık sanayisi  
C) Şeker sanayisi  
D) Un sanayisi  
E) Çay sanayisi

6. İzmir İktisat Kongresi'nde sanayi sektörü konusunda gelişmeyi teşvik edici kararlar alınmıştır.

**Aşağıdakilerden hangisi bu doğrultuda alınan kararlar arasında gösterilmez?**

- A) Sanayi makinelerinin ithalinden gümrük vergisinin alınmaması  
B) Sektöre eleman yetiştirecek eğitim öğretim kurumlarının açılması  
C) Sanayinin planlı ve programlı bir şekilde sürdürülmesi  
D) Yer altı kaynaklarının hammadde olarak ihraç edilmesi  
E) Yollar ve ulaşım araçlarının geliştirilmesi

Türkiye'de Sanayi

7. Türkiye'de sanayi kuruluşlarının dağılışı üzerinde etkili olan faktörlerden biri de ulaşım imkânlarının gelişmiş olmasıdır.

**Bu durumun;**

- I. İskenderun'da demir-çelik fabrikası
- II. Samsun'da bakır işletme tesisleri
- III. İzmir'de petrol rafinerisi

**verilen sanayi kuruluşlarından hangileri üzerinde etkisi olduğu söylenebilir?**

- A) Yalnız I.                      B) Yalnız II.                      C) I ve II.  
D) I ve III.                      E) I, II ve III.

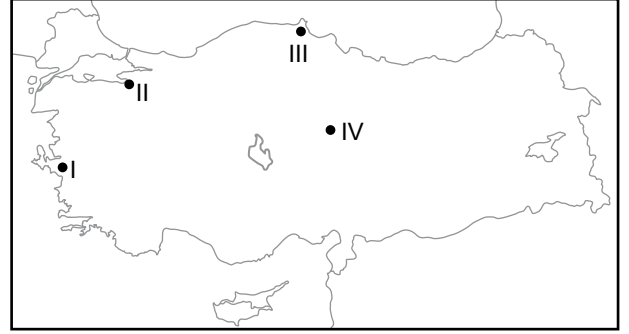
8. Aşağıda verilen yer ve bu yerde bulunan sanayi kolları eşleştirmelerinden hangisi **yanlıştır**?

- A) Gaziantep - Pamuklu dokuma
- B) Eskişehir - Unlu gıda
- C) Edirne - Süt ürünleri
- D) Konya - Petrol rafineri
- E) Uşak - Yünlü dokuma

9. Aşağıda verilen sektörlerden hangisi hizmet sektörü içerisinde **yer almaz**?

- A) Eğitim                      B) Ulaştırma                      C) Turizm  
D) Balıkçılık                      E) Haberleşme

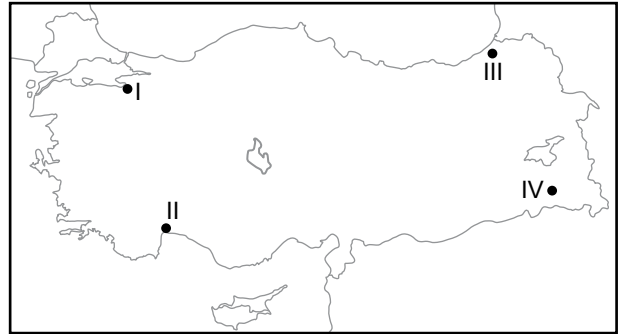
- 10.



**Harita üzerinde numaralandırılarak verilen yerlerin hangilerinde sanayi üretimi daha fazla çeşitlilik gösterir?**

- A) I ve II.                      B) I ve III.                      C) II ve III.  
D) I ve IV.                      E) II ve IV.

- 11.



**Harita üzerinde numaralandırılarak verilen yerlerin hangilerinde hizmet sektöründe çalışanların oranı daha azdır?**

- A) I ve II.                      B) I ve III.                      C) II ve III.  
D) II ve IV.                      E) III ve IV.

12. Organize sanayi bölgelerinin kurulması ile;

- I. düzenli kentleşmenin sağlanması,
  - II. çevre sorunlarının en aza indirilmesi,
  - III. sanayi dağılışının planlı olması
- verilenlerden hangileri hedeflenmiştir?**

- A) Yalnız I.                      B) Yalnız II.                      C) I ve II.  
D) I ve III.                      E) I, II ve III.

