

Dış Kuvvetler ve Türkiye'deki Yer Şekillerinin Oluşum Sürecine Etkileri - II

1. Buzulların oluşturduğu yer şekillerine Ekvator ve çevresinde yüksek yerlerde rastlanırken; kutuplara doğru gidildikçe deniz seviyesine daha yakın yerlerde rastlanmaktadır.

Bu durumun nedeni olarak:

- I. enlem etkisi,
- II. yer çekimi,
- III. Dünya'nın günlük hareketi

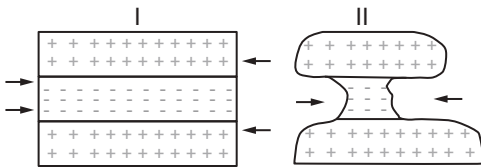
verilenlerden hangileri gösterilir?

- A) Yalnız I. B) Yalnız II. C) I ve II.
D) I ve III. E) II ve III.

2. Buzul aşındırma ve biriktirme şekillerinin yaygın olarak görüldüğü bölgelerin sınırları ile aşağıda verilen bölge türlerinden hangisi arasında benzerlik görülmesi beklenir?

- A) Savan İklim Bölgesi
- B) Kutup İklimi Bölgesi
- C) Tahıl Tarımı Bölgesi
- D) Step Bitki Örtüsü Bölgesi
- E) Küçükbaş Hayvancılık Bölgesi

3. Aşağıda rüzgâr aşındırma faaliyetleri sonucunda oluşmuş bir yeryüzü şeklinin oluşum aşamaları gösterilmiştir.



Bu yeryüzü şeklinin oluştuğu bölge ile ilgili olarak aşağıdakilerden hangisi söylenemez?

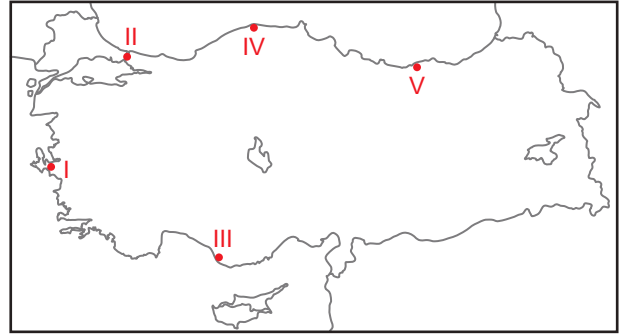
- A) Yıllık yağış miktarı düşüktür.
- B) Biyoçeşitlilik yönünden fakirdir.
- C) Doğal bitki örtüsü zayıftır.
- D) Nem oranı yüksektir.
- E) Farklı dirençteki kayalar bir arada bulunmaktadır.

4. Buzul vadilerine deniz sularının dolması sonucunda oluşan girintili çıkıntılı kıyı tiplerine fiyort adı verilmektedir.

Aşağıdaki ülkelerin hangisinde fiyortlu kıyılar yaygın olarak görülmektedir?

- A) İsviçre B) İngiltere
C) Avustralya D) Norveç
E) Hindistan

5. Ria tipi kıyılar, akarsu vadilerinin deniz suları altında kalmasıyla oluşur.



Bu kıyı tipi harita üzerinde numaralanmış yerlerin hangisinde görülmektedir?

- A) I. B) II. C) III. D) IV. E) V.

6. Kıyıya yakın bir adanın kıyı oku tarafından kara kütlelerine bağlandığı yer şekillerine tombolo adı verilmektedir.

Bu yer şeklinin bulunduğu kıyıların ortak özelliği olarak:

- I. Kıyı derinliği azdır.
- II. Dalga biriktirmesi fazladır.
- III. Kıyıda dik kayalar yaygındır.

ifadelerinden hangileri gösterilir?

- A) Yalnız I. B) Yalnız II. C) I ve II.
D) I ve III. E) II ve III.

Dış Kuvvetler ve Türkiye'deki Yer Şekillerinin Oluşum Sürecine Etkileri - II

7. I. Falez
II. Kıyı oku
III. Delta ovası

Dalgaların oluşturduğu yer şekillerini aşınım ve birikim şekilleri olarak sınıflandırabiliriz.

Buna göre yukarıda verilen yer şekillerinden hangileri dalga aşındırma şekline örnektir?

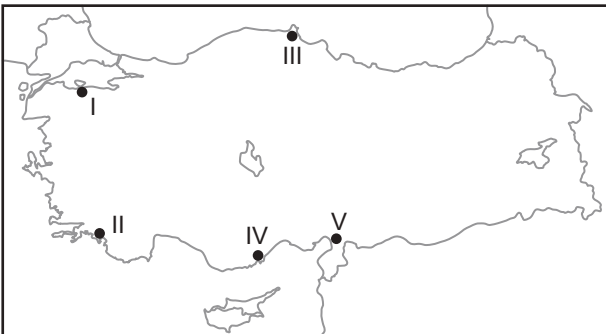
- A) Yalnız I. B) Yalnız II. C) I ve II.
D) I ve III. E) II ve III.

8. I. Falez
II. Tombolo
III. Haliç

Gelgit hareketlerinin fazla olduğu bir kıyıda yukarıda verilen yüzey şekillerinden hangilerinin oluşması beklenmez?

- A) Yalnız I. B) Yalnız II. C) I ve II.
D) I ve III. E) II ve III.

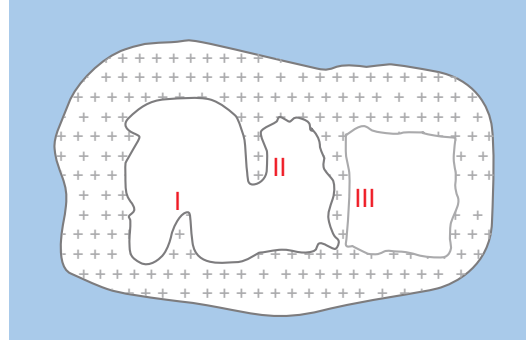
9. Aşağıda Türkiye Haritası üzerinde deniz kıyısında bulunan beş farklı yer işaretlenmiştir.



Bu yerlerden hangisinde dalmaçya tipi kıyı oluşumu görülür?

- A) I. B) II. C) III. D) IV. E) V.

10. Aşağıdaki görselde kimyasal tortul kayaların çözünmesi sonucunda oluşmuş bir mağaranın taban ve tavan kısmında oluşan şekiller numaralarla gösterilmiştir.



Görselde verilen yer şekilleri aşağıdakilerden hangisinde doğru eşleştirilmiştir?

- | I | II | III |
|--------------|--------|--------|
| A) Sarkıt | Dolin | Lapyta |
| B) Düden | Galeri | Polye |
| C) Dikit | Sarkıt | Sütun |
| D) Traverten | Dikit | Sütun |
| E) Düden | Sarkıt | Obruk |

11. Kutuplara yakın yerlerde geniş örtü buzullarına rastlamak mümkündür.

Buna göre aşağıdaki ülkelerin hangisinde örtü buzullarının görülmesi beklenir?

- A) Finlandiya B) Fransa C) İtalya
D) Türkiye E) İran

12. Karstik arazilerin yer altı suları bakımından zengin olduğunu söyleyebiliriz.

Bu durum üzerinde aşağıdakilerin hangisi daha fazla etkili olmuştur?

- A) Erimeler sonucunda çukurlukların oluşması
B) Geçirimli kayaların yaygın olması
C) Mağara oluşumlarının görülmesi
D) Kayaların çözülmeye uğraması
E) Tabakaların genellikle yatay uzanış göstermesi

