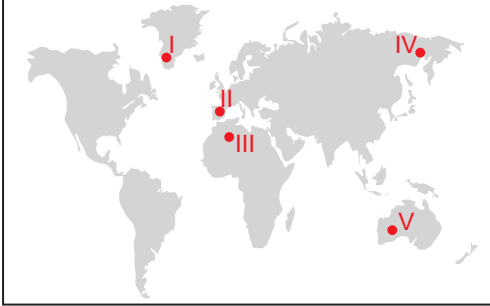


İnsanların Doğal Çevreyi Kullanma Biçimleri

1. İlman iklim koşullarının görüldüğü yerlerde insanların doğal çevreden daha fazla yararlandığını söyleyebiliriz.



Buna göre haritada işaretlenen yerlerin hangisinde insanların doğal kaynaklardan daha fazla yararlandığı söylenebilir?

- A) I. B) II. C) III. D) IV. E) V.


2. Günümüzde insanlar, doğal ortamdan farklı amaçlar doğrultusunda değişik biçimlerde yararlanmaktadır.

Buna göre

I.

II.

III.



Verilen görsellerde insanların doğal çevreden hangi amaçlarla yararlandığı söylenebilir?

- A) Tarım arazilerini sulama
B) Elektrik enerjisi elde etme
C) Ulaşım faaliyetlerini geliştirme
D) Turizm faaliyetlerini geliştirme
E) Yerleşim alanlarına kullanma suyu sağlama

3. İnsanın ihtiyaçları doğrultusunda doğayı kullanırken doğal çevrede yaptığı değişimlerin bir kısmını da ulaşımı kolaylaştırmak ve hızlandırmak amacıyla yaptığı çalışmalarıdır.

Aşağıdakilerden hangisi bu amaçla yapılan çalışmalara örnek gösterilemez?

- A) Manş Tüneli
B) Atatürk Barajı
C) Süveyş Kanalı
D) Marmaray Tüp Geçidi
E) Karadeniz Sahil Yolu

4. I. Eğitim seviyesinin yükselmesi
II. Teknolojik gelişmelerin takip edilmesi
III. Doğal kaynak kullanımına yönelik planlamaların yapılması

Yukarıdaki durumlardan hangileri insanların doğal çevrede yaptığı tahribatların en aza indirilmesinde etkili olmaktadır?

- A) Yalnız I. B) Yalnız II. C) I ve II.
D) II ve III. E) I, II ve III.

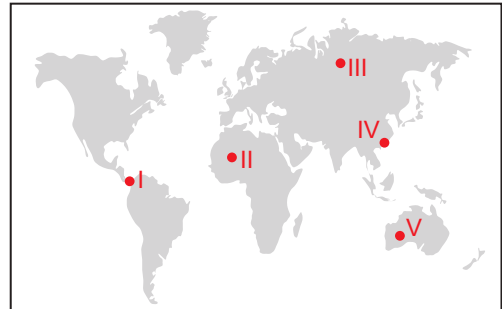
5. Marmaray: İstanbul'un Avrupa ve Asya yakalarındaki demiryolu hatlarını İstanbul Boğazı altından geçen bir tüp tünelle birleştiren, bir demiryolu iyileştirme ve geliştirme projesidir.

Güneydoğu Anadolu Projesi: Fırat ve Dicle Nehirleri üzerinde yapımı öngörülen barajlar, hidroelektrik santralleri ve sulama tesislerinin yanı sıra kentsel ve kırsal altyapı, ulaştırma, sanayi, eğitim, sağlık ve diğer sektörlerin gelişmesini kapsayan geniş kapsamlı bir projedir.

Verilen bilgiler aşağıdakilerden hangisine örnek oluşturur?

- A) Doğal çevrenin tahrip edildiğine
B) İnsanların doğal çevreye bağımlı olduğuna
C) İnsanların doğal çevrede değişiklikler yaptığını
D) Doğal kaynak kullanımının son dönemde artış gösterdiğine
E) Su kaynaklarının insanların ekonomik faaliyetlerinin temelini oluşturduğuna

6. Sanayi üretiminin fazla olduğu yerlerde atmosfere karışan yabancı gazlar dolayısıyla hava kirliliği görülmektedir.



Buna göre haritada verilen yerlerin hangisinde bu kirliliğin daha fazla olması beklenir?

- A) I. B) II. C) III. D) IV. E) V.

İnsanların Doğal Çevreyi Kullanma Biçimleri

7. I. Doğal çevre koşulları her yerde aynı özellik göstermektedir.
II. Doğal çevre koşulları insanların ekonomik faaliyetlerini etkilemektedir.
III. Sanayi Devrimi'nin yaşanması insanın doğal çevre üzerindeki etkisini artırmıştır.

Doğal çevre ve insan faaliyetleri ile ilgili olarak yukarıdakilerden hangileri söylenir?

- A) Yalnız I. B) Yalnız II. C) I ve II.
D) II ve III. E) I, II ve III.

8. I. Hammadde kullanımı
II. Enerji kaynaklarına duyulan ihtiyaç
III. Hava, toprak ve su kaynaklarına karışan atık maddeler

Sanayi üretiminin artış göstermesi sonucunda yukarıdakilerden hangilerinde artış görülmesi beklenir?

- A) Yalnız I. B) Yalnız II. C) I ve II.
D) II ve III. E) I, II ve III.

9. Ozon tabakasının seyrelmesinin sonuçları arasında aşağıdakilerden hangisi **gösterilemez**?

- A) Buzulların erimesi
B) Radyoaktif maddelerin yayılması
C) Cilt hastalıklarının artış göstermesi
D) Yerkürenin ortalama sıcaklığının artması
E) Güneş'ten gelen zararlı ışınların yeryüzüne ulaşması

10. İnsanların ekonomik faaliyetleri doğal çevrenin sunduğu imkânlar doğrultusunda olmaktadır.

Aşağıdakilerden hangisi bu duruma örnek olarak gösterilemez?

- A) Karasal iklim bölgelerinde çay tarımının yapılamaması
B) Sanayi faaliyetlerinin yoğun olduğu yerlerde nüfusun fazla olması
C) Deniz kıyılarında balıkçılık faaliyetlerinin yaygın olması
D) Sert kayaların bulunduğu yerlerde taş barınakların yaygın olması
E) Yerleşme faaliyetlerinin su kaynaklarına yakın yerlerde kurulması

11. Sera gazı adı verilen karbondioksit, karbonmonoksit, metan gibi gazların, kül ve toz gibi parçacık maddelerin atmosferde artışı, hava kirliliğine sebep olmaktadır. Bu kirlilik, son yüzyılda başta nüfusu fazla sanayi şehirleri olmak üzere birçok şehirde insan sağlığını tehdit eden ciddi hastalıklara neden olmaktadır.

Buna göre atmosferde sera etkisi yapan gazların yoğun olduğu yerlerde;

- I. Asit yağmurları
II. Cilt hastalıkları
III. Solunum sıkıntıları

verilenlerden hangilerinin görülmesi beklenir?

- A) Yalnız I. B) Yalnız II. C) Yalnız III.
D) I ve III. E) I, II ve III.

12. Son yüzyılda başta çevre kirliliği olmak üzere doğal kaynakların tükenmesi, iklim değişmesi, canlı türlerinin neslinin tükenmesi, su kaynaklarının azalması, doğal afetlerin artması gibi insan kaynaklı çevre sorunları; hızla artmış ve insan yaşamının geleceğini tehdit eder bir hâle gelmiştir. Bu tehditler, insanlarda çevre bilincini artırırken devletlerin de bu konudaki duyarlılığını artırmıştır. Devletler, bu amaçla doğal çevreyi korumaya yönelik yasalar ve yönetmelikler çıkarmıştır.

Bu metine göre

- I. Devletler doğal çevrenin korunması ile ilgili çalışmalar yapmışlardır.
II. Doğal çevrenin zarar görmesi insanlarda çevre bilincinin gelişmesini sağlamıştır.
III. Doğal çevrede meydana gelen değişimlerin asıl nedeni doğa olaylarıdır.

İfadelerden hangileri söylenebilir?

- A) Yalnız I. B) Yalnız II. C) I ve II.
D) II ve III. E) I, II ve III.

