

Yeryüzündeki İklim Tipleri

1. Yeryüzünün farklı bölgelerinde etkili olan 10 farklı büyük iklim tipi mevcuttur.

**Bu iklimlerin oluşmasında aşağıdaki unsurlardan hangisinin etkili olduğu söylenemez?**

- A) Sürekli rüzgârlar
- B) Okyanus akıntıları
- C) Dünya'nın şekli
- D) Kayaçların yapısı
- E) Kara kütlelerinin dağılışı

2. • Yazları sıcak ve kurak geçmektedir.  
• Kış yağışları genellikle yağmur şeklindedir.  
• Yıllık ortalama 600 – 1000 mm yağış gerçekleşmektedir.

**Bu açıklamalar aşağıdaki iklim tiplerinden hangisi için daha uygundur?**

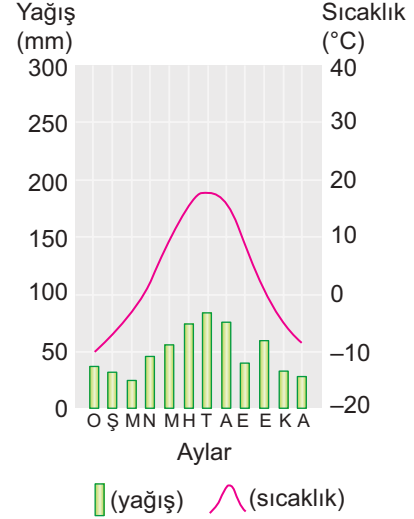
- A) Ekvatorial
- B) Akdeniz
- C) Kutup
- D) Step
- E) Çöl

3. Ekvatorial İklim Bölgesi içinde bulunan ağaçlar yıl boyunca yapraklarını dökmeden yeşil kalabilmektedir.

**Bu durum bu bölgenin hangi özelliği ile açıklanır?**

- A) Orman altı bitki örtüsünün zengin olması
- B) Yağış ve sıcaklık rejiminin düzenli olması
- C) Bitki çeşitliliğinin fazla olması
- D) Orman tahribatının az olması
- E) Toprağın aşırı yıkanması

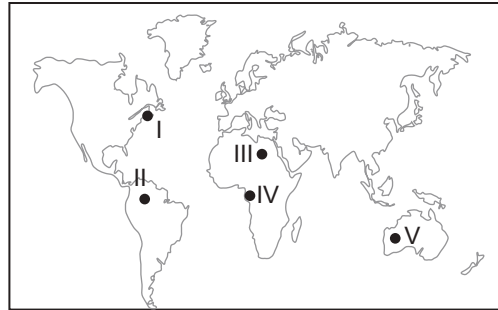
4. Aşağıda bir yere ait yıllık sıcaklık ve yağışın dağılışını gösteren grafik verilmiştir.



**Grafiğe bakılarak bu yer hakkında aşağıdaki çıkarımlardan hangisi yapılamaz?**

- A) Yıllık sıcaklık farkı Akdeniz iklimine göre daha fazladır.
- B) Kuzey Yarım Küre'de bulunan bir yerdir.
- C) Kışın kar şeklinde yağışlara rastlanır.
- D) Sıcak kuşak iklimleri içerisinde yer almaktadır.
- E) Step bitki örtüsüne sahiptir.

5.

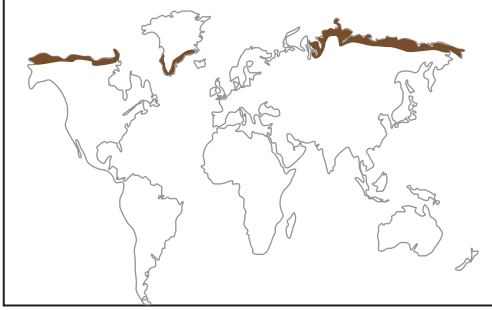


**Haritada işaretli yerlerden hangilerinde dinamik yüksek basınç alanı olması sebebiyle oluşmuş çöl alanları bulunmaktadır?**

- A) I ve II.
- B) I ve III.
- C) II ve IV.
- D) III ve V.
- E) IV ve V.

Yeryüzündeki İklim Tipleri

6. • Yazlar çok kısa ve serin geçer.  
• Toprak yılın büyük bir döneminde donmuş haldedir.  
• Yaz aylarında toprağın üst kısmında çözümler görülür ve bataklıklar oluşur.



Yukarıda özellikleri verilen ve haritada işaretlenen iklim tipi aşağıdakilerden hangisidir?

- A) Tundra iklimi  
B) Savan iklimi  
C) Kutup iklimi  
D) Karasal iklim  
E) Muson iklimi
7. I. Muson iklimi  
II. Ekvatorial iklim  
III. Subtropikal iklim  
IV. Ilıman okyanusal iklim

Yukarıda verilen iklim tiplerinin hangilerinde yağış rejiminin düzenli olduğu söylenir?

- A) I ve II. B) I ve III. C) II ve III.  
D) II ve IV. E) III ve IV.

8. Aşağıda verilen iklim tiplerinden hangisi küçükbaş hayvancılık faaliyetleri için diğerlerine göre daha uygundur?

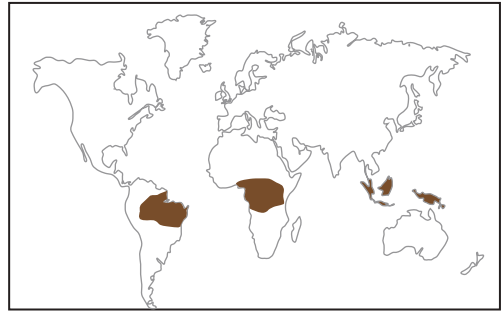
- A) Ekvatorial iklim B) Muson iklimi  
C) Tundra iklimi D) Step iklimi  
E) Çöl iklimi

9. • Kaktüs benzeri bünyesinde su tutabilen bitkiler  
• Yayvan ve iğne yapraklı ormanlar ile çayırlar  
• Çalı ve kısa boylu ot toplulukları  
• Yosun ve kısa boylu ot toplulukları

Yukarıda verilen bitki toplulukları ile iklim tipleri eşleştirildiğinde hangi iklim tipine ait bitki topluluğu bulunmaz?

- A) Ilıman okyanusal iklim B) Ekvatorial iklim  
C) Tundra iklimi D) Step iklimi  
E) Çöl iklimi

10. Aşağıdaki haritada bir iklim tipinin görüldüğü bazı alanlar renklendirilmiştir.



Bu iklim tipi aşağıdakilerden hangisidir?

- A) Sert karasal iklim B) Ekvatorial iklim  
C) Akdeniz iklimi D) Savan iklimi  
E) Çöl iklimi

11. • Yıllık basınç farkına bağlı olarak oluşmuş bir iklim tipidir.  
• Yağışların % 85 i yaz aylarında düşmektedir.  
• Orman örtüsü ile kaplı olan arazi içerisinde teak ağaçları yaygındır.

Yukarıda bazı özellikleri verilen iklim tipi aşağıdaki yerlerin hangisinde görülmez?

- A) Güney Hindistan B) Güney Çin  
C) Japonya D) Endonezya  
E) İngiltere

