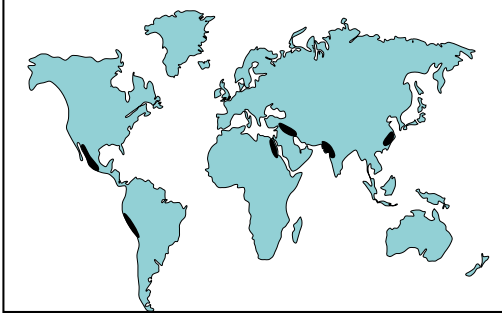


İlk Kültür Merkezleri

1. Aşağıdaki haritada ilk medeniyetlerin kurulduğu yerler koyu renk ile gösterilmiştir.



İlk medeniyetlerin bu alanlarda kurulmasında

- I. İklim koşulları
- II. Bakı özellikleri
- III. Su kaynakları
- IV. Bitki örtüsü özellikleri

verilen özelliklerden hangi ikisi diğerlerine göre daha fazla etkili olmuştur?

- A) I ve II. B) I ve III. C) II ve III.
D) II ve IV. E) III ve IV.

2. • Fırat ve Dicle nehirleri arasında kalan bölgedir.
• Tarıma bağlı olarak oluşan köyler zamanla şehirlere dönüşmüştür.
• Sümer, Babil, Akad, Asur, Elam gibi medeniyetler kurulmuştur.

Yukarıda genel özelliklerinden bazıları verilen ilk medeniyet merkezi aşağıdakilerden hangisidir?

- A) Mezopotamya B) Hint
C) Anadolu D) Çin
E) Orta Amerika

3. Akdeniz çevresinde kurulan medeniyetlerin en belirgin özelliği denizcilik faaliyetlerinde ilerlemiş olmalarıdır.

Akdeniz medeniyetlerinin bu özelliği kazanmasındaki temel faktör aşağıdakilerden hangisidir?

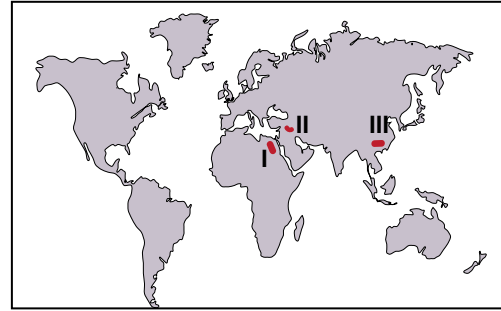
- A) Tarım alanlarının darlığı
B) Akarsuların azlığı
C) Yerüstü ve yeraltı kaynakların azlığı
D) Doğal liman sayısının fazlalığı
E) Ekonomik değeri yüksek ürünlerin üretilmesi

4. Dünya üzerinde kurulan ilk medeniyetlerin su kaynakları çevresinde yoğunlaştığı görülür.

Aşağıda verilen akarsu ve çevresinde kurulan medeniyet eşleştirmelerinden hangisi doğrudur?

İndus	Nil	Sarırmak
A) Maya	Mısır	Mezopotamya
B) Mısır	Mezopotamya	Maya
C) Hint	Mısır	Çin
D) Mısır	Maya	Mezopotamya
E) Maya	Mısır	Çin

- 5.



Haritada numaralandırılarak verilen alanlar ile bu alanlarda kurulan medeniyet eşleştirmesi aşağıdakilerden hangisinde doğru verilmiştir?

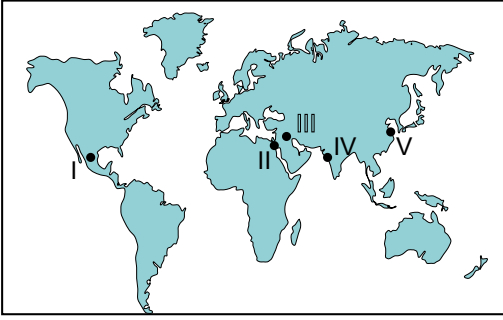
I	II	III
A) Mısır	Mezopotamya	Çin
B) Akdeniz	Çin	Maya
C) Maya	Akdeniz	Çin
D) Hint	Maya	İnka
E) Çin	İnka	Akdeniz

6. Aşağıdakilerden hangisi ilk medeniyetlerin kurulmasında ve gelişmesinde diğerlerine göre daha az etkili olmuştur?

- A) İklim koşulları B) Hidrografik yapı
C) Toprak özellikleri D) Yer şekilleri
E) Bitki örtüsü

İlk Kültür Merkezleri

7.

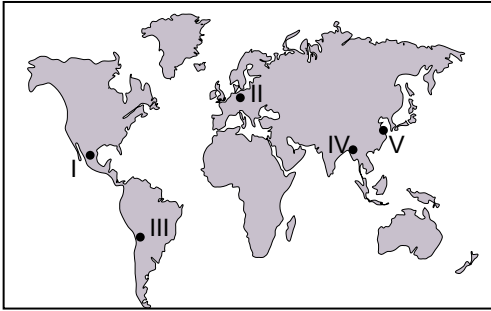


- Fırat ve Dicle nehirleri arasında kurulmuştur.
- Sulama kanallarını yapmışlardır.
- Drenaj sistemiyle bataklıkları drene etmişlerdir.

Yukarıda bazı özellikleri verilen ilk kültür merkezlerinin kuruldukları yer haritada kaç numara ile gösterilmiştir?

- A) I. B) II. C) III. D) IV. E) V.

8.



- Önce Meksika, zamanla Orta Amerika'ya hakim olmuştur.
- XIII - XVI.yy arasında yaşamıştır.
- Bahçe sanatı, sulama, nadas uygulamışlardır.
- Dini inanışları yaşamlarında çok önemlidir.

Yukarıda bazı özellikleri verilen uygarlık haritada numaralandırılmış yerlerin hangisinde yaşamıştır?

- A) I. B) II. C) III. D) IV. E) V.

9. Nil nehrinin taşması mısır medeniyetinin hangi alanda ilerlemesine katkı sağlamıştır?

- A) Astronomi B) Tıp C) Denizcilik
D) Tarım E) Ulaşım

10. Aşağıdakilerden hangisi Hint medeniyetinin özelliklerinden biri değildir?

- A) Tarımsal faaliyetler üzerinde doğal koşulların etkisi fazladır.
B) Kast sistemi ile toplum çeşitli sınıflara ayrılmıştır.
C) Uygun coğrafi koşullar nedeniyle pek çok kez istilaya uğramıştır.
D) Tıp, matematik ve astronomi alanlarında önemli gelişmeler göstermişlerdir.
E) İndus, Ganj ve Brahmaputra nehirleri havzasında kurulup gelişmiştir.

11. I. Gelişmiş tarım yöntemleri uygulamışlardır.
II. Taş işçiliği ve mimaride gelişmişlerdir.
III. Güneşin hareketleri konusunda uzmanlaşmışlardır.
IV. İpekli dokumada ilerlemişlerdir.

Yukarıda verilenlerden hangileri Aztek medeniyetine ait bir özellik değildir?

- A) I ve II. B) I ve III. C) II ve III.
D) II ve IV. E) III ve IV.

12. • Nil nehri çevresinde kurulmuştur.
• Dicle ve Fırat nehirleri arasında kalan bölgede kurulmuştur.
• Sarırmak ve Gökırmak nehirleri havzasında pamuk ve pirinç tarımı yapmıştır.
• Gemi yapımında ustalaşmış ve ticaret kolonileri kurmuştur.

Yukarıda hangi medeniyete ait bir özellik verilmemiştir?

- A) Akdeniz medeniyetleri
B) Mısır medeniyeti
C) Çin medeniyeti
D) İnka medeniyeti
E) Mezopotamya medeniyetleri

