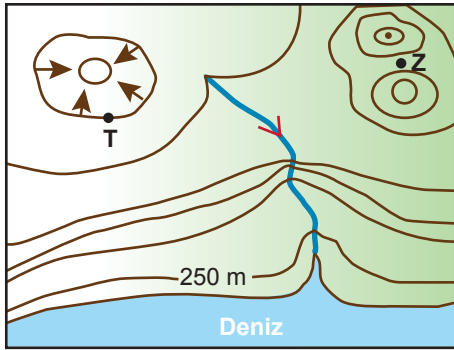


İzohipsler

1.



Verilen topografya haritasına bakıldığında aşağıdaki-lerden hangisi söylenemez?

- A) T noktasının yükseltisi 1000 m dir.
- B) Z noktası boyun üzerinde bulunur.
- C) Akarsu ağzında halîç oluşmuştur.
- D) En yüksek noktanın yükseltisi 1750 m den fazladır.
- E) Akarsuyun akış hızı yer yer değişiklik göstermektedir.

2. Bir topografya haritasında, X bölgesindeki izohipsler arası mesafe, Y bölgesine göre daha azdır.

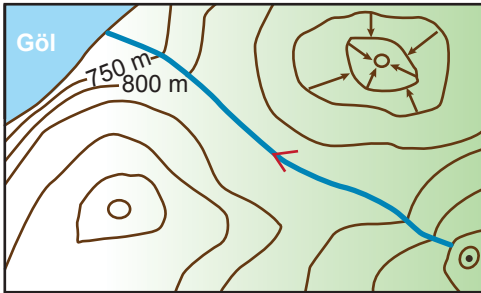
Buna göre X bölgesinde, Y bölgesine göre;

- I. akarsuların akış hızı,
- II. akarsuların derine aşındırması,
- III. gerçek alan ile izdüşüm alan arasındaki fark

verilenlerden hangilerinin fazla olması beklenir?

- A) Yalnız I.
- B) Yalnız II.
- C) I ve II.
- D) I ve III.
- E) I, II ve III.

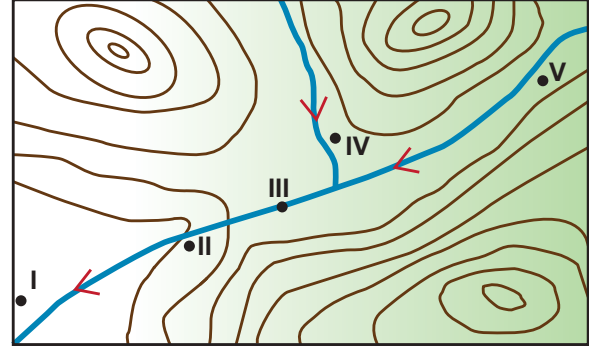
3.



Yukarıdaki izohips haritasında aşağıdaki yer şekillerinden hangisi yoktur?

- A) Vadi
- B) Tepe
- C) Delta
- D) Çukur
- E) Boyun

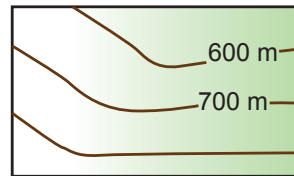
4. Akarsuyun yatak eğiminin arttığı yerlerde hidroelektrik potansiyeli artış göstermektedir.



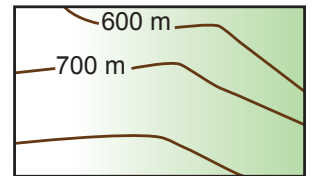
Buna göre yukarıdaki topoğrafya haritasında numaralandırılarak verilen yerlerin hangisi hidroelektrik santral kurulması için daha uygundur?

- A) I.
- B) II.
- C) III.
- D) IV.
- E) V.

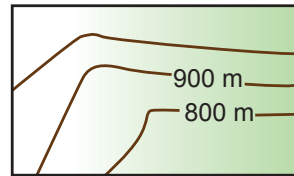
5. Aşağıda dört ayrı bölgeye ait izohips haritaları verilmiştir.



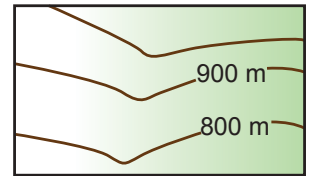
I. harita



II. harita



III. harita



IV. harita

Buna göre vadi ve sırt oluşumunun görüldüğü yerler aşağıdakilerden hangisinde doğru verilmiştir?

- | Vadi       | Sırt    |
|------------|---------|
| A) I, II   | III, IV |
| B) I, III  | II, IV  |
| C) III, IV | I, II   |
| D) II, IV  | I, III  |
| E) I, IV   | II, III |

İzohipsler

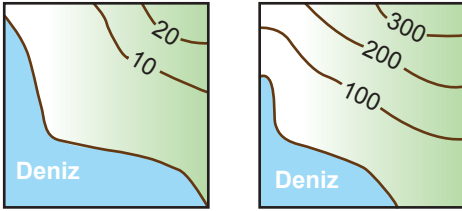
6. Aşağıda sert karasal iklim bölgesine ait bir yerin topoğrafya haritası verilmiştir.



Bu haritaya bakıldığında verilen noktaların hangisinde çığ oluşma ihtimali diğerlerine göre daha fazladır?

- A) I. B) II. C) III. D) IV. E) V.

7. Aşağıda verilen topoğrafya haritaları aynı bölgelere aittir.



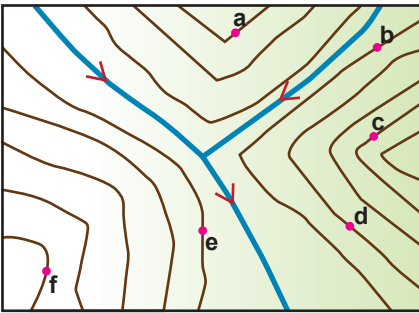
Buna rağmen bazı farklılıkların görülmesinin nedeni olarak;

- I. haritaların ölçeklerinin farklı olması,
- II. farklı yöntemlerle çizilmiş olmaları,
- III. farklı kişiler tarafından çizilmiş olmaları

verilenlerden hangileri gösterilir?

- A) Yalnız I. B) Yalnız II. C) Yalnız III.  
D) I ve II. E) II ve III.

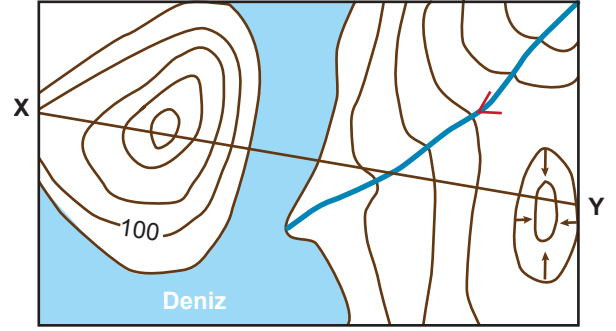
8. Aşağıda bir alana ait izohips haritası verilmiştir.



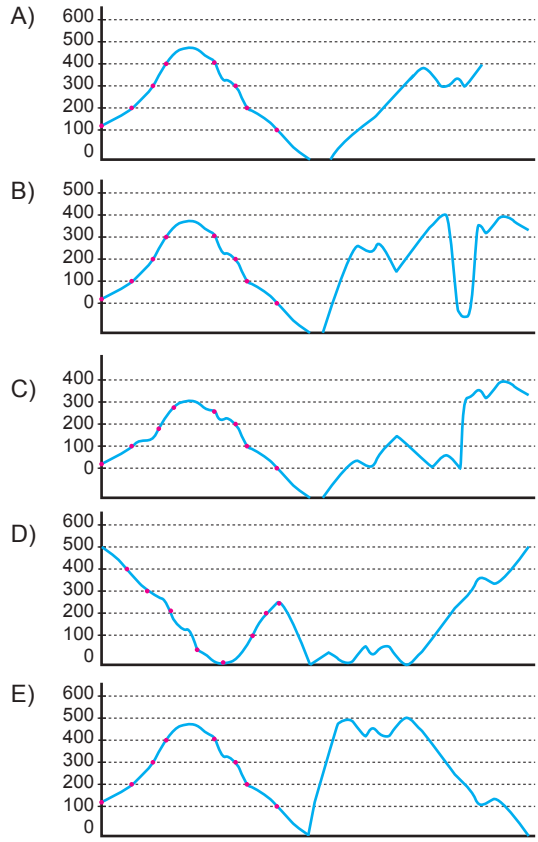
haritadaki noktalardan hangileri aynı yükseltiye sahiptir?

- A) a ve b B) b ve c C) d ve e  
D) b ve e E) c ve d

9.



Verilen izohips haritasında X-Y doğrultusundan çıkarılacak olan profil aşağıdakilerden hangisidir?



10. I. Yükseltisi fazla olan eğri, az olan eğriyi çevreler.  
II. Aynı izohips üzerinde bulunan tüm noktaların yükseltisi aynıdır.  
III. Tüm göllerin yükseltisi 0 m dir.

Yukarıda izohipslerle ilgili olarak verilen bilgilerden hangileri doğrudur?

- A) Yalnız I. B) Yalnız II. C) I ve II.  
D) I ve III E) II ve III.

