

KAREKÖKLÜ İFADELER - 1

1. Aşağıdakilerden hangisi tam kare doğal sayıdır?

- A) 8 B) 27 C) 35 D) 49

2. 81, 75, 121, 256, 16, 64, 36, 42, 24 sayılarından kaç tanesi tam kare doğal sayı değildir?

- A) 6 B) 5 C) 4 D) 3

3. Karekökü tam sayı olmayan iki basamaklı kaç tane doğal sayı vardır?

- A) 84 B) 86 C) 88 D) 90

4. Alanı 16 cm^2 olan bir karenin çevresi kaç santimetredir?

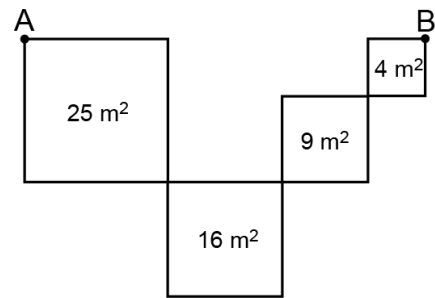
- A) 8 B) 12 C) 16 D) 32

5. $a^2 = 16$ ve $b^2 = 25$ olduğuna göre $a - b$ işleminin sonucu en az kaçtır?

- A) -9 B) -1 C) 1 D) 9

MEB 2016 - 2017

6.



Yukarıdaki şekilde alanları 25 m^2 , 16 m^2 , 9 m^2 ve 4 m^2 olan karelerin köşeleri uç uca eklenmiştir. Buna göre karelerin köşelerinde bulunan A noktasından B noktasına kenarlar kullanılarak gidilen en kısa uzaklık kaç metredir?

- A) 14 B) 24 C) 32 D) 34

KAREKÖKLÜ İFADELER - 1

7. $\sqrt{79}$ sayısı hangi iki ardışık tam sayı arasındadır?

- A) 6 ile 7 B) 7 ile 8
C) 8 ile 9 D) 9 ile 10

8. $\sqrt{132}$ sayısına en yakın tam sayı aşağıdakilerden hangisidir?

- A) 11 B) 12 C) 13 D) 14

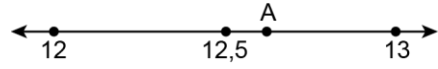
9. $9 < \sqrt{b} < 10$ şartını sağlayan kaç farklı b tam sayısı vardır?

- A) 15 B) 16 C) 17 D) 18

10. $\sqrt{17}$ ve $\sqrt{125}$ sayıları arasında kaç tane tam sayı vardır?

- A) 6 B) 7 C) 8 D) 9

11.




Yukarıdaki sayı doğrusunda A ile gösterilen sayı aşağıdakilerden hangisi olabilir?

- A) $\sqrt{150}$ B) $\sqrt{155}$ C) $\sqrt{158}$ D) $\sqrt{168}$

MEB 2016 - 2017

12.



Yukarıdaki sayı doğrusunda gösterilen a ve b ardışık tam sayılar olduğuna göre a + b kaçtır?

- A) 27 B) 29 C) 31 D) 33

Adı :

Soyadı :

Sınıf :

No :

1	2	3	4	5	6	7	8	9	10	11	12
A	A	A	A	A	A	A	A	A	A	A	A
B	B	B	B	B	B	B	B	B	B	B	B
C	C	C	C	C	C	C	C	C	C	C	C
D	D	D	D	D	D	D	D	D	D	D	D

Doğru :

Yanlış :

Boş :

Puan :