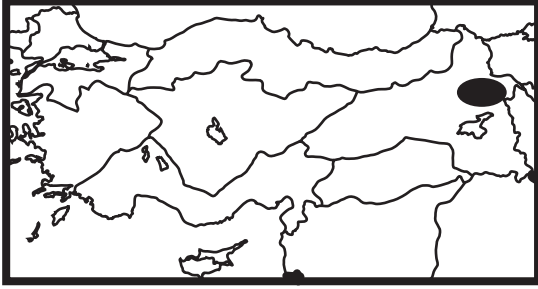


SINIF Milli Uyanış Yurdumuzun İşgaline Tepkiler

1.



Kurtuluş Savaşı'nda yukarıdaki Türkiye haritasında gösterilen işaretli alanda aşağıdakilerden hangisine karşı savaşılmıştır?

- A) Ermenilere
- B) Fransızlara
- C) Yunanlılara
- D) İtalyanlara

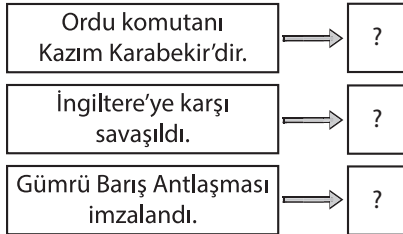
2. "Çok zor yıllardı çocuklar, topraklarımız Fransızlar tarafından işgal edildi. Büyüklerimiz birleşerek direniş gösterdi. Hatta Sütçü İmam direnişin sembolü oldu."

Yukarıda şahit olduğu olayı anlatan kişi Kurtuluş Savaşı yıllarında hangi şehirde yaşamıştır?

- A) Antep
- B) Urfa
- C) Maraş
- D) Uşak

3.

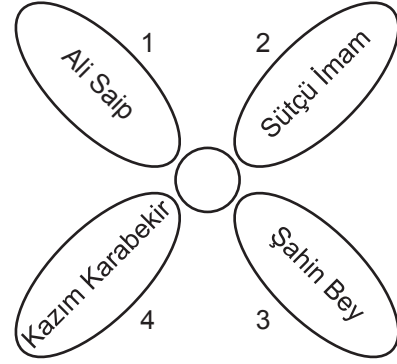
DOĞU CEPHESİ



Yukarıdaki şemada '?' li yerlere doğru olanlarına 'D' yanlış olanlarına 'Y' yazıldığında doğru sıralama aşağıdakilerden hangisi olur?

- A) D-D-Y
- B) D-Y-D
- C) Y-D-Y
- D) Y-Y-D

4.



Yukarıdaki çiçeğin yapraklarında Kurtuluş Savaşı'nda kahramanlıklar gösteren kişiler yer almaktadır.

Buna göre, çiçekte yalnızca Güney Cephesi'nde savaşan kişiler kalacak olsa kaç numaralı yaprağın kopartılması gerekir?

- A) 1
- B) 2
- C) 3
- D) 4

5. 1- Doğu Cephesi'nde Kazım Karabekir komutasındaki ordu Ermeniler'i mağlup etmiştir.
2- Ermeniler, Sevr Antlaşması'nın geçersiz olduğunu imzaladıkları antlaşmayla kabul etmişlerdir.
3- Doğu Cephesi'nde elde edilen başarıdan sonra ordunun bir kısmı Batı Cephesi'ne kaydırılmıştır.

verilen bilgilerden hangileri doğrudur?

- A) 1 ve 2
- B) 1 ve 3
- C) 2 ve 3
- D) 1, 2 ve 3

6. Güney Cephesi'nde Fransızlara karşı verilen mücadele aşağıdaki antlaşmalardan hangisinin imzalanmasıyla son bulmuştur?

- A) Gümrü
- B) Ankara
- C) Mondros
- D) Moskova

Milli Uyanış Yurdumuzun İşgaline Tepkiler

7. TBMM tarafından Kurtuluş Savaşı'nda işgallere karşı direnişlerinden dolayı; Antep'e "Gazi", Maraş'a "Kahraman", Urfa'ya "Şanlı" ünvanları verilmiştir.

Bu illere ünvanların verilmiş olması;

- 1- Ekonomik çıkar elde edilmek istenmesi
- 2- İllerin birbirlerine komşu olmaları
- 3- Verdikleri mücadelenin bütün ülke tarafından takdir edilmesi

durumlarından hangileriyle açıklanabilir?

- A) Yalnız 1
- B) Yalnız 2
- C) Yalnız 3
- D) 1 ve 2

8. **1. Durum:** Fransa Mondros Mütarekesi'nden sonra Güney bölgelerimize asker çıkarmıştır.

2. Durum: Devlet Fransızların işgaline müdahale edecek ordu gönderememiştir.

Sonuç: ?

Verilen iki durumun sonucunda aşağıdakilerden hangisi gerçekleşmiştir?

- A) Halk bölgeyi teslim etmiştir.
- B) Düşman kolayca bölgedeki şehirleri işgal etmiştir.
- C) Düzenli ordu bölgeyi kurtarmıştır.
- D) Halk Kuvayimilliyeye örgütleriyle direniş göstermiştir.

9. Kurtuluş Savaşı'nda Güney Cephesi'nde düzenli ordu olmamasına rağmen, halk kendi içinde örgütlenerek kurduğu Kuvayimilliyeye birlikleri ile Urfa, Antep, Maraş gibi şehirlerde büyük başarılarla imza atılmasını sağlamıştır.

Buna göre;

- 1- Halk bağımsız yaşamayı istemektedir.
- 2- Halk kendi imkanlarıyla savaşmıştır.
- 3- Devlet tüm gücünü kullanmıştır.

yargılarından hangilerine ulaşılabilir?

- A) Yalnız 1
- B) Yalnız 2
- C) 1 ve 2
- D) 2 ve 3

10. Mondrostan sonra Antep, Urfa, Maraş İngilizler tarafından işgal edilmiştir. Fakat yapılan antlaşmalar gereği bölgeyi bir süre sonra Fransızlara bırakmışlardır.

Buna göre;

- 1- Bölge paylaşım planında değişiklik olmuştur.
- 2- Halk işgalcilere karşı kendini savunmuştur.
- 3- İngilizler bölgeyi daha sonra geri almıştır.

yargılarından hangilerine ulaşılabilir?

- A) Yalnız 1
- B) 1 ve 2
- C) 2 ve 3
- D) 1, 2 ve 3

11.

**Kurtuluş Savaşı'nda haritada gösterilen yerlerde savaşılan devletler aşağıdakilerden hangisinde doğru olarak verilmiştir?**

- | | |
|---------------|------------|
| 1 | 2 |
| A) Ermeniler | Fransızlar |
| B) Yunanlılar | İngilizler |
| C) Ermeniler | Yunanlılar |
| D) Ruslar | Ermeniler |

12. Anadolu'da uzun yıllar Osmanlı hakimiyeti altında huzur içinde yaşayan fakat sonrasında Avrupa devletlerinin kışkırtmasıyla ayaklanan millet aşağıdakilerden hangisidir?

- A) Sırlar
- B) Ermeniler
- C) Yunanlılar
- D) İngilizler



Adı :

Soyadı :

Sınıf :

NO :

1	2	3	4	5	6	7	8	9	10	11	12
A	A	A	A	A	A	A	A	A	A	A	A
B	B	B	B	B	B	B	B	B	B	B	B
C	C	C	C	C	C	C	C	C	C	C	C
D	D	D	D	D	D	D	D	D	D	D	D

Doğru :

Yanlış :

Boş :

Puan :