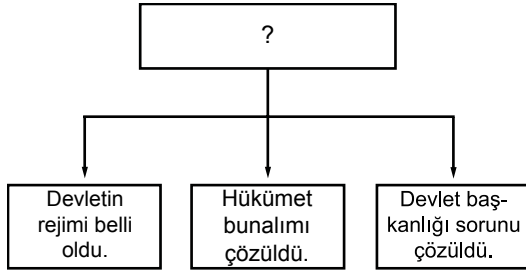


1.



Yukarıda verilen diyagramdaki boşluğa aşağıdakilerden hangisinin yazılması doğru olur?

- A) Cumhuriyet'in ilanı
- B) TBMM'nin açılması
- C) Büyük Taarruzun kazanılması
- D) Medeni Kanunun kabulü

2. Aşağıdakilerden hangisi Atatürk ilke ve ilkelerinin özelliklerinden değildir?

- A) Laik düşünce ve hukuka dayanır.
- B) Akılcı ve bilimseldir.
- C) Türk milletinin ihtiyaçlarından doğmuştur.
- D) Mazlum milletler örnek alınmıştır.

3. Mustafa Kemal Atatürk'ün yaptığı şapka inkılabı daha çok aşağıdakilerden hangisiyle bağlantılıdır?

- A) Milliyetçilik
- B) Çağdaşlaşma
- C) Bağımsızlık
- D) Egemenlik

4. Lozan Barış Konferansı'nda Boğazlar meselesi Türkiye'nin istediği biçimde çözümlenememiş ve Boğazlar'ın tüm milletlere açık olması kabul edilmiştir.

**Bu durum Türk Devleti'nin;**

- 1. Tam bağımsızlık
- 2. Milli egemenlik
- 3. Milli birlik

**özelliklerinden hangisi veya hangilerini engellemiştir?**

- A) Yalnız 1.
- B) Yalnız 2.
- C) 1. ve 3.
- D) 2. ve 3.

5. Cumhuriyet döneminde yapılan aşağıdaki düzenlemelerden hangisi ekonomik alanda yenilikler yapmayı amaçlamıştır?

- A) Tevhid-i Tedrisat Kanunu
- B) Şeriye ve Evkaf Vekaleti'nin kaldırılması
- C) Halifeliğin kaldırılması
- D) İzmir İktisat Kongresinin toplanması

6. Türkiye Cumhuriyeti'nde gerçekleşen bazı yenilikler şöyledir:

- 1. Şapka kanununun çıkartılması
- 2. Aşar vergisinin kaldırılması
- 3. Kılık - kıyafet kanununun yapılması
- 4. Türk Tarih Kurumunun kurulması

**Buna göre verilen yenilik hareketlerinden hangileri topluma çağdaş bir görünüm kazandırmaya yönelik olduğu söylenebilir?**

- A) 1. ve 2.
- B) 1. ve 3.
- C) 2. ve 4.
- D) 1., 2. ve 4.

7. Cumhuriyet döneminde görülen gelişmelerden bazıları şunlardır:

- 1. Halifeliğin kaldırılması
- 2. Saltanatın kaldırılması
- 3. Türk Tarih Kurumu'nun kurulması

**bu gelişmeler Atatürk ilkeleriyle ilişkilendirildiğinde, aşağıdakilerden hangisi doğru olur?**

- |    |                 |                 |               |
|----|-----------------|-----------------|---------------|
|    | 1.              | 2.              | 3.            |
| A) | Laiklik         | Devletçilik     | Milliyetçilik |
| B) | Milliyetçilik   | Halkçılık       | Laiklik       |
| C) | Cumhuriyetçilik | Devletçilik     | Milliyetçilik |
| D) | Laiklik         | Cumhuriyetçilik | Milliyetçilik |

## Atatürkçülük - 5

8. Özel teşebbüsün yapamadığı yatırımların, devlet eliyle yapılması (1) - - - - ilkesidir. Milli gelirin halka eşit bir şekilde dağıtılması (2) - - - - ilkesiyle ilgilidir.

**Bu cümlelerde boş bırakılan yerlere aşağıdaki ilkelerden hangileri yazılmalıdır?**

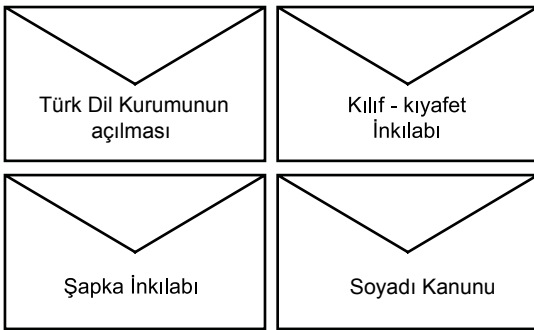
- |                  |                 |
|------------------|-----------------|
| 1                | 2               |
| A) laiklik       | halkçılık       |
| B) devletçilik   | halkçılık       |
| C) milliyetçilik | laiklik         |
| D) devletçilik   | cumhuriyetçilik |

9. Halkın, sağlık, eğitim ve çalışma olanaklarından eşit bir şekilde yararlanması, herkesin kanun önünde eşit olmasını esas alan ilke - - - - 'tir.

**Yukarıdaki boşluk aşağıdakilerden hangisiyle tamamlanmalıdır?**

- A) milliyetçilik  
B) halkçılık  
C) devletçilik  
D) laiklik

10.



**Yukarıda verilenlerden kaç tanesi halkçılık ilkesiyle ilgilidir?**

- A) 1      B) 2      C) 3      D) 4

11. • Aşar vergisinin kaldırılması  
• Tarım Kredi Kooperatiflerinin kurulması  
• Toprak reformunun yapılması

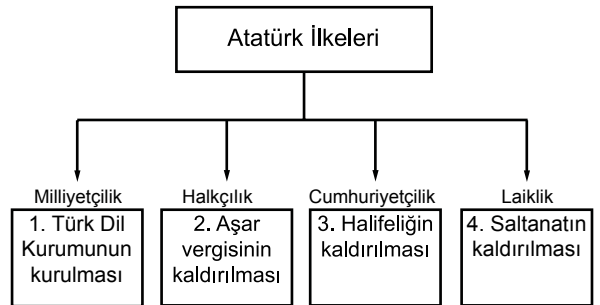
**Yukarıda verilen yeniliklere bakılarak;**

- Halkçılık ilkesi çerçevesinde politikalar uygulanmıştır.
- Tarım sektörü geliştirilmeye çalışılmıştır.
- Sanayileşmeye hız verilmiştir.

**Yargılarından hangilerine ulaşılabilir?**

- A) Yalnız 1.      B) 1. ve 2.  
C) 1. ve 3.      D) 2. ve 3.

12.



**Yukarıda verilen diyagramla ilgili aşağıdakilerden hangisine ulaşılabilir?**

- A) Diyagramdaki eşleştirmeler doğrudur.  
B) Diyagramda 1. ve 2. yer değiştirmelidir.  
C) Diyagramda 3. ve 4. yer değiştirmelidir.  
D) Diyagramda 2. ve 4. yer değiştirmelidir.



Adı : .....  
Soyadı : .....  
Sınıf : .....  
No : .....

1	2	3	4	5	6	7	8	9	10	11	12
A	A	A	A	A	A	A	A	A	A	A	A
B	B	B	B	B	B	B	B	B	B	B	B
C	C	C	C	C	C	C	C	C	C	C	C
D	D	D	D	D	D	D	D	D	D	D	D

Doğru : .....  
Yanlış : .....  
Boş : .....  
Puan : .....