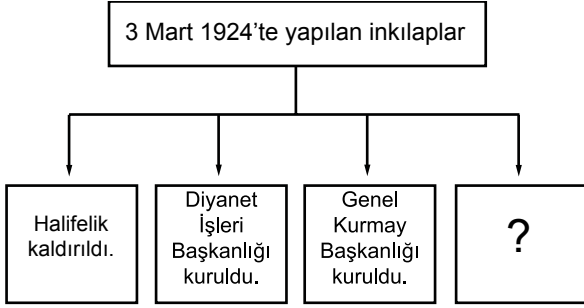


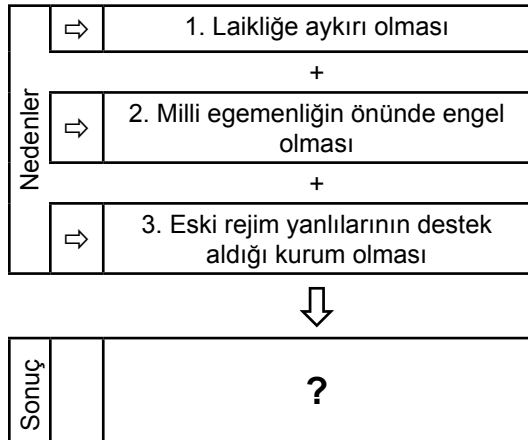
1.



Yukarıda "?" ile gösterilen yere aşağıdakilerden hangisi getirilmelidir?

- A) Saltanat kaldırıldı.
B) Harf İnkılabı yapıldı.
C) Şapka Kanunu çıkarıldı.
D) Tevhiditedrisat Kanunu çıkarıldı.

2.



Verilen nedenlere bakarak "?" olan yere aşağıdakilerden hangisi getirilmelidir?

- A) Medeni Kanunu'nun çıkarılması
B) Cumhuriyet'in ilanı
C) Halifeliğin kaldırılması
D) Tevhiditedrisat Kanunu'nun kabulü

3. Çok partili hayata geçişin gecikmesinde;

- Tevhiditedrisat Kanunu'nun kabulü
- Medeni Kanun'un kabulü
- Şeyh Said isyanı
- Menemen Olayı

gelişmelerinden kaç tanesinin etkisi vardır?

- A) 1 B) 2 C) 3 D) 4

4. "Paris büyükelçisi iken Mustafa Kemal Atatürk'ün daveti üzerine Ankara'ya gelmişim. Ülkenin ekonomik yönden zor bir dönemden geçtiği ve yeni düşüncelere ihtiyaç olduğunu söyledi. Bu sorunun parti kurmakla çözülebileceğini söyledi ve parti kurmamı istedi."

Fethi Okyar'ın verdiği bu bilgilere bakarak aşağıdakilerden hangisi söylenebilir?

- A) Mustafa Kemal, çok partili sisteme geçmek istemektedir.
B) Fethi Okyar, Terakkiperver Cumhuriyet Fırkası'nın kurucusudur.
C) Fethi Okyar askeri alanda uzmanlaşmıştır.
D) İlk muhalefet partisini Fethi Okyar kurmuştur.

5. M. Kemal; cumhuriyet ile demokrasiyi birbirini tamamlayan unsur olarak kabul etmiş, bunun vazgeçilmez unsuru olarak ise çok partili hayatı görmüştür.

Bu durumun kanıtı olarak;

- Serbest Cumhuriyet Fırkası'nın kurulmasında etkili olması,
 - Terakkiperver Cumhuriyet Fırkası'nın kurulmasını olumlu karşılaması,
 - Demokratik partinin kapatılması,
- gelişmelerinden hangileri gösterilebilir?

- A) Yalnız 1. B) 1. ve 2.
C) 2. ve 3. D) 1. - 2. ve 3.

6.



Verilen gelişme ve sonuçlar birlikte değerlendirildiğinde aşağıdaki yargılardan hangisine ulaşılabilir?

- A) Çok partili hayata geçiş için ortam hazır değildir.
B) İsyanlarda diğer ülkelerin etkisi vardır.
C) İstanbul hükümeti yönetimde etkilidir.
D) İsyanların en önemli nedeni ekonomiktir.

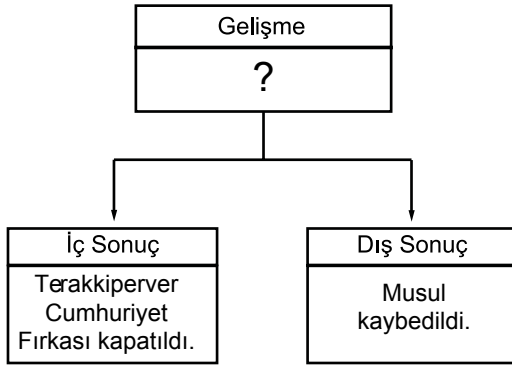
7.

1.	İngiltere	3.	Rusya
2.	Fransa	4.	İtalya

Şeyh Sait İsyanını destekleyen ülke yukarıdakilerden hangisidir?

- A) 1. B) 2. C) 3. D) 4.

8.



Verilen sonuçlara neden olan gelişme aşağıdakilerden hangisidir?

- A) Menemen İsyanı
B) Halifeliğin kaldırılması
C) Saltanatın kaldırılması
D) Şeyh Sait İsyanı

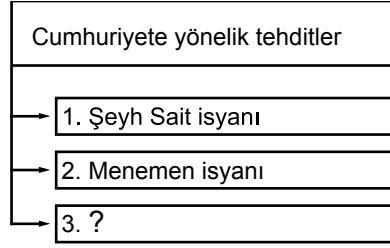
9. "Benim naziz vücudum elbet bir gün toprak olacaktır. Fakat Türkiye Cumhuriyeti ilelebet payidar kalacaktır."

(Mustafa Kemal Atatürk)

Mustafa Kemal Atatürk bu sözü aşağıdaki gelişmelerden hangisi ile ilgili olarak söylemiştir?

- A) Şeyh Sait İsyanı
B) Menemen İsyanı
C) Atatürk'e suikast düzenlenmesi
D) Cumhuriyet'in ilanı

10.



Verilen şemada "?" olan yere aşağıdakilerden hangisi getirilmelidir?

- A) Hıyanetivatanıye Kanunu
B) Terakkiperver Cumhuriyet Fırkası'nın kuruluşu
C) Atatürk'e suikast girişimi
D) Tevhiditedrisat Kanunu

11.

1.	Cumhuriyet Halk Fırkası
2.	Terakkiperver Cumhuriyet Fırkası
3.	Serbest Cumhuriyet Fırkası
4.	Demokrat Parti

Verilenlerden hangileri Atatürk döneminde kurulan partilerden biri değildir?

- A) 1. B) 2. C) 3. D) 4.

12.



Verilen özellikler aşağıdakilerden hangisine aittir.

- A) Terakkiperver Cumhuriyet Fırkası
B) Cumhuriyet Halk Fırkası
C) Demokrat Parti
D) Serbest Cumhuriyet Fırkası



Adı :

Soyadı :

Sınıf :

No :

1	2	3	4	5	6	7	8	9	10	11	12
A	A	A	A	A	A	A	A	A	A	A	A
B	B	B	B	B	B	B	B	B	B	B	B
C	C	C	C	C	C	C	C	C	C	C	C
D	D	D	D	D	D	D	D	D	D	D	D

Doğru :

Yanlış :

Boş :

Puan :