

1. 1. Dünya Savaşı'ndan önce devletler arasında bloklaşma yaşanmıştır. Osmanlı Devleti İttifak (Bağlaşma) grubuna katılmıştır. Aşağıdakilerden hangisi bu grup içinde yer alan devletlerden biri değildir?

A) Almanya
C) Bulgaristan
B) İtalya
D) İngiltere

2.

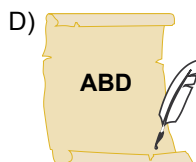
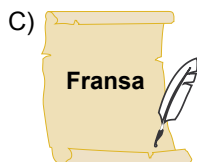
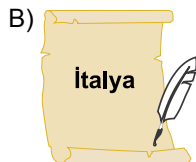
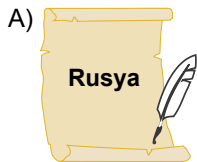
Enver Paşa ve arkadaşları, savaşı Almanların kazanacağına inanıyordu. Böylece kaybedilen toprakların geri alınabileceğini düşünüyorlardı. Ancak bazı devlet adamları İngiltere ile anlaşma yapmak gerektiğini düşünüyordu.



Öğretmenin verdiği bilgilere bakarak Osmanlı Devleti'nin savaşa neden girdiği söylenebilir?


A) Sömürge elde etmek için
B) Kaybedilen toprakları geri almak için
C) Avrupa devleti olabilmek için
D) Sanayi alanında gelişmek için

3. 1. Dünya Savaşı sırasında İtilaf Devletleri Osmanlı Devleti'ni gizli antlaşmalarla paylaşmışlardır. Aşağıdakilerden hangisi bu devletlerden değildir?



4.

Sırbistan'ın Makedonya'yı almasını önlemek.



İlker

Rusya'ya denizden yardım etmek.



Betül

Süveyş kanalını ele geçirmek.



İsmail

Filistin'i ele geçirmek.

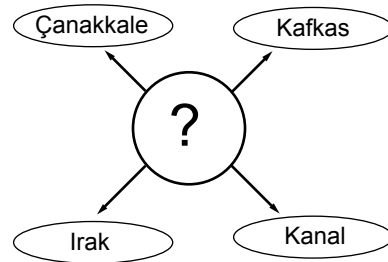


Deniz

Hangi öğrenci 1. Dünya Savaşı'nda Çanakkale Cephesi'nin açılma nedenleri hakkında doğru bilgi vermiştir?

A) İlker
C) İsmail
B) Betül
D) Deniz

5.



Verilen diyagramda "?" olan yere aşağıdakilerden hangisi gelmelidir?

A) Trablusgarp Savaşı Cepheleri
B) Balkan Savaşı Cepheleri
C) 2. Dünya Savaşı Cepheleri
D) 1. Dünya Savaşı Cepheleri

6. Osmanlı Devleti'nin 1. Dünya Savaşı'nda savaştığı aşağıdaki cephelerden hangisi ülke sınırları dışında gerçekleşmiştir?

A) Çanakkale
C) Irak
B) Kafkas
D) Makedonya

Milli Uyanış: Yurdumuzun İşgaline Tepkiler - 1 (1. Dünya Savaşı)

7.

1915 yılında İtilaf Devletleri'nin Rusya'ya yardım etmek ve Osmanlı Devleti'ni savaş dışı bırakmak için saldırdıkları cephe'dir.

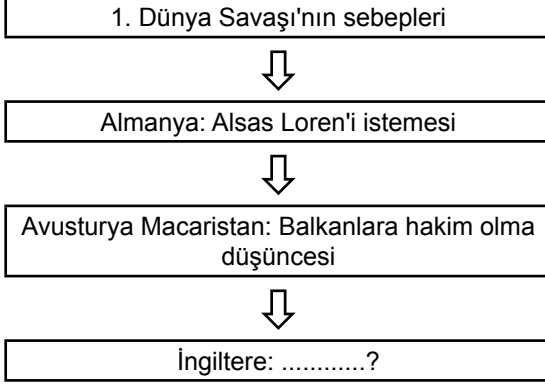
İngiltere'nin sömürgeleriyle olan bağlantısını kesmek ve Mısır'ı geri almak için Osmanlı Devleti tarafından açılan cephe'dir.

1914 yılında Rusya'nın Osmanlı topraklarına saldırısıyla açılan, Türk ordusunun büyük kayıplar verdiği cephe'dir.

Verilen tablolarda aşağıdakilerden hangisi ile ilgili bir bilgi bulunmamaktadır?

- A) Kafkasya Cephesi
B) Kanal Cephesi
C) Hicaz - Yemen Cephesi
D) Çanakkale Cephesi

8.



Verilen şemada İngiltere'nin savaşa girme sebebi olarak "?" ile gösterilen yere aşağıdakilerden hangisi getirilmelidir?

- A) Sömürge rekabeti içinde olması
B) Sıcak denizlere inmek istemesi
C) Mısır'ı ele geçirme düşüncesi
D) Topraklarını koruma düşüncesi

9.

- Mondros Ateşkes Antlaşması'na göre;
- Madde 5: Osmanlı'ya ait silahlar, cephane İtilaf Devletlerinin denetimine verilerek.
 - Madde 7: İtilaf Devletleri kendi güvenliklerini tehdit edecek bir durum ortaya çıkarsa herhangi bir stratejik noktayı işgal edebilecek.
 - Madde 12: Bütün haberleşme İtilaf Devletlerinin denetiminde olacak.
 - Madde 16: Ordular, İtilaf Devletlerine teslim olacak.

Verilen maddelere göre Osmanlı Devleti'nin durumu hakkında aşağıdakilerden hangisi söylenebilir?

- A) Osmanlı Devleti tamamen sona ermiştir.
B) İşgallere açık ve savunmasız bir hâle getirilmiştir.
C) Anadolu topraklarını kaybetmiştir.
D) İstanbul ve boğazlar Avrupalı devletlere geçmiştir.

10.

Mondros Ateşkes Antlaşması'ndan sonra İstanbul'a gelen Mustafa Kemal, İtilaf Devletlerinin gemilerini limanda görünce "Geldikleri gibi giderler!" demiştir.

Bu söz Mustafa Kemal'in hangi yönünü gösterir?

- A) İleri görüşlülüğünü
B) Barış yanlısı olduğunu
C) İnkılapçılığını
D) Bağımsızlık mücadelesine olan inancını

11.

Birinci Dünya Savaşı Cephesi;

1. Kafkas Cephesi
2. Çanakkale Cephesi
3. Hicaz - Yemen Cephesi

Rusya	İngiltere	İsyançı Araplar + İngiltere
?	?	?

Verilen cephelere ait numaralar, savaşılan devletlerin altındaki "?" olan yere yerleştirildiğinde aşağıdakilerden hangisi doğrudur?

- A) 1 - 2 - 3
B) 1 - 3 - 2
C) 2 - 3 - 1
D) 3 - 1 - 2



Adı :

Soyadı :

Sınıf :

No :

1	2	3	4	5	6	7	8	9	10	11	12
A	A	A	A	A	A	A	A	A	A	A	A
B	B	B	B	B	B	B	B	B	B	B	B
C	C	C	C	C	C	C	C	C	C	C	C
D	D	D	D	D	D	D	D	D	D	D	D

Doğru :

Yanlış :

Boş :

Puan :