

Ekonomi ve Sosyal Hayat - 1

1. Tarih boyunca devletler verimli topraklara sahip olabilmek için pek çok mücadeleler vermiştir.

Aşağıdakilerden hangisi bu durumun sebeplerinden biri olamaz?

- A) Topraktan çanak ve çömlek yapılması
B) Toprağın başlıca üretim ve geçim kaynağı olması
C) Toprağın üretimde olduğu kadar yönetimde de önemli olması
D) Geniş topraklara sahip devletlerin güçlü olması

2. İpek Yolu, Çin ile Avrupa arasındaki bir ticaret yoludur. Bu yoldan Avrupa'ya ipek, porselen, kağıt gibi ürünler, ayrıca altın, gümüş, gibi değerli eşyalarda tanışınmıştır. İpek Yolu'nun kontrolünün Osmanlıya geçmesi ile Osmanlı Devleti ekonomik olarak güçlenmiştir.

Metne göre aşağıdaki yargılardan hangisine ulaşılabilir?

- A) Osmanlı Devleti İpek Yolu'nu savaş yoluyla ele geçirmiştir.
B) Yolcuların dinlenmesi için kervansaraylar yapılmıştır.
C) İpek Yolu'na hakim olmak isteyen devletler birbirleriyle savaşmıştır.
D) İpek Yolu, Osmanlı Devleti için ekonomik bir kaynak olmuştur.

3. Doğudan başlayan ticaret yolları yüzyıllarca Avrupa'nın çeşitli ihtiyaçlarını karşılamada can damarı olmuştur. İpek ve Baharat yollarının Osmanlı Devleti'nin eline geçmesi Avrupalıları yeni yollar aramaya sevk etmiştir.

Yeni ticaret yollarının bulunması aşağıdaki olaylardan hangisi ile gerçekleşmiştir?

- A) Reform Hareketleri
B) Coğrafi Keşifler
C) Haçlı Seferleri
D) Sanayi İnkılabı

4. Büyük Selçuklu Devleti'nde topraklar devlete aitti. Devletin veziri olan ve aynı zamanda Siyasetname adlı eseri ile tanınan Nizamülmülk tarafından ilk defa oluşturulan İkta Sistemi ile Selçuklular ülke topraklarını ikta adı verilen parçalara ayırmıştır. Bu toprakların vergi gelirleri vali, komutan, asker gibi devlet görevlilerine bırakılmış böylece devlet görevlilerine yaptıkları hizmet karşılığı devlet hazinesinden doğrudan para çıkmadan maaş ödenmiştir.

Yukarıda verilen bilgilere göre aşağıdakilerden hangisine ulaşamaz?

- A) Büyük Selçuklu Devleti'nde ülke yönetimi için toprak sistemi uygulanmıştır.
B) Devlet görevlilerinin maaşları devlete yük olmadan temin edilmiştir.
C) İkta Sistemi ilk defa Nizamülmülk tarafından Siyasetname adlı eserinde anlatılmıştır.
D) İkta Sistemi ile devlet görevlilerine maaş karşılığı toprakların vergi gelirleri verilmiştir.

5. Türk-İslam toplumlarında ibadete, eğitime, sağlığa ve kültürel etkinliklere yarayan birçok yapı ve kuruluş vakıf yoluyla oluşturulmuştur.

Yukarıda verilen bilgilere göre aşağıdaki yapılardan hangisinin vakıflar aracılığıyla yapıldığı söylenemez?

- A) Hastane
B) Cami
C) Medrese
D) Köşk

6. Osmanlı Devleti'nde yeni topraklar fethedildiğinde araziye kâtipler gönderilirdi. Kâtipler toprağı, elde edilen geliri ve toprağı işleyen nüfusunu kaydederdiler. Ardından arazi, gelirleri açısından belirli dilimlere bölünürdü. Has, zeamet, tımar olarak adlandırılan bu araziler; vezir, beylerbeyi, sancakbeyi ve sipahilere dirlik olarak verilirdi.

Metne göre aşağıdakilerden hangisi söylenemez?

- A) Arazi kâtipleri toprak kayıtlarını yaparlardı.
B) Araziler has, zeamet ve tımar olarak ayrılırdı.
C) Araziler devlet görevlerine dirlik olarak verilir.
D) En önemli toprak parçası zeamettir.

Ekonomi ve Sosyal Hayat - 1

7. İlk Çağ'da Anadolu ve Mezopotamya'da yaşayan uygarlıklar toprağı ekip dikerek değerlendirmiş ve bu sayede üretimi artırmıştır. Böylece ihtiyaç fazlası üretim ortaya çıkmıştır.

İhtiyaç fazlası üretim yapılması aşağıdaki ekonomik faaliyetlerden hangisinin gelişmesine neden olmuştur?

- A) Tarım
B) Ticaret
C) Hayvancılık
D) Turizm

8. Tarih boyunca toprak, insanoğlu için hep önemli olmuştur. Toprak insanların yaşamaları için gerekli olan besinleri onlara sunarken üzerine inşa edilen yapılarla insanların barınmasını da sağlar. Bu topraklarda yetişen ürünler insanlara besin kaynağı olduğu gibi üretimi gerçekleştiren kişilerin de kazanç elde etmelerini sağlamaktadır.

Yukarıda verilen metinden hareketle aşağıdaki yargılardan hangisine ulaşılabilir?

- A) Toprak insanların hem beslendiğı hem de barındığı yerdir.
B) Topraklara yönelik en büyük sorun erozyondur.
C) Toprak tüm canlıların beslenme kaynağıdır.
D) Ülkemizde verimli topraklar bulunduğu için tarımsal ürün çeşitliliğı fazladır.





9. I. Kral Yolu
II. Baharat Yolu
III. İpek Yolu

gibi ticaret yollarından hangileri Türkler tarafından kullanılmıştır?

- A) Yalnız I.
B) I ve II.
C) I ve III.
D) II ve III.

10. Cumhuriyetin kurulmasından bu yana ülke ekonomisinde tarım önemli bir yer edinmiş ve birçok kurum tarımı desteklemek için çalışmalar yapmıştır.

Buna göre aşağıdakilerden hangisi tarımı destekleyen kuruluşlardan biri değildir?

- A)  B) 
- C)  D) 
- Ziraat Bankası

11. Türk - İslam Medeniyetinde vakıfların en önemli işlevi aşağıdakilerden hangisidir?

- A) Ordunun giderlerini karşılamak
B) Devlete vergi toplamak
C) Toplumsal dayanışma ve yardımlaşmayı sağlamak
D) Ülkede ticareti geliştirmek

12. I. Öğretmenlerin beklentileri
II. Yeteneklerimizin neler olduğunu tespit etmek
III. Ailemizin bizden beklentileri
IV. Kendi kişiliğimizi tanımak

Meslek seçerken yukarıdakilerden hangilerine dikkat edilmelidir?

- A) I ve II.
B) II ve III.
C) II ve IV.
D) III ve IV.

