



EKONOMİ VE SOSYAL HAYAT - I

1. Osmanlı Devleti'nde toprak yönetimi ile ilgili olarak ortaya konulan sisteme her ne kadar Dirlık Sistemi adı verilmişse de toprakların büyük kısmı Tımar olarak dağıtıldığı için sistem Tımar Sistemi olarak adlandırılmıştır. Tımar Sistemi kapsamındaki topraklar gelirlerine göre farklı bölümlere ayrılmıştır.

Aşağıdakilerden hangisi Tımar Sistemi kapsamında yer alan toprak parçalarından biri değildir?

- A) Tahrir
B) Tımar
C) Zeamet
D) Has

2. İpek Yolu, Çin ile Avrupa arasındaki bir ticaret yoludur. Bu yoldan Avrupa'ya ipek, porselen, kağıt gibi ürünler, ayrıca altın, gümüş, gibi değerli eşyalarda tanışmıştır. İpek Yolu'nun kontrolünün Osmanlıya geçmesi ile Osmanlı Devleti ekonomik olarak güçlenmiştir.

Metne göre aşağıdaki yargılardan hangisine ulaşılabilir?

- A) Osmanlı Devleti İpek Yolu'nu savaş yoluyla ele geçirmiştir.
B) Yolcuların dinlenmesi için kervansaraylar yapılmıştır.
C) İpek Yolu'na hakim olmak isteyen devletler birbirleriyle savaşmıştır.
D) İpek Yolu, Osmanlı Devleti için ekonomik bir kaynak olmuştur.

3. Doğudan başlayan ticaret yolları yüzyıllarca Avrupa'nın çeşitli ihtiyaçlarını karşılamada can damarı olmuştur. İpek ve Baharat yollarının Osmanlı Devleti'nin eline geçmesi Avrupalıları yeni yollar aramaya sevk etmiştir.

Yeni ticaret yollarının bulunması aşağıdaki olaylardan hangisi ile gerçekleşmiştir?

- A) Reform Hareketleri
B) Coğrafi Keşifler
C) Haçlı Seferleri
D) Sanayi İnkılabı

4. Büyük Selçuklu Devleti'nde topraklar devlete aitti. Devletin veziri olan ve aynı zamanda Siyasetname adlı eseri ile tanınan Nizamülmülk tarafından ilk defa oluşturulan İkta Sistemi ile Selçuklular ülke topraklarını ikta adı verilen parçalara ayırmıştır. Bu toprakların vergi gelirleri vali, komutan, asker gibi devlet görevlilerine bırakılmış böylece devlet görevlilerine yaptıkları hizmet karşılığı devlet hazinesinden doğrudan para çıkmadan maaş ödenmiştir.

Yukarıda verilen bilgilere göre aşağıdakilerden hangisine ulaşamaz?

- A) Büyük Selçuklu Devleti'nde ülke yönetimi için toprak sistemi uygulanmıştır.
B) Devlet görevlilerinin maaşları devlete yük olmadan temin edilmiştir.
C) İkta Sistemi ilk defa Nizamülmülk tarafından Siyasetname adlı eserinde anlatılmıştır.
D) İkta Sistemi ile devlet görevlilerine maaş karşılığı toprakların vergi gelirleri verilmiştir.

5. Türk-İslam toplumlarında ibadete, eğitime, sağlığa ve kültürel etkinliklere yarayan birçok yapı ve kuruluş vakıf yoluyla oluşturulmuştur.

Yukarıda verilen bilgilere göre aşağıdaki yapılardan hangisinin vakıflar aracılığıyla yapıldığı söylenemez?

- A) Hastane
B) Cami
C) Medrese
D) Köşk

6. Ortaçağ'da Avrupa'da güçlü bir merkezi krallığın olmaması nedeni ile derebey adı verilen toprak sahipleri kendilerine ait topraklar üzerinde bağımsızlıklarını ilan ederek birçok devletçik oluşturmuşlardır. Ortaçağ'da Avrupa'da uygulanan bu sisteme - - - - adı verilmiştir.

Yukarıda verilen metinde boş bırakılan yere aşağıdakilerden hangisi getirilmelidir?

- A) feodalite
B) tımar
C) afaroz
D) ikta

EKONOMİ VE SOSYAL HAYAT - I

7. Cumhuriyetin ilk yıllarında üretim büyük ölçüde tarıma dayanıyordu.

Aşağıdakilerden hangisi Cumhuriyet Döneminde tarımı geliştirmek için yapılmış uygulamalardan biri değildir?

- A) Ziraat Bankası'nın kurulması
- B) Tımar sisteminin uygulanması
- C) Atatürk Orman Çiftliği'nin açılması
- D) Tarım Kredi Kooperatifleri'nin kurulması

8. Tarih boyunca toprak, insanoğlu için hep önemli olmuştur. Toprak insanların yaşamaları için gerekli olan besinleri onlara sunarken üzerine inşa edilen yapılarla insanların barınmasını da sağlar. Bu topraklarda yetişen ürünler insanlara besin kaynağı olduğu gibi üretimi gerçekleştiren kişilerin de kazanç elde etmelerini sağlamaktadır.

Yukarıda verilen metinden hareketle aşağıdaki yargılardan hangisine ulaşılabilir?

- A) Toprak insanların hem beslendiği hem de barındığı yerdir.
- B) Topraklara yönelik en büyük sorun erozyondur.
- C) Toprak tüm canlıların beslenme kaynağıdır.
- D) Ülkemizde verimli topraklar bulunduğu için tarımsal ürün çeşitliliği fazladır.





9. I. Kral Yolu
II. Baharat Yolu
III. İpek Yolu

gibi ticaret yollarından hangileri Türkler tarafından kullanılmıştır?

- A) Yalnız I
- B) I ve II
- C) I ve III
- D) II ve III

10. Cumhuriyetin kurulmasından bu yana ülke ekonomisinde tarım önemli bir yer edinmiş ve birçok kurum tarımı desteklemek için çalışmalar yapmıştır.

Buna göre aşağıdakilerden hangisi tarımı destekleyen kuruluşlardan biri değildir?

- A) 
- B) 
- C) 
Ziraat Bankası
- D) 

11. Türk - İslam Medeniyetinde vakıfların en önemli işlevi aşağıdakilerden hangisidir?

- A) Ordunun giderlerini karşılamak
- B) Devlete vergi toplamak
- C) Toplumsal dayanışma ve yardımlaşmayı sağlamak
- D) Ülkede ticareti geliştirmek

12. I. Öğretmenlerin beklentileri
II. Yeteneklerimizin neler olduğunu tespit etmek
III. Ailemizin bizden beklentileri
IV. Kendi kişiliğimizi tanımak

Meslek seçerken yukarıdakilerden hangilerine dikkat edilmelidir?

- A) I ve II
- B) II ve III
- C) II ve IV
- D) III ve IV

MEB 2016 - 2017