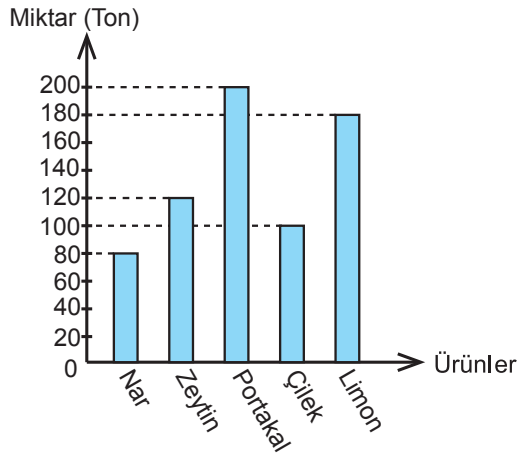


Veri Analizi ve Yorumlama

1, 2, ve 3. soruları aşağıda verilen grafiğe göre cevaplayınız.

Aşağıdaki grafikte bir ilde üretilen bazı ürünlerin üretim miktarlarının dağılımı verilmiştir.

Grafik: Bazı Ürünlerin Üretim Miktarları



1. Bu ürünler üretim miktarına göre en azdan en çoğa doğru sıralandığında baştan 4. ürün hangisi olur?

- A) Zeytin B) Nar
C) Çilek D) Limon

2. Bu ürünlerden toplam kaç ton üretilmiştir?

- A) 510 B) 680 C) 980 D) 1100

3. Verilen bilgilere göre aşağıdakilerden hangisi doğrudur?

- A) Üretilen portakal miktarı çilek miktarının iki katıdır.
B) En fazla üretilen ürün limondur.
C) En az üretilen ürün zeytindir.
D) Nar limondan 100 ton fazla üretilmiştir.

4. Aşağıdaki tabloda bir sınıftaki öğrencilerin bazı derslerden aldığı notların ortalaması ve bu sınıftaki Ezgi'nin bu derslerden aldığı notlar verilmiştir.

Tablo: Sınıf Ortalaması ve Ezgi'nin Notları

Dersler	Sınıf Ortalaması	Ezgi'nin Notu
Matematik	63	59
Türkçe	72	87
Fen Bilimleri	71	69
Sosyal Bilgiler	79	74
İngilizce	64	91

Her bir dersten sınıf ortalamasının altında not almak başarısızlık olarak kabul edildiğine göre Ezgi hangi derslerden başarısız olmuştur?

- A) Matematik - İngilizce - Fen Bilimleri
B) Türkçe - Fen Bilimleri - Sosyal Bilgiler
C) İngilizce - Türkçe - Fen Bilimleri
D) Matematik - Fen Bilimleri - Sosyal Bilgiler

5 ve 6. soruları aşağıda verilen tabloya göre cevaplayınız.

Erdem, Hülya, Demir, Gökçe ve Yeşim'in boylarının toplamı 739 cm'dir. Bu kişilerden dördünün boyları aşağıdaki tabloda verilmiştir.

Tablo: Kişilerin Boyları

Kişiler	Erdem	Hülya	Demir	Gökçe
Boyları (cm)	142	154	150	148

5. Yeşim'in boyu kaç santimetredir?

- A) 145 B) 146 C) 147 D) 148

6. Aşağıdakilerden hangisi yanlıştır?

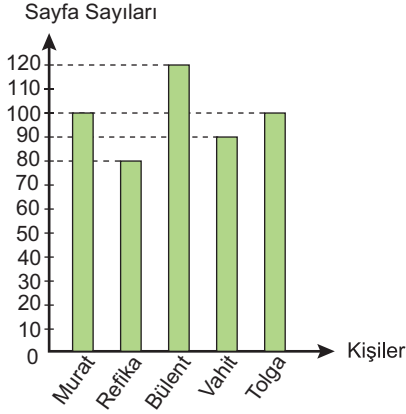
- A) En uzun boylu kişi Hülya'dır.
B) Gökçe ve Yeşim'in boyları eşittir.
C) Demir, Erdem'den 8 cm uzundur.
D) Hülya ve Erdem'in boylarının toplamı 296 cm'dir.

Veri Analizi ve Yorumlama

7, 8 ve 9. soruları aşağıda verilen grafiğe göre cevaplayınız.

Aşağıdaki grafikte 5 kişinin okuduğu kitapların sayfa sayıları verilmiştir.

Grafik: Kişilerin Okuduğu Kitapların Sayfa Sayıları



7. En çok sayfa okuyan kimdir?

- A) Vahit B) Bülent
C) Refika D) Tolga

8. Toplam okunan sayfa sayısı kaçtır?

- A) 390 B) 410 C) 450 D) 490

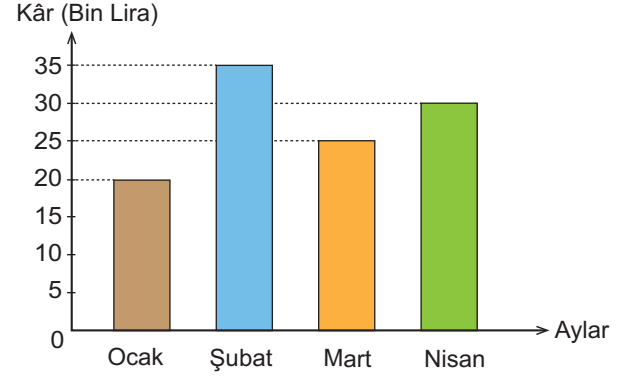
9. En fazla sayfa okuyan kişi en az sayfa okuyan kişiden kaç sayfa fazla okumuştur?

- A) 20 B) 30 C) 40 D) 50

10, 11 ve 12. soruları aşağıda verilen grafiğe göre cevaplayınız.

Aşağıdaki grafikte bir şirketin ocak, şubat, mart ve nisan aylarındaki aylık kârı verilmiştir.

Grafik: Şirketin Dört Aylık Kârı



10. En az ve en fazla kâr edilen aylar hangileridir?

- A) Ocak - Nisan B) Mart - Nisan
C) Şubat - Mart D) Ocak - Şubat

11. Aşağıdakilerden hangisi doğrudur?

- A) En çok kâr edilen ay nisan'dır.
B) Ocak ayında şubat ayının yarısı kadar kâr edilmiştir.
C) Ocak ve şubat aylarındaki kâr toplamı mart ve nisan aylarındaki kâr toplamına eşittir.
D) Mart ayında şubat ayına göre 10 000 lira fazla kâr edilmiştir.

12. Şirketin bu dört aydaki toplam kârı kaç liradır?

- A) 110 000 B) 120 000
C) 130 000 D) 140 000

