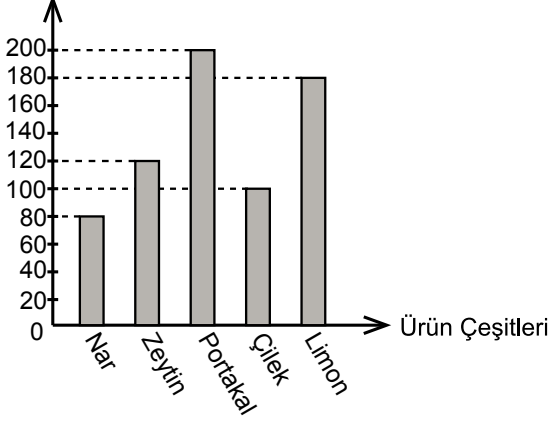


Veri Analizi ve Yorumlama

Grafik: Akdeniz Bölgesi'nde Üretilen Ürün Çeşitleri
Miktar (Ton)



Yukarıdaki grafikte Akdeniz Bölgesi'nde üretilen ürün miktarının ürünlerin çeşitlerine göre dağılımı verilmiştir.

(1, 2, ve 3. soruları yukarıda verilen grafiğe göre cevaplayınız.)

1. Üretilen ürünler miktarına göre en azdan en çoğa doğru sıralandığında baştan 4. ürün hangisidir?

- A) Zeytin B) Nar
C) Çilek D) Limon

2. Verilen bilgilere göre hangi ürün başka bir ürünün iki katı kadar üretilmiştir?

- A) Nar B) Zeytin
C) Portakal D) Limon

3. Verilen bilgilere göre aşağıdakilerden hangisi doğrudur?

- A) Portakal miktarından nar miktarı çıkarılırsa zeytin miktarı bulunur.
B) En fazla üretilen ürün limondur.
C) En az üretilen ürün zeytindir.
D) Çilek limondan 80 ton fazla üretilmiştir.

4. Tablo: Derslere Göre Başarı Puanları

Dersler	Sınıf Ortalaması	Ezgi'nin Notu
Matematik	63	59
Türkçe	72	87
Fen Bilimleri	71	69
Sosyal Bilgiler	79	74
İngilizce	64	91

Bir derste sınıf ortalamasının altında not almak başarısızlık olarak kabul edilmektedir. Yukarıdaki tabloda bir sınıfın derslere göre ortalaması ve bir öğrencinin notları görülmektedir.

Buna göre bu öğrenci hangi derslerden başarısız olmuştur?

- A) Matematik - İngilizce - Fen Bilimleri
B) Türkçe - Fen Bilimleri - Sosyal Bilgiler
C) İngilizce - Türkçe - Fen Bilimleri
D) Matematik - Fen Bilimleri - Sosyal Bilgiler

Tablo: Beş Kişinin Boy Uzunlukları

Kişiler	Erdem	Yeşim	Hülya	Demir	Gökçe
Boy Uzunlukları (cm)	142		154	150	148

Yukarıdaki tabloda beş kişiden dördünün boy uzunlukları verilmiştir. Bu beş kişinin boylarının uzunlukları toplamı 739 santimetredir.

(5 ve 6. soruları yukarıda verilen tabloya göre cevaplayınız.)

5. Yeşim'in boyunun uzunluğu kaç santimetredir?

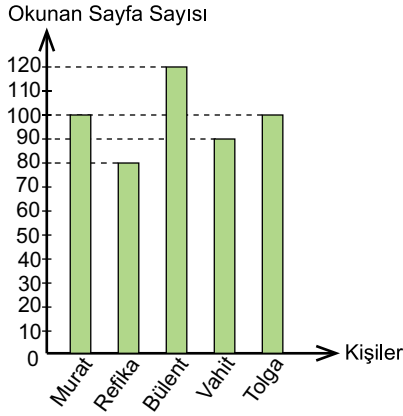
- A) 145 B) 146 C) 147 D) 148

6. Aşağıdakilerden hangisi yanlıştır?

- A) En uzun boylu kişi Hülya'dır.
B) Gökçe ve Yeşim'in boy uzunlukları eşittir.
C) Demir, Erdem'den 8 cm uzundur.
D) Hülya ve Erdem'in boy uzunlukları toplamı 296 cm'dir.

Veri Analizi ve Yorumlama

Grafik: Okunan Sayfa Sayılarının Kişilere Göre Dağılımı



Yukarıdaki grafikte 5 kişinin okudukları kitap sayfa sayıları gösterilmiştir.

(7, 8 ve 9. soruları yukarıdaki grafiğe göre cevaplayınız.)

7. En çok sayfa okuyan kimdir?

- A) Vahit B) Bülent
C) Refika D) Tolga

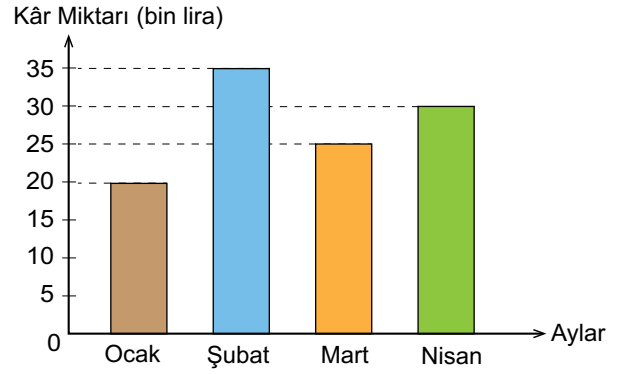
8. Toplam okunan sayfa sayısı kaçtır?

- A) 390 B) 410 C) 450 D) 490

9. En fazla sayfa okuyan kişi en az sayfa okuyan kişiden kaç sayfa fazla okumuştur?

- A) 20 B) 30 C) 40 D) 50

Grafik: Şirketin Dört Aylık Kâr Miktarı



Yukarıdaki grafikte bir şirketin dört aylık kâr miktarı gösterilmiştir.

(10, 11 ve 12. soruları yukarıdaki grafiğe göre cevaplayınız.)

10. En az ve en fazla kâr edilen aylar hangileridir?

- A) Ocak - Nisan B) Mart - Nisan
C) Şubat - Mart D) Ocak - Şubat

11. Aşağıdakilerden hangisi doğrudur?

- A) En çok kâr edilen ay nisandır.
B) Ocak ayında şubat ayının yarısı kadar kâr edilmiştir.
C) Ocak ve şubat aylarındaki kâr miktarı toplamı mart ve nisan ayları toplamına eşittir.
D) Mart ayında şubat ayına göre 10 000 lira fazla kâr edilmiştir.

12. Şirketin dört aylık toplam kârı kaç liradır?

- A) 110 000 B) 120 000 C) 130 000 D) 140 000

