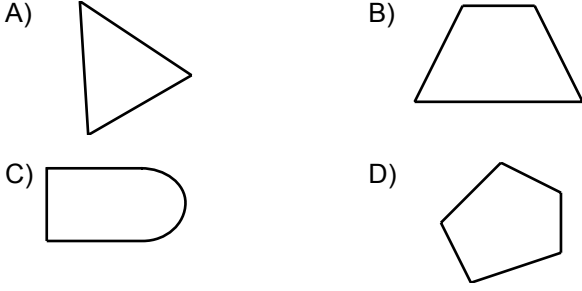
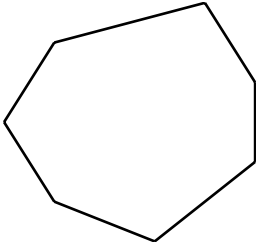


Üçgenler ve Dörtgenler - 1

1. Aşağıdakilerden hangisi çokgen değildir?



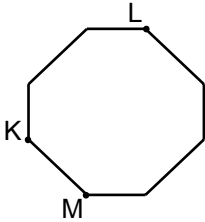
2.



Verilen şekle göre aşağıdakilerden hangisi yanlıştır?

- A) Çokgendir. B) Yedi köşesi vardır.  
C) Altı kenarı vardır. D) Yedigendir.

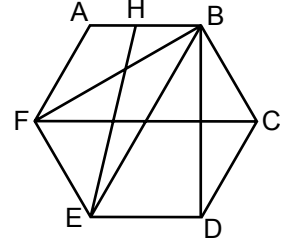
3.



Yukarıdaki sekizgen KL ve LM doğru parçaları boyunca kesilirse elde edilecek çokgenler aşağıdakilerden hangisidir?

- A) Üçgen - Üçgen - Beşgen  
B) Üçgen - Dörtgen - Beşgen  
C) Dörtgen - Dörtgen - Beşgen  
D) Üçgen - Dörtgen - Dörtgen

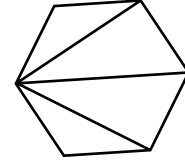
4.



Verilen şekle göre aşağıdakilerden hangisi çokgenin köşegenlerinden biri değildir?

- A) [EB] B) [BF] C) [BD] D) [EH]

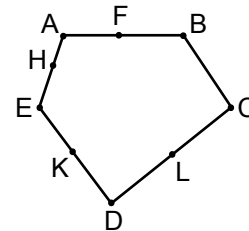
5.



Verilen şekilde aşağıdaki çokgenlerden hangisi yoktur?

- A) Dörtgen B) Beşgen  
C) Altıgen D) Yedigen

6.



Köşe noktaları A, B, C, D ve E olan yukarıdaki çokgende hangi iki nokta birleştirilirse oluşan doğru parçası köşegen olur?

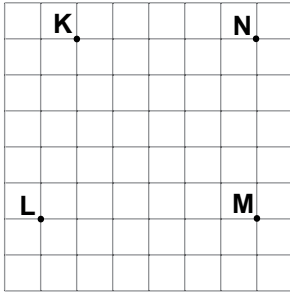
- A) A ile D B) F ile L  
C) C ile H D) B ile K

Üçgenler ve Dörtgenler - 1

7. Aşağıdaki ifadelerden hangisi doğrudur?

- A) Eşkenar üçgenin açılarından birinin ölçüsü  $90^\circ$  olabilir.
- B) Geniş açılı üçgenlerde iki iç açı geniş açı olamaz.
- C) Geniş açılı üçgenler eşkenar üçgen olabilir.
- D) Dik açılı üçgenler ikizkenar üçgen olamaz.

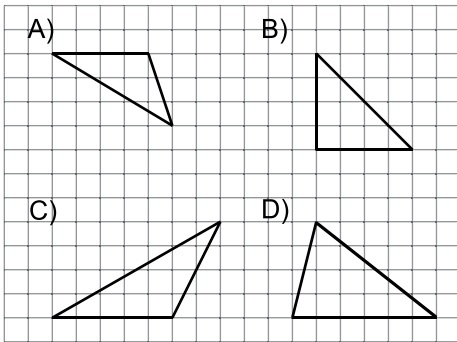
8.



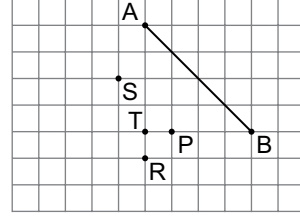
Kareli kâğıtta verilen noktalardan hangi üçünün köşe olduğu üçgen dar açılı üçgendir?

- A) K, L ile M
- B) K, L ile N
- C) K, M ile N
- D) L, M ile N

9. Aşağıdaki kareli kâğıtta çizilmiş üçgenlerden hangisi dar açılı üçgendir?



10.

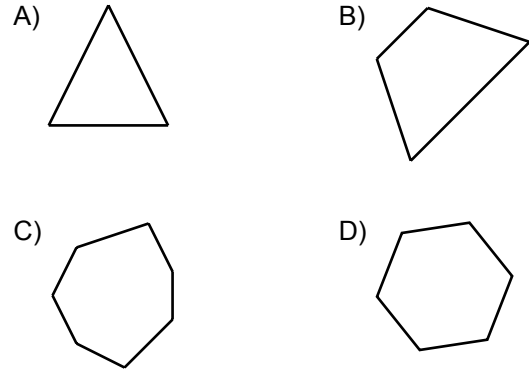


Kareli zeminde bir kenarı [AB] olan ikizkenar üçgen çizilecektir.

Bu ikizkenar üçgenin üçüncü köşesi verilen noktalardan hangisi olur?

- A) P
- B) R
- C) S
- D) T

11. Aşağıdaki çokgenlerden hangisinin köşegeni yoktur?



12. Aşağıdaki üçgenler kenarlarına göre sınıflandırıldığında hangisi diğerlerinden farklıdır?

