

HEPİMİZİN DÜNYASI - 1

1. Uluslararası ticarete; kara, demir, hava ve deniz yolunda farklı ulaşım araçları kullanılmaktadır. Maliyetinin düşük olması, çok büyük miktarların rahatlıkla taşınabilmesi dolayısıyla ülkeler arası ticarete en fazla deniz yolu tercih edilmektedir.

Metne göre uluslararası ticarete taşımacılıkla ilgili aşağıdakilerden hangisine ulaşamaz?

- A) Farklı ulaşım araçları kullanılmaktadır.
- B) Ulaşım araçlarından en pahalısı demir yoludur.
- C) En fazla tercih edilen deniz yoludur.
- D) Deniz yolunun maliyeti daha düşüktür.

2. Avrupa'da üretilmiş ülkemizde satışa sunulmamış bir ürünü Avrupa'dan sipariş ederken hangi iletişim ve ulaşım aracını kullanırsak daha hızlı getirmiş oluruz?

- A) İnternet-Havayolu
- B) Gazete-Demiryolu
- C) Telefon-Karayolu
- D) Faks-Denizyolu

3. I. Üretilen ürün internet ortamında satışa sunulursa daha fazla müşteriye ulaşır.
II. Telefon, faks, (belge geçer), gibi icatlar sadece iletişim amaçlı kullanılır.
III. Ülkeler arası ekonomik ilişkilerin kolaylaşmasında ulaşım araçlarının etkisi yoktur.

İletişim ve ulaşım teknolojisiyle ilgili yukarıda verilen bilgilerden hangisi yanlıştır?

- A) I ve II
- B) Yalnız I
- C) II ve III
- D) Yalnız III

4. Ülkeler arasında gerçekleşen dış ticaret kapsamında ihraç edilen veya ithal edilen malların taşınmasında hava, kara, deniz ve demir yollarının yanında boru hatları da kullanılmaktadır.

Buna göre aşağıdakilerden hangisi dış ticaret kapsamında kullanılan en hızlı ulaşım yoludur?

A) 	B) 
Karayolu	Havayolu
C) 	D) 
Demiryolu	Denizyolu

5. Üretilen ürünü satılabilmek için reklam gereklidir. Reklamların amacı az zamanda daha fazla alıcıya ürünü tanıtmaktır. **Üretici firma az zamanda daha fazla müşteriye ürünü tanıtmak için hangi iletişim aracını kullanmalıdır?**

- A) Telefon
- B) Fax
- C) Dergi
- D) Televizyon

6. Ulaşım araçları; hava, deniz, kara ve demir yolu olmak üzere dörde ayrılır.

Aşağıdaki araçlardan hangisi kara yolu taşıtlarının kullandığı yollardan değildir?

- A) Otoyol
- B) Bölünmüş yol
- C) Stabilize yol
- D) Demir yolu

MEB 2016 - 2017 • Ölçme, Değerlendirme ve Sınav Hizmetleri Genel Müdürlüğü • http://odsgm.meb.gov.tr/kurslar

HEPİMİZİN DÜNYASI - 1

7. Mal ve hizmetlerin alım satımı, alışveriş olarak adlandırılmaktadır. Yapılan alışveriş ülke sınırları içinde ise ___ (I) ___ ülke sınırları dışında ise ___ (II) ___ olarak adlandırılmaktadır.





Soruda verilen boşluklara sırası ile aşağıdakilerden hangisi getirilmelidir?

- | | | |
|----|------------|-------------|
| | <u>I</u> | <u>II</u> |
| A) | Alışveriş | Ekonomi |
| B) | İç ticaret | Dış ticaret |
| C) | İthalat | İhracat |
| D) | Ticaret | Ekonomi |

8. Bir ülkenin başka bir ülkeden mal satın almasına ne ad verilir?

- | | |
|------------|------------|
| A) İhracat | B) Ekonomi |
| C) Ticaret | D) İthalat |

9. Aşağıdakilerden hangisi Türkiye'nin ihraç ettiği tarım ürünlerinden biri değildir?

- | | |
|---|--|
| A) 
Muz | B) 
Fındık |
| C) 
İncir | D) 
Üzüm |

10.



Babür Devleti'nde Şah Cihan tarafından eşi Ercümen Banu'nun ölümü üzerine bu eser yaptırılmıştır. 4 minareli olan bu eserin kubbesinin yerden yüksekliği 82 metredir. Yapımında Osmanlı Devleti'nden de mimarların katıldığı bu binanın yapımında zümrüt, yakut, pırlanta gibi değerli taşlar kullanılmıştır.

Turist rehberi Ahmet tarafından yukarıda özellikleri verilen tarihi eser aşağıdakilerden hangisidir?

- | | |
|-------------------|-----------------|
| A) Keops Piramidi | B) Eyfel Kulesi |
| C) Tac Mahal | D) Çin Seddi |

11. Asya, Avrupa ve Afrika kıtalarının birbirine en çok yaklaştığı alanda bulunan Türkiye üzerinden birçok "boru hattı" geçmektedir.

Buna göre Türkiye üzerinden geçen "boru hatları" aşağıdakilerden hangisinin ticaretine yönelik kullanılmaktadır?

- | | |
|-----------|-----------|
| A) Kömür | B) Linyit |
| C) Petrol | D) Bor |

12. Aşağıda verilen kültürel öge ve bulunduğu il eşleştirmelerinden hangisi yanlıştır?

- | | <u>Kültürel Öge</u> | <u>Bulunduğu İl</u> |
|----|---------------------|---------------------|
| A) | Galata Kulesi | Ankara |
| B) | Yivli Minare | Antalya |
| C) | Saat Kulesi | İzmir |
| D) | Selimiye Camii | Edirne |