

ÜRETTİKLERİMİZ - I

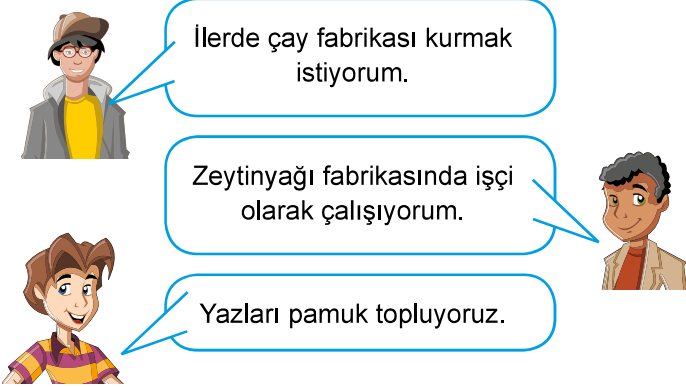
1. Güneydoğu Anadolu Bölgesinde yetiştirilen pamuk üretimi:

Yıllar	Pamuk Üretimi (Ton)
1995	225.000
1999	449.000
2010	464.000

Tabloya göre pamuk üretimi ile ilgili aşağıdaki bilgilerden hangisine ulaşılabılır?

- A) Üretim miktarı
- B) Üretim alanları
- C) İthalat ve ihracat oranı
- D) Tüketim miktarı

2.



İlerde çay fabrikası kurmak istiyorum.

Zeytinyağı fabrikasında işçi olarak çalışıyorum.

Yazları pamuk topluyoruz.

Yukarıda yaptıkları işler hakkında bilgi veren kişilerin sırasıyla aşağıdaki bölgelerden hangisinde iş bulma imkanları daha fazladır?

- A) Güneydoğu Anadolu - Karadeniz - Marmara
- B) Marmara - Güneydoğu Anadolu - Karadeniz
- C) Karadeniz - Marmara - Güneydoğu Anadolu
- D) Karadeniz - Güneydoğu Anadolu - Marmara

3. Millî İrade Ortaokulu öğrencileri yapmış olduğu etkinlik ile hem doğaya hem de ülke ekonomisine katkı sağlamışlardır.

Buna göre öğrencilerin yapmış olduğu etkinlik aşağıdakilerden hangisi olabilir?

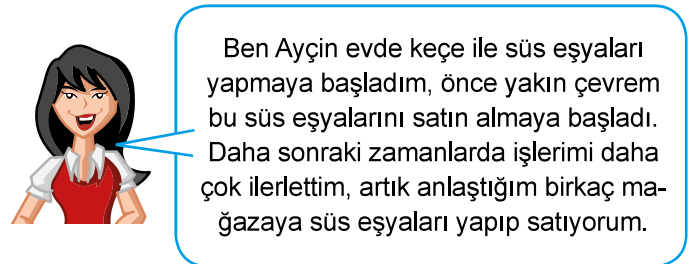
- A) İlçelerindeki çiftçilere yardım etmişlerdir.
- B) Atıkları toplayarak geri dönüşüme vermişlerdir.
- C) Okullarında kermes düzenlemişlerdir.
- D) Yaptıkları kolyeleri internet üzerinden satmışlardır.

4. Bölgede doğal ve beşerî ortamın uygun olması, bölgedeki ekonomik faaliyetleri çeşitlendirmiştir. Ekonomik faaliyetlerin çeşitli olması nedeniyle bölgeye iç göçler olmuş, bölgenin nüfusu artmıştır. Keten, ayçiçeği, zeytin, mısır, buğday bunlardan bazılarıdır. Bölgenin önemli şehirlerinden İstanbul, tüm Türkiye'nin ithalat, ihracat, bankacılık ve sigortacılık merkezi hâline gelmiştir.

Buna göre yukarıdaki metinde özellikleri sıralanan bölge aşağıdakilerden hangisidir?

- A) Marmara Bölgesi
- B) Ege Bölgesi
- C) Akdeniz Bölgesi
- D) İç Anadolu Bölgesi

5.



Ben Ayçin evde keçe ile süs eşyaları yapmaya başladım, önce yakın çevrem bu süs eşyalarını satın almaya başladı. Daha sonraki zamanlarda işlerimi daha çok ilerlettim, artık anlaştığım birkaç mağazaya süs eşyaları yapıp satıyorum.

Buna göre Ayçin Hanım ile ilgili,

- I. Üretime katkı sağlamıştır.
- II. Girişimciliği başarılı olmuştur.
- III. Ülke ekonomisine katkıda bulunmuştur.

durumlarından hangilerine ulaşılabilir?

- A) I ve II
- B) I ve III
- C) II ve III
- D) I, II ve III

ÜRETTİKLERİMİZ - I

6. Ülkemizin tahıl ambarı olarak bilinen bölgesi aşağıdakilerden hangisidir?

- A) Doğu Anadolu Bölgesi B) Karadeniz Bölgesi
C) Marmara Bölgesi D) İç Anadolu Bölgesi

7. Enerji ve Tabii Kaynaklar Bakanlığının hazırladığı "Enerji Hainm" projesi ile evlerde enerji verimliliğini artırarak ülke ekonomisine katkı sağlamayı planlamıştır.

Buna göre bu proje ile,

- I. Sağlıklı nesiller yetiştirmek
II. Halkı enerji konusunda bilinçlendirmek
III. Enerji tasarrufuna yönlendirmek

gibi hedeflerden hangilerine ulaşılacak istendiği söylenebilir?

- A) Yalnız I B) I ve II
C) II ve III D) I, II ve III

8. Aşağıda coğrafi bölgeler ve o bölgede en fazla yetiştirilen tarım ürünleri verilmiştir.

Buna göre yapılan eşleştirmelerden hangisi yanlıştır?

Bölgenin Adı	En Fazla Yetiştirilen Tarım Ürünü
A) Karadeniz	Çay
B) Ege	Muz
C) Doğu Anadolu	Kayısı
D) İç Anadolu	Buğday

9. Doğu Anadolu Bölgesi en fazla göç veren bölgelerimizden biridir.

Aşağıdakilerden hangisi bu bölgenin göç vermesinin en önemli nedenidir?

- A) Yazların kurak geçmesi
B) Maden çeşitliliğinin fazla olması
C) Otlakların geniş yer kaplaması
D) İş imkanlarının yeterli olmaması

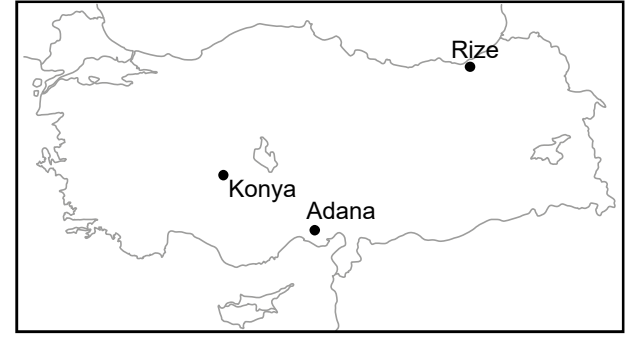
10. Karadeniz Bölgesi;

- Uzun bir kıyı şeridinde sahiptir.
- Bitki örtüsü ormandır.
- Her mevsim yağışlıdır.
- Engebeli yer şekillerine sahiptir.

Verilen özellikler dikkate alındığında aşağıdaki ekonomik faaliyetlerden hangisinin bölgede daha az gelişmesi beklenir?

- A) Balıkçılık B) Ormanlık
C) Deniz Turizmi D) Kağıt Sanayi

11.



Haritada verilen yerler ile bu yerlerde yoğun olarak yapılan sanayi faaliyetleri hangi seçenekte doğru eşleştirilmiştir?

Konya	Adana	Rize
A) Şeker fab.	Dokuma fab.	Çay fab.
B) Çay fab.	Dokuma fab.	Şeker fab.
C) Şeker fab.	Çay fab.	Dokuma fab.
D) Dokuma fab.	Şeker fab.	Dokuma fab.

MEB 2016 - 2017