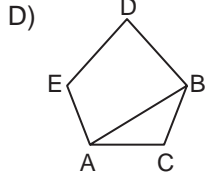
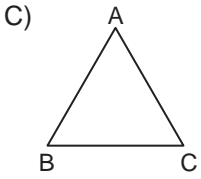
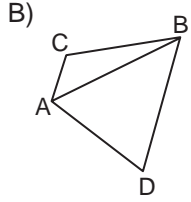
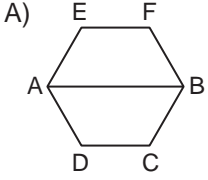
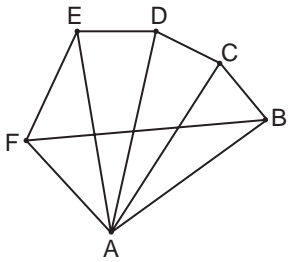


ÜÇGENLER VE DÖRTGENLER - 1

1. Aşağıdaki çokgenlerden hangisinde AB doğru parçası köşegen değildir?



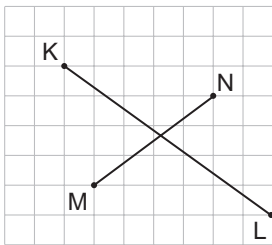
2.



Aşağıdaki doğru parçalarından hangisi şekildeki çokgenin köşegenlerinden biri değildir?

- A) [AE] B) [AD] C) [AB] D) [FB]

3.



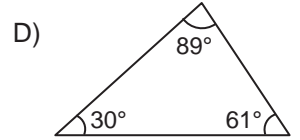
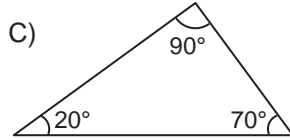
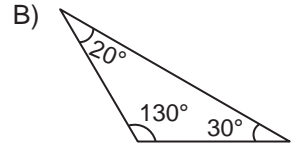
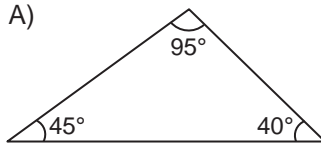
Kareli zeminde tüm köşegenleri verilen çokgen için aşağıdakilerden hangisi yanlıştır?

- A) Dört iç açısı vardır.
B) Dört köşesi vardır.
C) Dört köşegeni vardır.
D) KNLM dörtgeni olarak isimlendirilebilir.

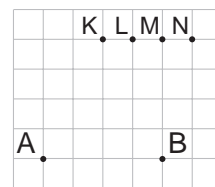
4. Aşağıdakilerden hangisi yanlıştır?

- A) Üçgenin köşegeni yoktur.
B) KLMN dörtgeninin kenarlarından biri [LN] 'dır.
C) Beşgenin 5 tane köşesi vardır.
D) Sekizgenin 8 tane iç açısı vardır.

5. Aşağıdakilerden hangisi dar açılı üçgendir?



6.



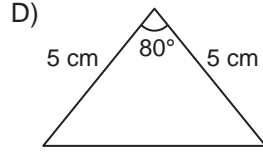
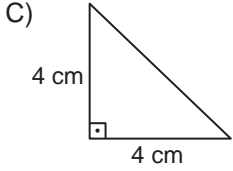
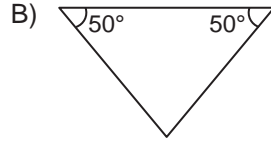
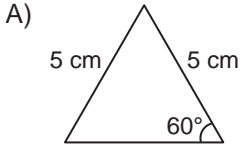
Kareli zeminde verilen A, B, K, L, M, N noktaları ile geniş açılı üçgen çizilecektir.

Bu geniş açılı üçgenin köşelerinden ikisi A ve B noktaları olduğuna göre üçüncü köşesi aşağıdakilerden hangisidir?

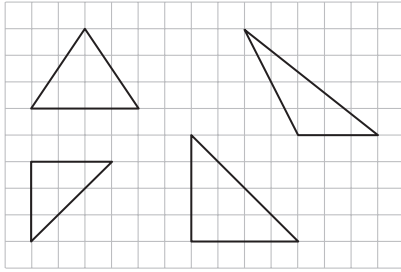
- A) K B) L C) M D) N

ÜÇGENLER VE DÖRTGENLER - 1

7. Aşağıdakilerden hangisi eşkenar üçgendir?



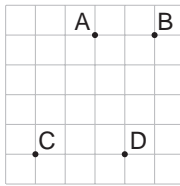
8.



Kareli zeminde verilen üçgenlerden kaç tanesi ikizkenar üçgendir?

- A) 1 B) 2 C) 3 D) 4

9.

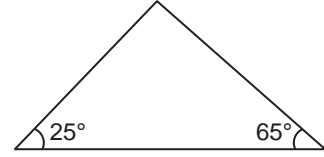


Kareli zeminde verilen A, B, C, D noktaları ile köşeleri bu noktalardan üçü olan ikizkenar üçgen çizilecektir.

Bu ikizkenar üçgenin köşe noktaları aşağıdakilerden hangisidir?

- A) A, B ile C B) A, B ile D
C) A, C ile D D) B, C ile D

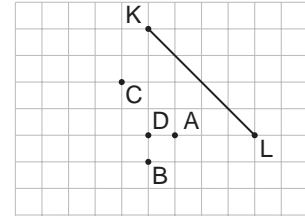
10.



Yukarıda iki iç açısı verilen üçgenin çeşidi nedir?

- A) Dik açılı üçgen
B) Dar açılı üçgen
C) Geniş açılı üçgen
D) İkizkenar üçgen

11.



Kareli zeminde bir kenarı [KL] olan ikizkenar üçgen çizilecektir.

Bu ikizkenar üçgenin üçüncü köşesi A, B, C, D noktalarından hangisi olur?

- A) A B) B C) C D) D

12. Aşağıdaki üçgenlerden hangisi çizilemez?

- A) Geniş açılı ikizkenar üçgen
B) Geniş açılı çeşitkenar üçgen
C) Dik açılı eşkenar üçgen
D) Dar açılı ikizkenar üçgen