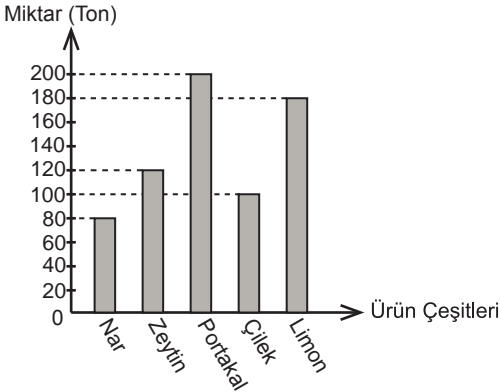


VERİ ANALİZİ VE YORUMLAMA

Grafik: Akdeniz Bölgesi'nde Üretilen Ürün Çeşitleri



Yukarıdaki grafikte Akdeniz Bölgesi'nde üretilen ürün miktarının ürünlerin çeşitlerine göre dağılımı verilmiştir.

(1., 2., ve 3. soruları yukarıda verilen grafiğe göre cevaplayınız.)

1. Üretilen ürünler miktarına göre en azdan en çoğa doğru sıralandığında baştan 4. ürün hangisidir?

- A) Zeytin B) Nar
C) Çilek D) Limon

2. Verilen bilgilere göre hangi ürün başka bir ürünün iki katı kadar üretilmiştir?

- A) Nar B) Zeytin
C) Portakal D) Limon

3. Verilen bilgilere göre aşağıdakilerden hangisi doğrudur?

- A) Portakal miktarından nar miktarı çıkarılırsa zeytin miktarı bulunur.
B) En fazla üretilen ürün limondur.
C) En az üretilen ürün zeytindir.
D) Çilek limondan 80 ton fazla üretilmiştir.

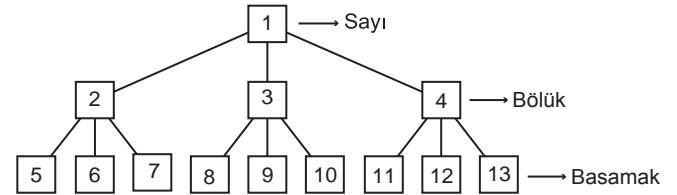
4. Tablo: Derslere Göre Başarı Puanları

Dersler	Sınıf Ortalaması	Ezgi'nin Notu
Matematik	63	59
Türkçe	72	87
Fen Bilimleri	71	69
Sosyal Bilgiler	79	74
İngilizce	64	91

Bir derste sınıf ortalamasının altında not almak başarısızlık olarak kabul edilmektedir. Yukarıdaki tabloda bir sınıfın derslere göre ortalaması ve bir öğrencinin notları görülmektedir. Buna göre bu öğrenci hangi derslerden başarısız olmuştur?

- A) Matematik - İngilizce - Fen Bilimleri
B) Türkçe - Fen Bilimleri - Sosyal Bilgiler
C) İngilizce - Türkçe - Fen Bilimleri
D) Matematik - Fen Bilimleri - Sosyal Bilgiler

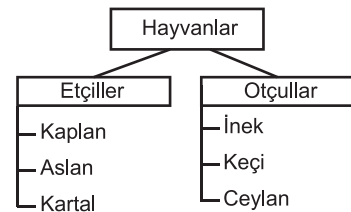
5.



Yukarıda verilen ağaç şemasında numaralandırılmış kutular sayıyı, sayıya ait bölükleri ve basamakları göstermektedir. Buna göre aşağıdakilerden hangisi doğrudur?

- A) 8 numaralı kutu yüz binler basamağıdır.
B) 2 numaralı kutu milyonlar basamağıdır.
C) 4 numaralı kutu binler bölüğüdür.
D) 11 numaralı kutu yüzler bölüğüdür.

6.

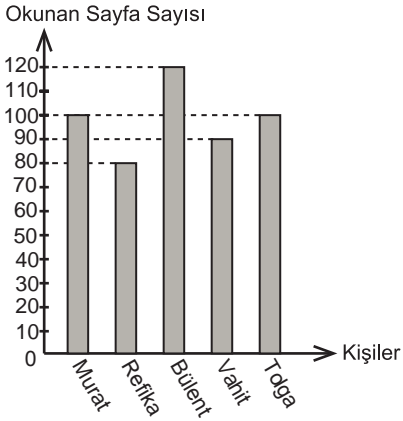


Yukarıdaki ağaç şemasına göre aşağıdaki hayvanlardan hangisi etçil değildir?

- A) Kaplan B) Ceylan
C) Aslan D) Kartal

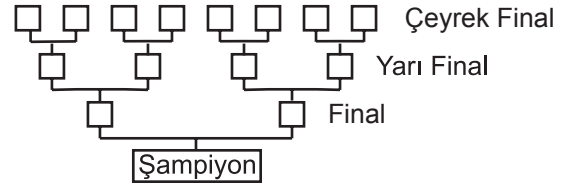
VERİ ANALİZİ VE YORUMLAMA

Grafik: Okunan Sayfa Sayılarının Kişilere Göre Dağılımı



Yukarıdaki grafikte 5 kişinin okudukları kitap sayfa sayıları gösterilmiştir.

(7., 8. ve 9. soruları yukarıdaki grafiğe göre cevaplayınız.)



Yukarıdaki ağaç şemasında her bir kutu satranç turnuvasında oynanan oyunun taraflarını göstermektedir. Aşağıdaki tabloda yapılan maçların sonuçları görülmektedir.

Tablo: Satranç Turnuvası Karşılaşma Sonuçları

Kerim - Dilan : 1 - 0	Dilan - Emel : 1 - 0
Aylin - Orhan : 0 - 1	Kerim - Fatih : 1 - 0
Orhan - Kerim : 0 - 1	Dilan - Ceyhun : 1 - 0
Banu - Ceyhun : 0 - 1	

(10., 11. ve 12. soruları yukarıdaki şema ve tabloya göre cevaplayınız.)

7. En çok sayfa okuyan kimdir?

- A) Vahit B) Bülent
C) Refika D) Tolga

8. Toplam okunan sayfa sayısı kaçtır?

- A) 390 B) 410
C) 450 D) 490

9. En fazla sayfa okuyan kişi en az sayfa okuyan kişiden kaç sayfa fazla okumuştur?

- A) 20 B) 30
C) 40 D) 50

10. Aşağıdakilerden hangisi yarı finale çıkmaya hak kazanmıştır?

- A) Aylin B) Ceyhun
C) Emel D) Banu

11. Aşağıdaki müsabakalardan hangisi yarı finalde oynanmıştır?

- A) Ceyhun - Dilan B) Kerim - Fatih
C) Dilan - Emel D) Aylin - Orhan

12. Final müsabakası kimler arasında oynanmıştır?

- A) Kerim - Orhan B) Dilan - Ceyhun
C) Kerim - Dilan D) Emel - Dilan

MEB 2016 - 2017