

5. MATEMATİK



SINIF Uzunluk Ölçüleri

1. 7 metre 75 santimetre kaç santimetredir?

- A) 7750 B) 775
C) 77,5 D) 7,75

2. Aşağıdaki eşitliklerden hangisi yanlıştır?

- A) 4000 m = 4 km B) 3 km = 300 m
C) 200 cm = 2 m D) 1 m = 100 cm

3. I. 4 cm = mm
II. 20 mm = cm

Verilen eşitliklerde boşluklara yazılması gereken sayılar aşağıdakilerden hangisidir?

- | | I | II |
|----|-----|-----|
| A) | 40 | 2 |
| B) | 40 | 200 |
| C) | 400 | 2 |
| D) | 400 | 200 |

4. 4325 metre koşan bir kişi kaç kilometre koşmuştur?

- A) 432,5 B) 43,25
C) 4,325 D) 0,4325

5. Aşağıda yükseklikleri verilen kamyonlardan hangisi 4,5 metre yüksekliğe sahip tünelden geçemez?

- A) 340 cm B) 4,1 m
C) 4000 mm D) 0,005 km

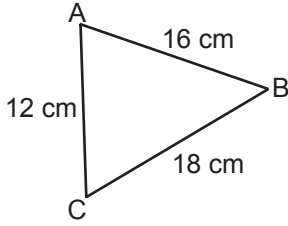
6.



Şekildeki kurşun kalemin uzunluğu kaç santimetredir?

- A) 21 B) 18,3
C) 15,6 D) 12,9

7.



Yukarıdaki ABC üçgeninin çevresi kaç santimetredir?

- A) 56
B) 52
C) 48
D) 46

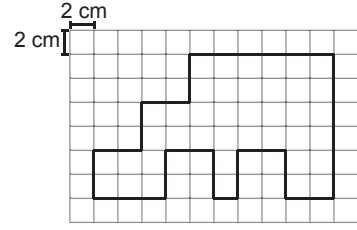
8. Çevresi 36 cm olan karenin bir kenarının uzunluğu kaç santimetredir?

- A) 8
B) 9
C) 10
D) 12

9. Aşağıdaki şekillerden hangisinin çevresi bir kenarı 6 cm olan karenin çevresine eşittir?

- A) B)
- C) D)

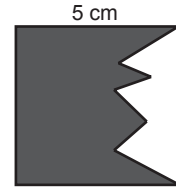
10.



Kareli kağıtta verilen şeklin çevresi kaç santimetredir?

- A) 84
B) 82
C) 80
D) 78

11.



Kenar uzunluğu 5 cm olan karenin içerisindeki boyalı bölgenin çevresi 24 cm olduğuna göre diğer bölgenin çevresi kaç santimetredir?

- A) 14
B) 12
C) 10
D) 8

12. Aşağıda noktalı zemin üzerinde verilen dikdörtgenlerden hangisinin çevresi diğerlerinden farklıdır?

- A) B)
- C) D)



Adı :

Soyadı :

Sınıf :

No :

1	2	3	4	5	6	7	8	9	10	11	12
A	A	A	A	A	A	A	A	A	A	A	A
B	B	B	B	B	B	B	B	B	B	B	B
C	C	C	C	C	C	C	C	C	C	C	C
D	D	D	D	D	D	D	D	D	D	D	D

Doğru :

Yanlış :

Boş :

Puan :