

SINIF Canlıları Tanıyalım 2

1. Aşağıdakilerden hangisinde üreme tipi diğerlerinden farklıdır?

- A) Gül B) Lale C) Eğrelti otu D) Papatya

2. Aşağıda verilen canlılardan hangisi hem omurgalı, hem de memeliler grubuna girer?

A)



Yılan

B)



Balina

C)



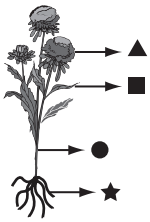
Kaplumbağa

D)



Timsah

3.



Bitkinin bölümleri yandaki gibi gösterilmiştir. Buna göre verilen bilgilerden hangisi yanlıştır?

- A) ▲ Bitkinin üreme organıdır.
B) ■ Bitkide fotosentezde görevlidir.
C) ● Bitkide besin üretmede görevlidir.
D) ★ Toprakta su ve mineralleri alır.

4. 1. Omurgalıdır.
2. Yavrularını sütle besler.
3. Vücutları kılla kaplıdır.

Verilen özelliklere sahip canlı aşağıdakilerden hangisi olabilir?

- A) Hamsi B) Serçe C) Kertenkele D) Koyun

5. • Bitkinin üreme organı - - - - .
• - - - - bitkinin dik durmasını sağlar.
• Fotosentezle besin üretilmesini sağlayan kısım - - - - .

Verilen açıklamalarda boş bırakılan kısımları tamamlamak için aşağıdakilerden hangisi kullanılmaz?

- A) Kök B) Gövde C) Yaprak D) Çiçek

6.



I



II



III



IV

Verilen canlıların yaşama ortamları aşağıdakilerden hangisinde doğru verilmiştir?

- | | I | II | III | IV |
|----|-------|--------|----------|--------|
| A) | Deniz | Toprak | Çöl | Orman |
| B) | Deniz | Orman | Toprak | Çöl |
| C) | Orman | Deniz | Kutuplar | Deniz |
| D) | Deniz | Orman | Çöl | Toprak |

Canlıları Tanıyalım 2

7.



Eğrelti Otu



Papatya

Verilen özelliklerden hangisi eğrelti otu ve papatya için ortak bir özellik değildir?

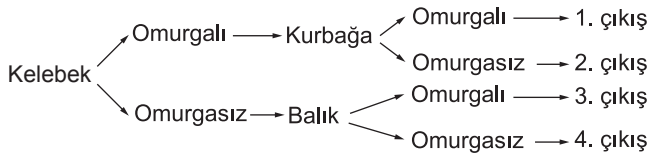
- A) Fotosentez yapma
B) Tohumla üreme
C) Solunum yapma
D) Terleme yapma

8. • Karada yaşarlar.
• Derileri pullarla kaplıdır.
• Yumurta ile çoğalırlar.
• Yavrularını sütle beslerler.
• Vücutları tüylerle kaplıdır.

Verilen özelliklerden kaç tanesi sürüngenlere ait bir özelliktir?

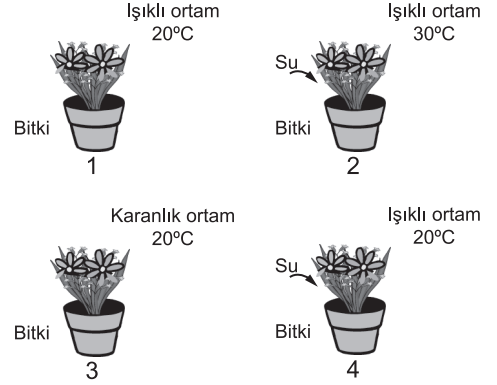
- A) 1 B) 2 C) 3 D) 4

9. Verilen diyagramda canlıların omurgalı ve omurgasız olmalarına göre sınıflandırarak ilerlediğimizde hangi çıkışa ulaşırsınız?



- A) 1. çıkış B) 2. çıkış
C) 3. çıkış D) 4. çıkış

10. Yiğit, bitkilerin besin üretmek ve canlılığını devam ettirmek için suya ihtiyaç duyduğunu ispatlamak istiyor. Bunun için düzeneklerden hangilerini kullanmalıdır?



- A) 1 ve 2 B) 1 ve 4 C) 2 ve 3 D) 3 ve 4

11. Tabloda canlıların özelliklerinden bazıları yanlış verilmiştir.

Canlı	Üreme şekli	Yavru bakımı	Beslenme şekli
Balık	Yumurta ile	Yok	Otçul, etçil
Kuş	Tohum ile	Var	Etçil
Koyun	Doğurarak	Yok	Etçil
Kurbağa	Yumurta ile	Yok	Etçil

Tabloya göre hangisi doğru verilen bir özelliktir?

- A) Kuşun üreme şekli
B) Koyunun beslenme şekli
C) Balığın üreme şekli
D) Koyunun yavru bakımı

12. Aşağıda verilen canlılardan hangisinin beslenme şekli insanların beslenme şekliyle aynıdır?

- A) Ayı B) İnek C) Kanguru D) Kartal



Adı :
Soyadı :
Sınıf :
NO :

1	2	3	4	5	6	7	8	9	10	11	12
A	A	A	A	A	A	A	A	A	A	A	A
B	B	B	B	B	B	B	B	B	B	B	B
C	C	C	C	C	C	C	C	C	C	C	C
D	D	D	D	D	D	D	D	D	D	D	D

Doğru :
Yanlış :
Boş :
Puan :